


# GEOGRAFIA ESO



# 3

# EL TEMPS

**NIVELL INICIAL**


NOM \_\_\_\_\_

DATA \_\_\_\_\_


IES \_\_\_\_\_

EL TEMPS


Observa:




fa sol




plou




fa vent




neva



hi ha boira



cau pedra










hi ha nivols

Quin temps fa avui?


Dibuixa

Avui.....

Dibuixa i copia tipus de temps:



### LA TEMPERATURA




Copia:

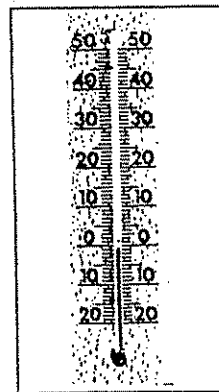


EL TERMÒMETRE

EL .....

El termòmetre mesura els graus de temperatura



Quants graus indiquen aquests termòmetres?



Girona ..... graus

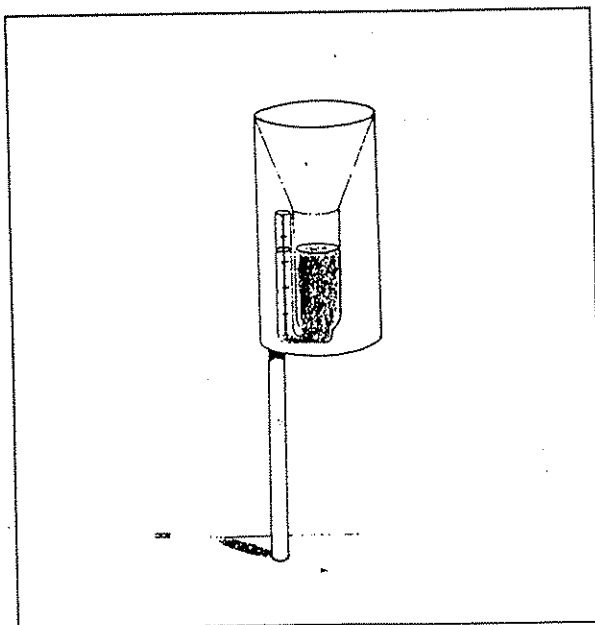
Barcelona ..... graus

Vielha ..... graus

### LES PRECIPITACIONS

Observa i copia:

El pluviòmetre mesura la quantitat de pluja caiguda.



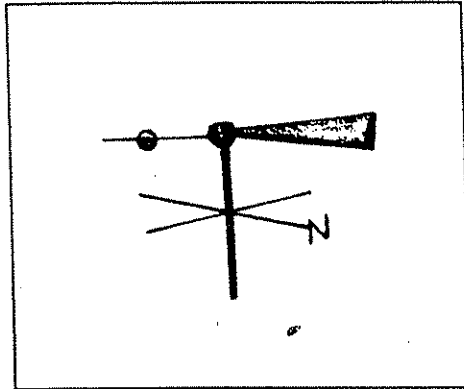
EL PLUVIÒMETRE

EL .....

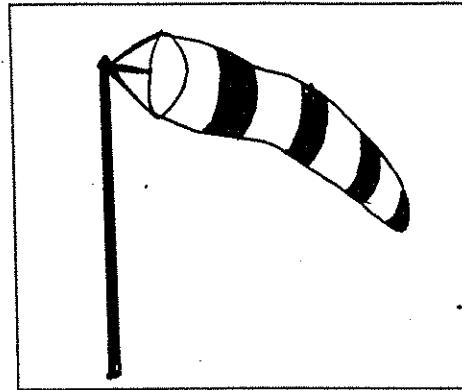
El pluviòmetre

EL VENT

FA VENT QUAN L'AIRE ES MOU.



EL PENELL



LA MÀNEGA D'AIRE

El penell i la mànega d'aire ens indiquen la direcció del vent.

EL PENELL I LA MÀNEGA D'AIRE ENS INDIQUEN LA DIRECCIÓ DEL VENT

Ordena:

OIRAB.....boira.....

UEN.....

JAPLU.....

OLS.....

VOLSÚN.....

ENTV.....

PERAD.....

OUPL.....

Dibuixa i escriu:

<p>PLUVIÒMETRE</p> <p>.....</p>	<p>TERMÒMETRE</p> <p>.....</p>
<p>PENELL</p> <p>.....</p>	<p>MÀNEGA D'AIRE</p> <p>.....</p>

## Relaciona:

Temperatura

pluviòmetre

Precipitacions

mànega d'aire

Vent

termòmetre

## Encercla les paraules relacionades amb el temps:

calor

llapis

nivols

temperatura

cotxe

pluja

neu

pantalons

penell

graus

goma

huracà

fred

termòmetre

ordinador

boira

## Observa:

FA CALOR




FA FRED



Copia i dibuixa:


A l'estiu fa calor.

.....



A l'hivern fa fred.

.....



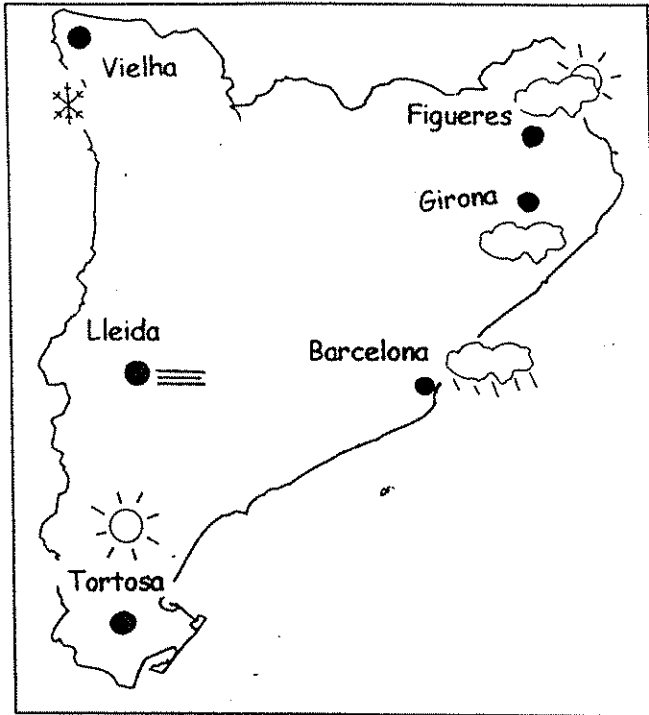
Posa les paraules al seu lloc:

bufanda, jersei, abric, guants, pantalons curts, gorra,  
estufa, radiador, samarreta de màniga curta, anorac,  
banyador, sandàlies, finestra oberta, vestit sense mànigues.

FA CALOR	FA FRED



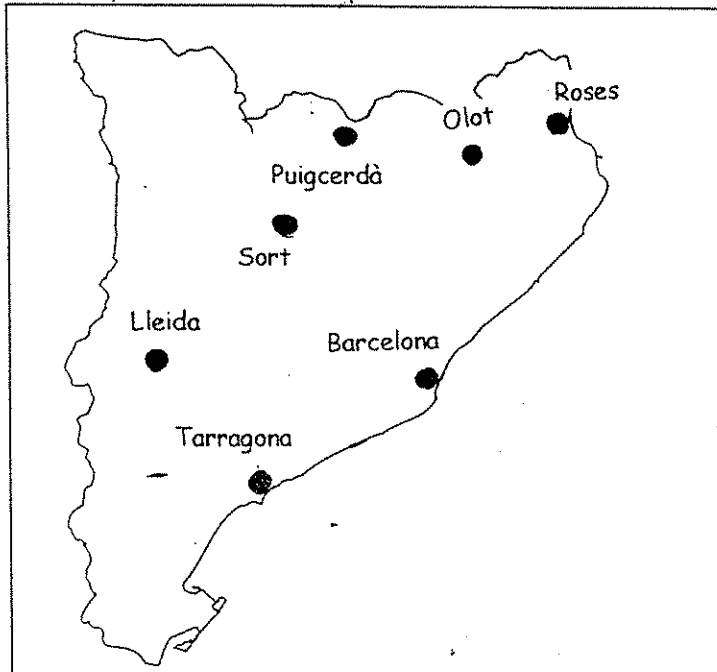
LLEGIM ELS MAPES DEL TEMPS



Contesta:

- A Girona .....
- A Figueres .....
- A Lleida .....
- A Tortosa .....
- A Barcelona .....
- A Vielha .....


Completa el mapa:



Ciutat	Temps
Olot	pluja
Barcelona	nívols
Sort	tempesta
Lleida	boira
Tarragona	sol
Roses	sol-núvol
Puigcerdà	neu

Copia cada frase en el lloc corresponent.

- ✓ Hi ha neu a les muntanyes.
- ✓ Els arbres tenen fulles.
- ✓ Els nens porten gorra i bufanda.
- ✓ Els nens porten pantalons curts.
- ✓ Fa sol.
- ✓ Fa fred.
- ✓ Fa calor.



.....

.....

.....


.....

.....

.....

.....

.....



## TAULA D'OBSERVACIÓ DEL TEMPS

MES ..... = .....



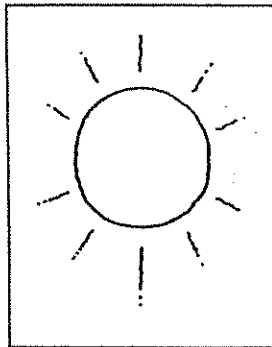
ANY .....

DIA	DIA DE LA SETMANA	CEL	PRECIPITACIO	VENT	TEMPERATURA
1					
2					
3					
4					
5					
6					
7					
8					
9					
10					
11					
12					
13					
14					
15					
16					
17					
18					
19					
20					
21					
22					
23					
24					
25					
26					
27					
28					
29					
30					
31					

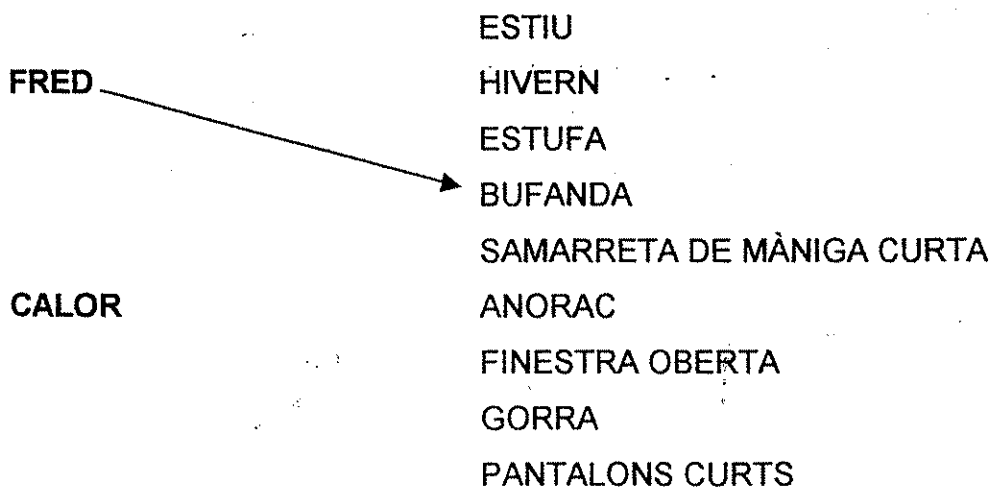
= LLEGENDA:

ACTIVITATS D'AVALUACIÓ:

Quin temps fa?



Relaciona:



Completa:

penell, pluviòmetre, termòmetre,



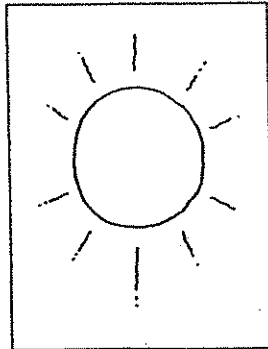
Amb el ..... mesurem la quantitat de pluja.

Amb el ..... mesurem la temperatura.

Amb el ..... podem saber la direcció del vent.

**ACTIVITATS D'AVUACIÓ:**

1. Quin temps fa?



.....

2. Explica què és...

- Una tempesta .....
- El vent .....
- Un huracà .....
- La neu .....
- Els núvols .....

3. Completa

penell, pluviòmetre, termòmetre,

Amb el ..... mesurem la quantitat de pluja.

Amb el ..... mesurem la temperatura.

Amb el ..... podem saber la direcció del vent.

4. Fes un gràfic de temperatures amb aquestes dades:

Matarò	dilluns	dimarts	dimecres	dijous	divendres	dissabte	diumenge
14 hores	10°	14°	8°	4°	1°	17°	9°

