

GEOGRAFIA ESO



7


ORIENTACIÓ I REPRESENTACIÓ DE LA TERRA **NIVELL INICIAL**

NOM _____

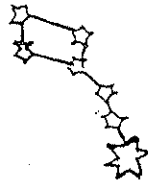
DATA _____

IES _____


1. Observa, pinta i copia:



EL SOL



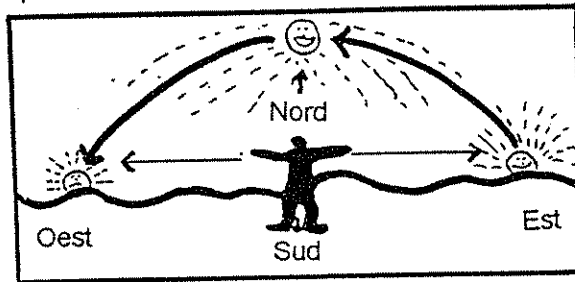
L'ESTEL POLAR



LA BRÚIXOLA

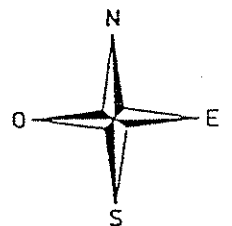
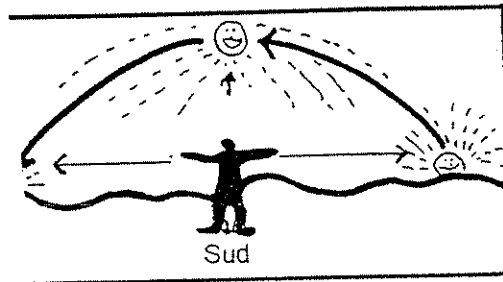
El sol, l'estel polar i la brúixola ajuden a orientar-nos.

2. Observa i copia:



Els punts cardinals són: Nord, Sud, Est i Oest.

3. Posa el nom dels punts cardinals i escriu-los a sota:

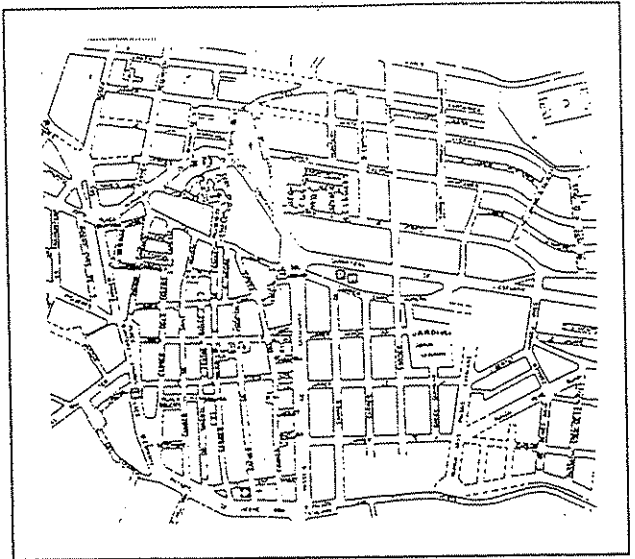


N

4. Observa, copia i dibuixa:

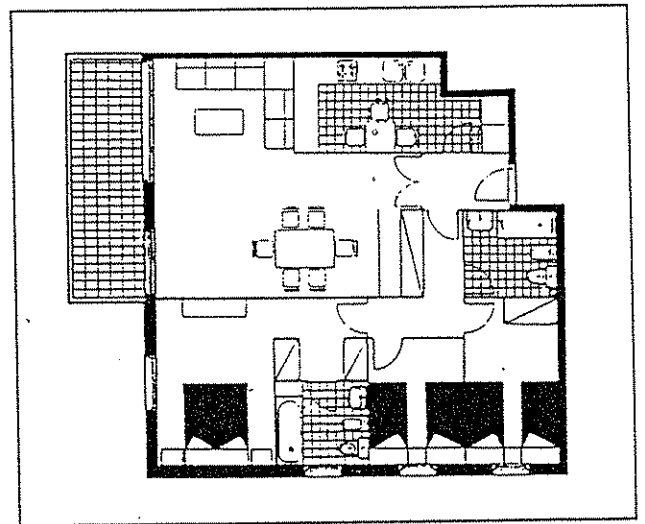
AIXÒ ÉS EL PLÀNOL D'UN POBLE.

.....
El plànol d'un poble.
.....




AIXÒ ÉS EL PLÀNOL D'UN PIS.

.....
El plànol d'un pis.
.....



AIXÒ ÉS EL PLÀNOL DE LA MEVA CLASSE.

.....
El plànol de la meva classe.
.....

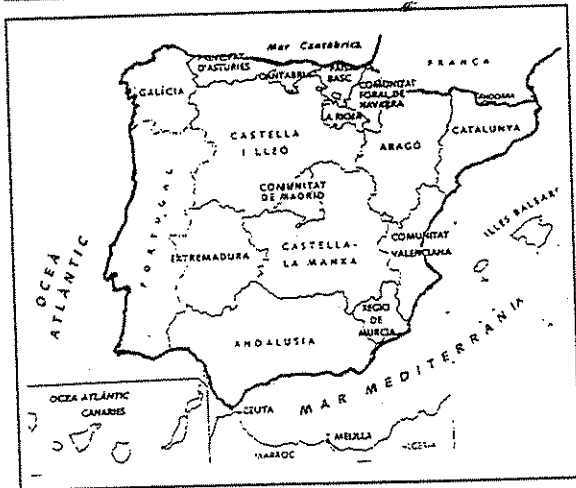


5. Observa i dibuixa el mapa del teu país:



AQUEST ÉS EL MAPA DE CATALUNYA.

El mapa de Catalunya.




AQUEST ÉS EL MAPA D'ESPANYA

El mapa d'Espanya.

AQUEST ÉS EL MAPA DEL MEU PAÍS. ÉS EL MAPA DE

El mapa de




6. **Observa i copia:**

ÉS UNA ESFERA TERRESTRE O GLOBUS TERRAQÜI.

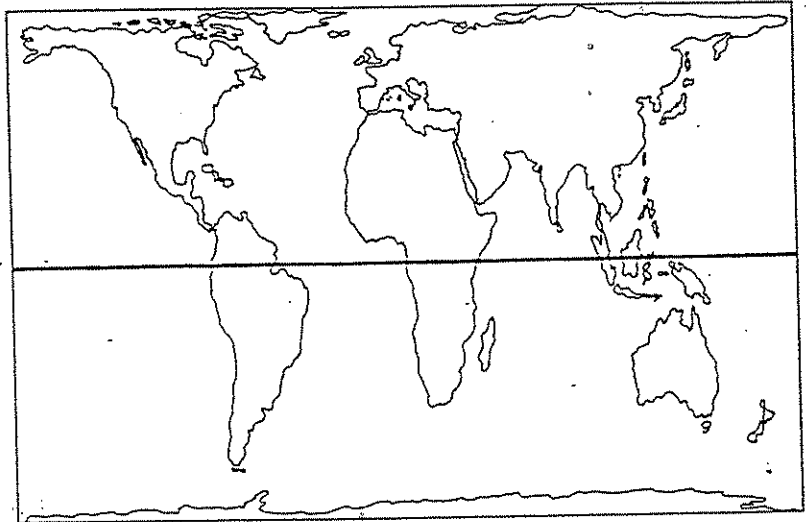
Es una esfera terrestre.

Es un globus terraqüü.



ÉS UN PLANISFERI.

Es un planisferi.



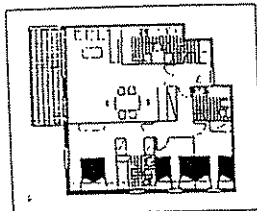
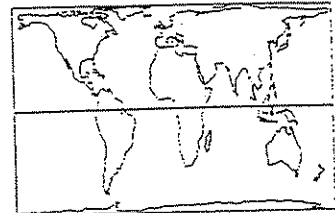
7. **Relaciona:**

ESFERA

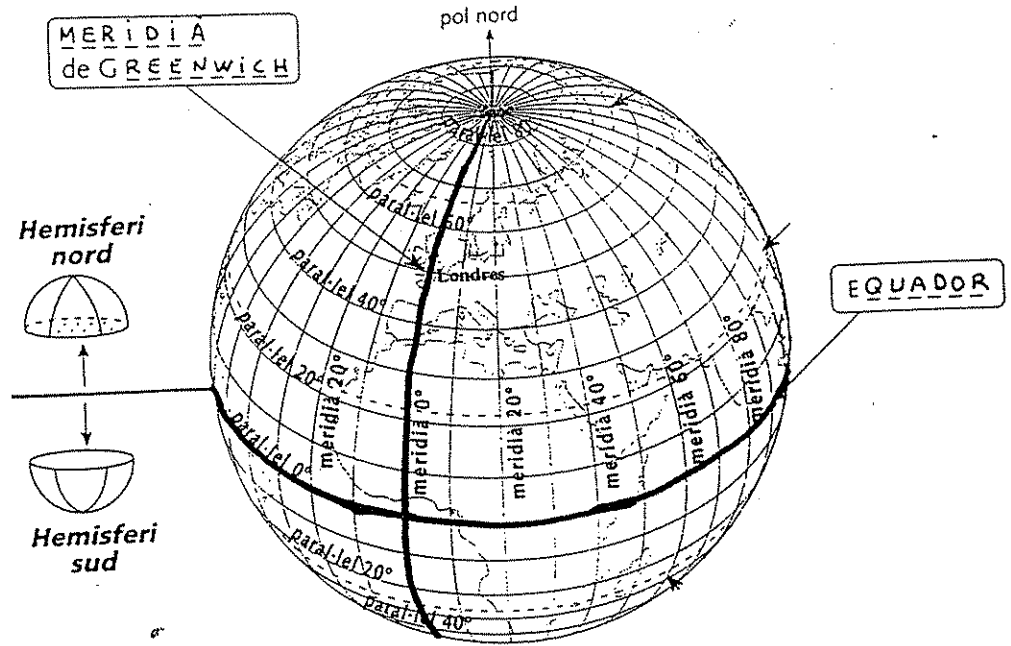
MAPA

PLÀNOL

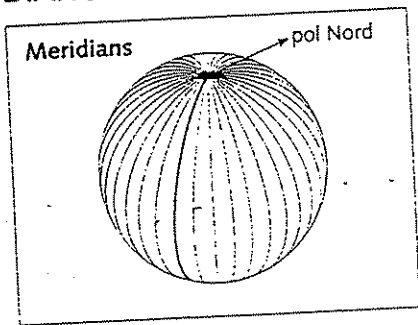
PLANISFERI



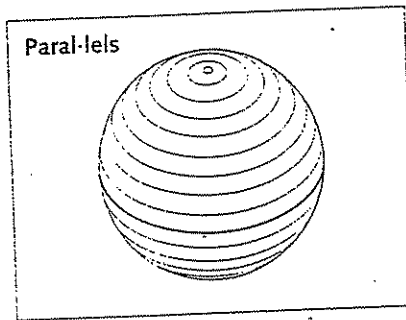
8. Observa:



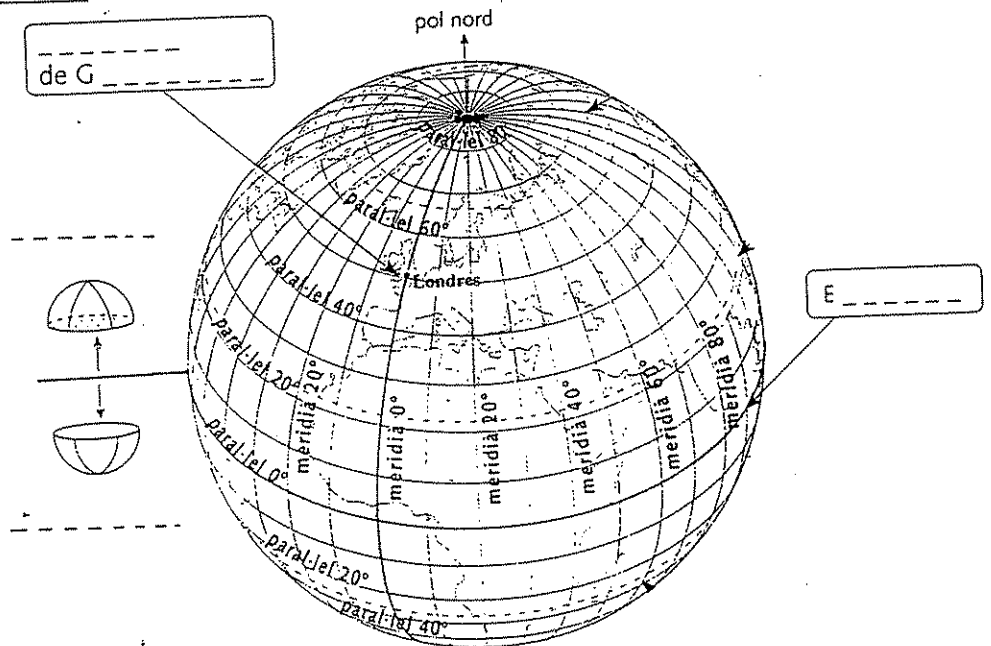
MERIDIANS



PARAL·LELS



9. Posa noms i pinta els meridians vermells i els parables verds:



8. Ordena aquestes lletres i relaciona:

LETSE POLRA

.....

XOLABRÚI

.....

PNUST CARNALSDI

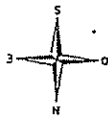

.....

SEFEAR

.....

PAAM

.....



9. Mots encruats:

The crossword puzzle grid consists of the following structure of empty cells:

- A horizontal row of 6 cells at the top.
- A vertical column of 4 cells on the left side, starting from the second cell of the top row.
- A vertical column of 4 cells on the right side, starting from the top cell.
- A horizontal row of 4 cells at the bottom, starting from the second cell of the left column.

Icons placed around the grid include a star at the top left, a globe to the left of the second cell of the top row, a pocket watch at the top right, a sun at the bottom center, and a map of Spain at the bottom left.