


GEOGRAFIA ESO



8

CATALUNYA

NOM _____

DATA _____

IES _____

CATALUNYA

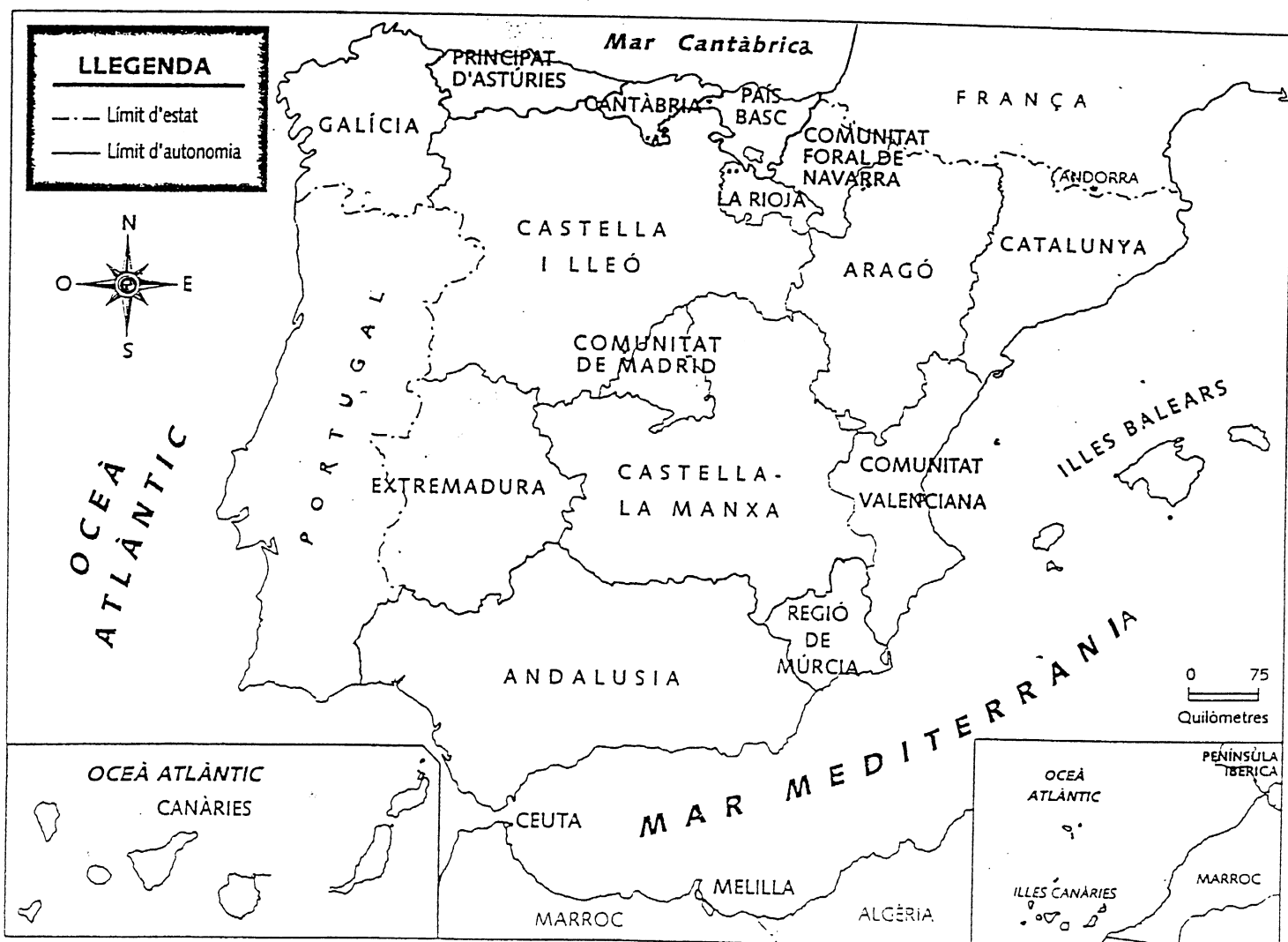
Catalunya és una de les disset comunitats autònomes de l'Estat espanyol. Té forma de triangle.

La superfície actual de Catalunya és de 31.895 Km².

Limita al nord amb França i Andorra, a l'est amb la mar Mediterrània, a l'oest amb Aragó i al sud amb la Comunitat Valenciana.

ACTIVITATS

1. Observa el mapa d'Espanya i pinta Catalunya.
2. Pinta la mar Mediterrània.



Catalunya es divideix en 41 comarques. S'agrupen en 4 províncies: **Barcelona, Tarragona, Lleida i Girona.**

- ✓ Aquí tens la llista de les províncies de Catalunya amb les seves comarques i les seves capitals:

PROVÍNCIES	COMARQUES	CAPITALS	
GIRONA	Alt Empordà	Figueres	
	Baix Empordà	La Bisbal d'Empordà	
	Gironès	Girona	
	La Selva	Santa Coloma de Farners	
	Cerdanya	Puigcerdà	
	Ripollès	Ripoll	
	Garrotxa	Olot	
	Pla de l'Estany	Banyoles	
	BARCELONA	Maresme	Mataró
Barcelonès		Barcelona	
Baix Llobregat		Sant Feliu de Llobregat	
Garraf		Vilanova i la Geltrú	
Alt Penedès		Vilafranca del Penedès	
Anoia		Igualada	
Solsonès		Solsona	
Berguedà		Berga	
Osona		Vic	
Vallès Oriental		Granollers	
Vallès Occidental		Sabadell	
Bages		Manresa	
TARRAGONA		Baix Penedès	El Vendrell
		Tarragonès	Tarragona
	Baix Camp	Reus	
	Baix Ebre	Tortosa	
	Montsià	Ampostà	
	Terra Alta	Gandesa	
	Ribera d'Ebre	Móra d'Ebre	
	Priorat	Falset	
	Conca de Barberà	Montblanc	
	Alt Camp	Valls	
LLEIDA	Andorra	Andorra la Vella	
	Alt Urgell	La Seu d'Urgell	
	Segarra	Cervera	
	Urgell	Tàrraga	
	Les Garrigues	Les Borges Blanques	
	Segrià	Lleida	
	Pla d'Urgell	Mollerussa	
	La Noguera	Balaguer	
	Pallars Jussà	Tremp	
	Alta Ribagorça	El Pont de Suert	
	Vall d'Aran	Vielha	
	Pallars Sobirà	Sort	

- ✓ Observa el mapa de les comarques i capitals catalanes.
- ✓ Pinta les comarques de la província de Girona.



ACTIVITATS

3. Indica quina és la capital de les comarques catalanes:

COMARQUES DE CATALUNYA	CAPITALS DE COMARCA
Alt Empordà	
Baix empordà	
Gironès	
La Selva	
Maresme	
Barcelonès	
Baix Llobregat	
Garraf	
Baix Penedès	
Tarragonès	
Baix Camp	
Baix Ebre	
Montsià	
Terra Alta	
Segrià	
La Noguera	
Pallars Jussà	
Alta Ribagorça	
Val d'Aran	
Pallars Sobirà	
Andorra	
Cerdanya	
Ripollès	
Garrotxa	
Pla de d'Estany	
Vallès Oriental	
Vallès Occidental	
Alt Penedès	
Alt Camp	
Priorat	
Ribera d'Ebre	
Les Garrigues	
Urgell	
Pla d'Urgell	
Segarra	
Alt Urgell	
Berguedà	
Osona	
Bages	
Anoia	
Solsonès	

✓ Omple el mapa amb el nom de les comarques catalanes.

✓ Pinta les comarques següents:

Barcelonès

Osona

Tarragonès

Maresme

Bages

Baix Ebre

Vallès Occidental

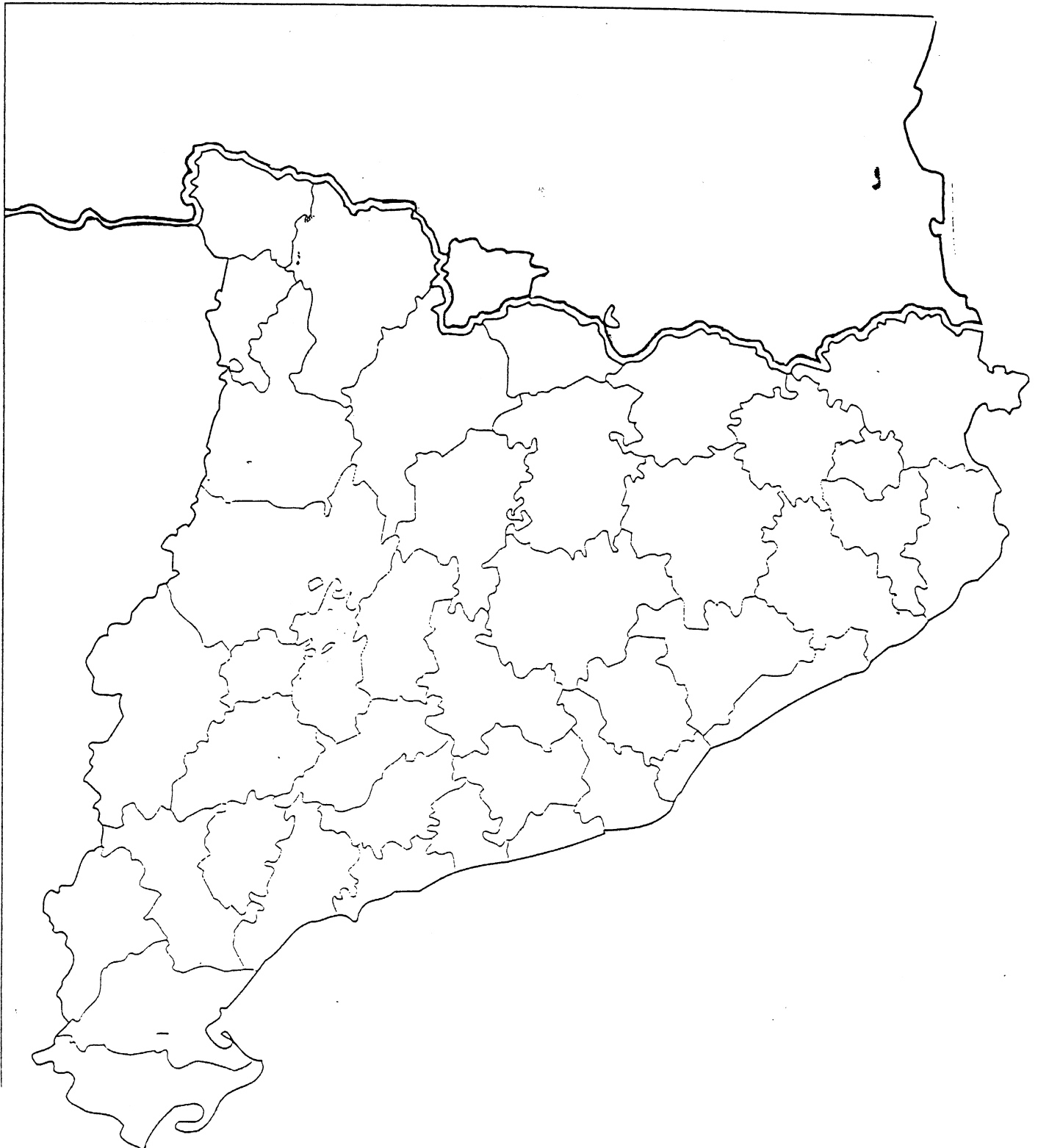
Alt Penedès

Montsià

Segrià

Val d'Aran

Alt Urgell



ACTIVITATS

4. Classifica:

Alt Empordà	Barcelonès	Osona	Tarragonà
Maresme	Ripoll	Puigcerdà	La Selva
Sort	Garrotxa	Pla de l'Estany	Manresa
Figueres	Granollers	Gironès	Tarragonès
La Bisbal d'Empordà	Vic	Val d'Aran	Sabadell

COMARQUES

CAPITALS

.....
.....
.....
.....
.....
.....
.....
.....
.....
.....

5. Busca a la següent sopa de lletres el nom de 12 comarques catalanes:

S	R	I	P	O	L	L	E	S	Ñ	A	A
M	A	R	E	S	M	E	R	T	S	S	L
O	P	Y	U	O	J	X	C	F	H	E	T
D	T	U	I	N	W	Z	A	C	U	N	E
A	Y	T	G	A	R	R	A	F	G	O	M
X	S	R	H	G	K	S	E	L	A	L	P
T	A	R	R	A	G	O	N	E	S	E	O
O	Z	M	E	N	O	B	L	O	E	C	R
R	C	E	R	D	A	N	Y	A	G	R	D
R	P	B	A	G	E	S	G	T	R	A	A
A	J	O	G	L	S	E	R	U	I	B	S
G	I	R	O	N	E	S	A	D	A	G	F

6. Ordena les següents lletres i forma el nom de les 8 comarques gironines.

L A T
D R A O P E M

R R O T G A X A

L A P
E D
Y T A S E N L'

P O I R E S L L

L A
L E V S A

D A C R E N Y A

I B X A
M E R O P D A

I R O G E S N

7. Escriu la capital de cadascuna de les comarques anteriors.

COMARCA GIRONINA

CAPITAL

.....

.....

.....

.....

.....

.....

.....

.....

.....

.....

.....

.....

.....

.....

.....

.....

.....

.....

8. Contesta:

✓ Quines comarques es troben al nord de Catalunya?

✓ Quines comarques es troben al sud?

✓ Quines comarques es troben a l'est?

✓ Quines comarques es troben a l'oest?

✓ Quines comarques es troben al centre?

✓ A quina comarca vius ara?

9. Completa el nom de les capitals de les següents comarques:

G _ R _ _ A

F _ _ _ E _ _ S

S _ _ T

B A _ _ _ L _ _ A

M _ T _ _ _

V _ C

T _ R R _ _ O _ A

V _ _ L H _

A _ P _ S _ A

L L _ _ _ A

T O _ _ _ S _

O _ _ T

S _ _ _ _ _ L L

M _ _ R _ _ A

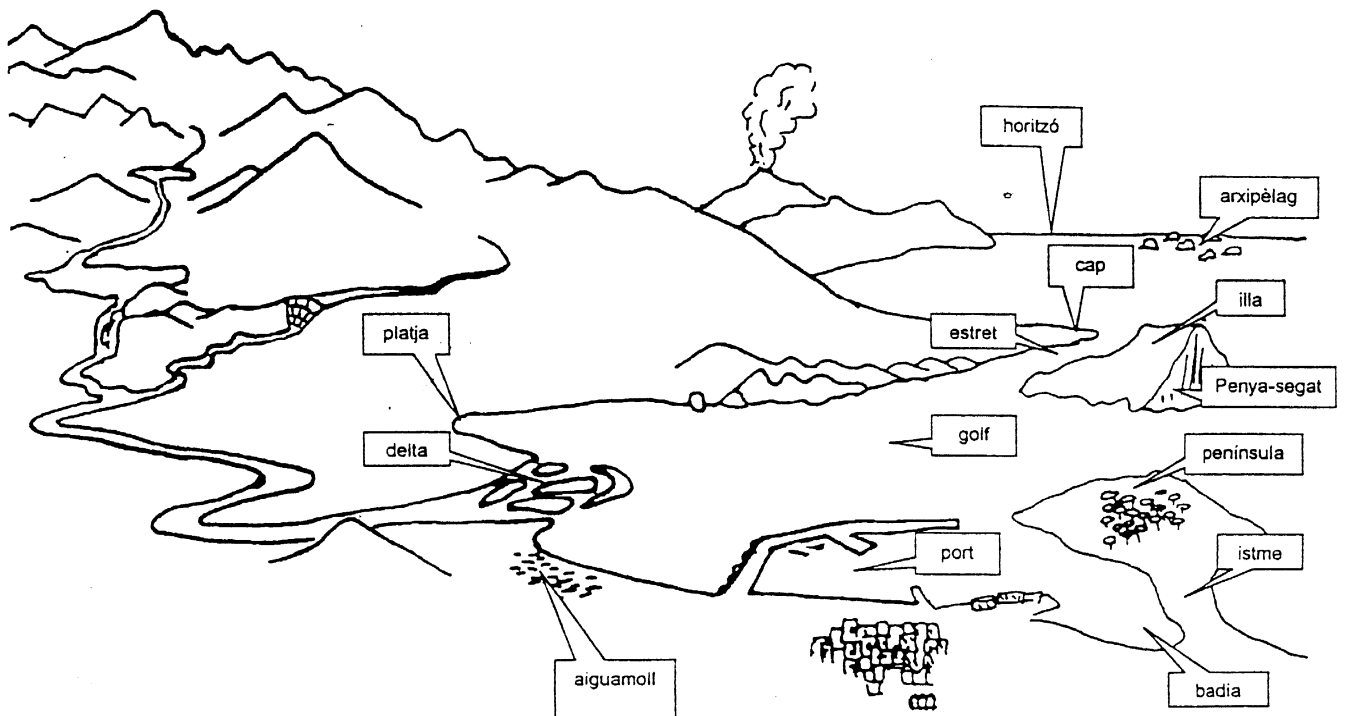
R _ P _ _ L L

B _ N Y _ _ E _

CATALUNYA FÍSICA

Catalunya és un país muntanyós. S'hi poden distingir muntanyes altes, una gran depressió i la costa.

- ⇒ Al nord trobem **muntanyes altes** separades per valls extenses.
- ⇒ El centre està ocupat per una gran **depressió**.
- ⇒ La **costa** és molt variada; al nord hi ha grans penya-segats i petites cales, mentre que al centre i al sud hi ha platges.



EL RELLEU

Per poder aprendre el relleu de Catalunya l'hem dividit en:

- ⇒ Els Pirineus
- ⇒ La Depressió Central
- ⇒ La Serralada Transversal
- ⇒ El Sistema Mediterrani

ELS PIRINEUS

Són una gran serralada que ocupa tot el nord de Catalunya. Es divideix en: ↓

- el **Pirineu Axial**: "format per muntanyes grans. La més alta és la Pica d'Estats (3143 m).
- el **Prepirineu**: format per muntanyes de menor altitud. Algunes de les seves serres són la del Cadí i la serra del Albera.

DEPRESSIÓ CENTRAL

Formada per les planes de Vic, de Lleida...

LA SERRALADA TRANSVERSAL

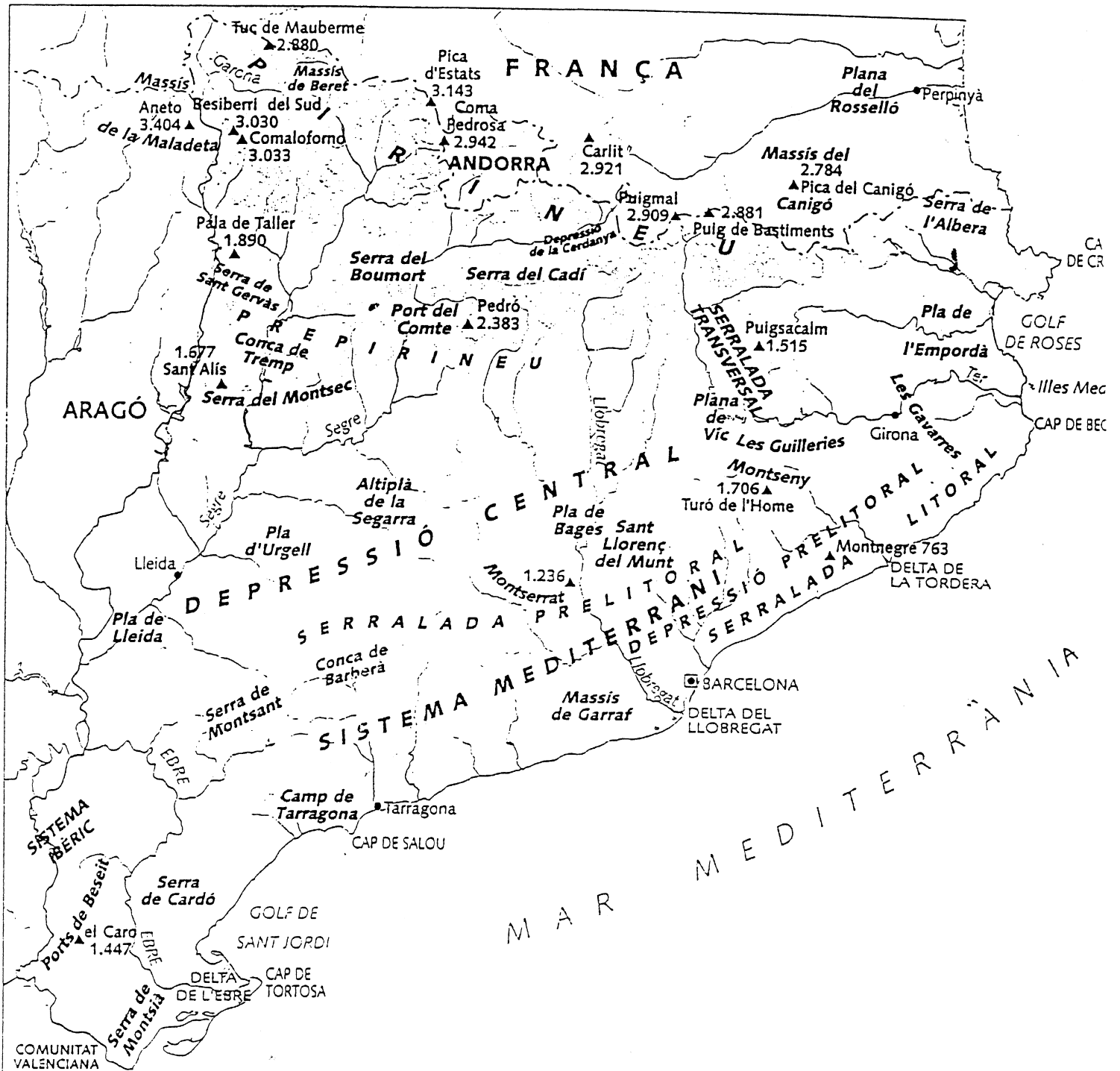
La muntanya més alta és el **Puigsacalm** (1515m).

EL SISTEMA MEDITERRANI

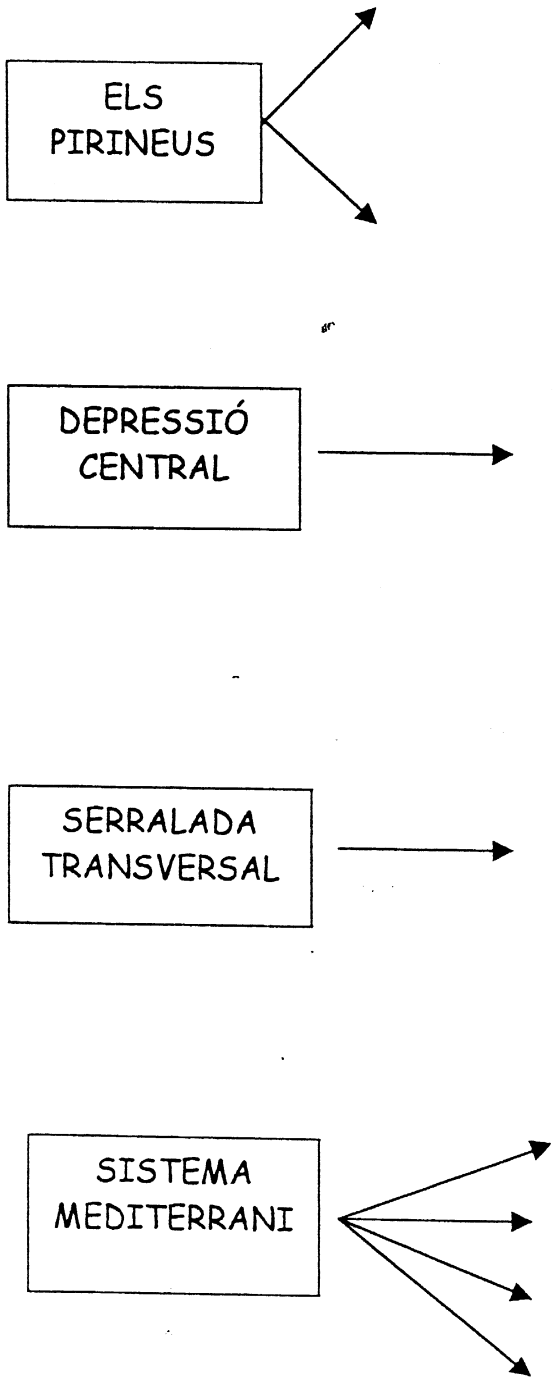
Format per terrenys plans i serres que ocupen quasi tota la costa:

- **Serralada Prelitoral**: serralada del Montseny (el pic més alt és el Turó de l'home).
- **Serralada litoral**: la serra de Collserola.
- **Depressió prelitoral**.
- **Planes litorals**: la plana de l'Empordà, el delta de l'Ebre...

- ✓ Observa i aprèn el relleu de Catalunya.
- ✓ Pinta les principals unitats de relleu que surten a la pàgina 10.



10. Completa el següent quadre:



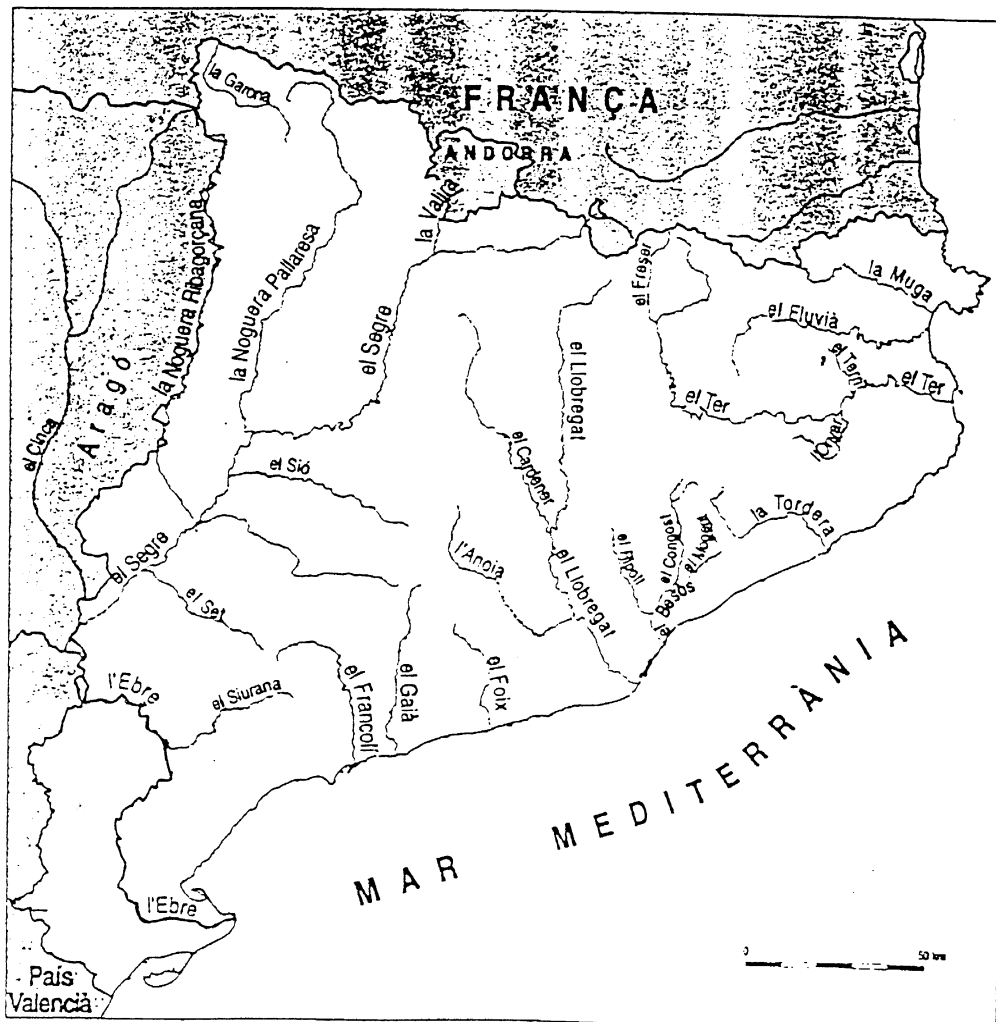
ELS RIUS

Catalunya és un país amb nombrosos rius petits i no gaire cabalosos.

Els rius més importants de Catalunya que desemboquen a la mar Mediterrània són:

- ⇒ el riu **Ebre** i els seus afluents: el Segre, la Noguera Pallaresa i la Noguera Ribagorçana.
- ⇒ el riu **Ter**, el **Llobregat**, el **Fluvià** i la **Muga**.
- ⇒ altres rius importants són la **Tordera** i el **Besòs**.

- ✓ Observa els principals rius de Catalunya.
- ✓ Localitza i pinta els rius següents: Ebre, Segre, Noguera Pallaresa, Noguera Ribagorçana, Ter, Llobregat, Fluvià, Muga, Tordera i Besòs.



LA COSTA

La costa és la zona on la terra està en contacte amb el mar.

La costa de Catalunya té una longitud de 550 Km.

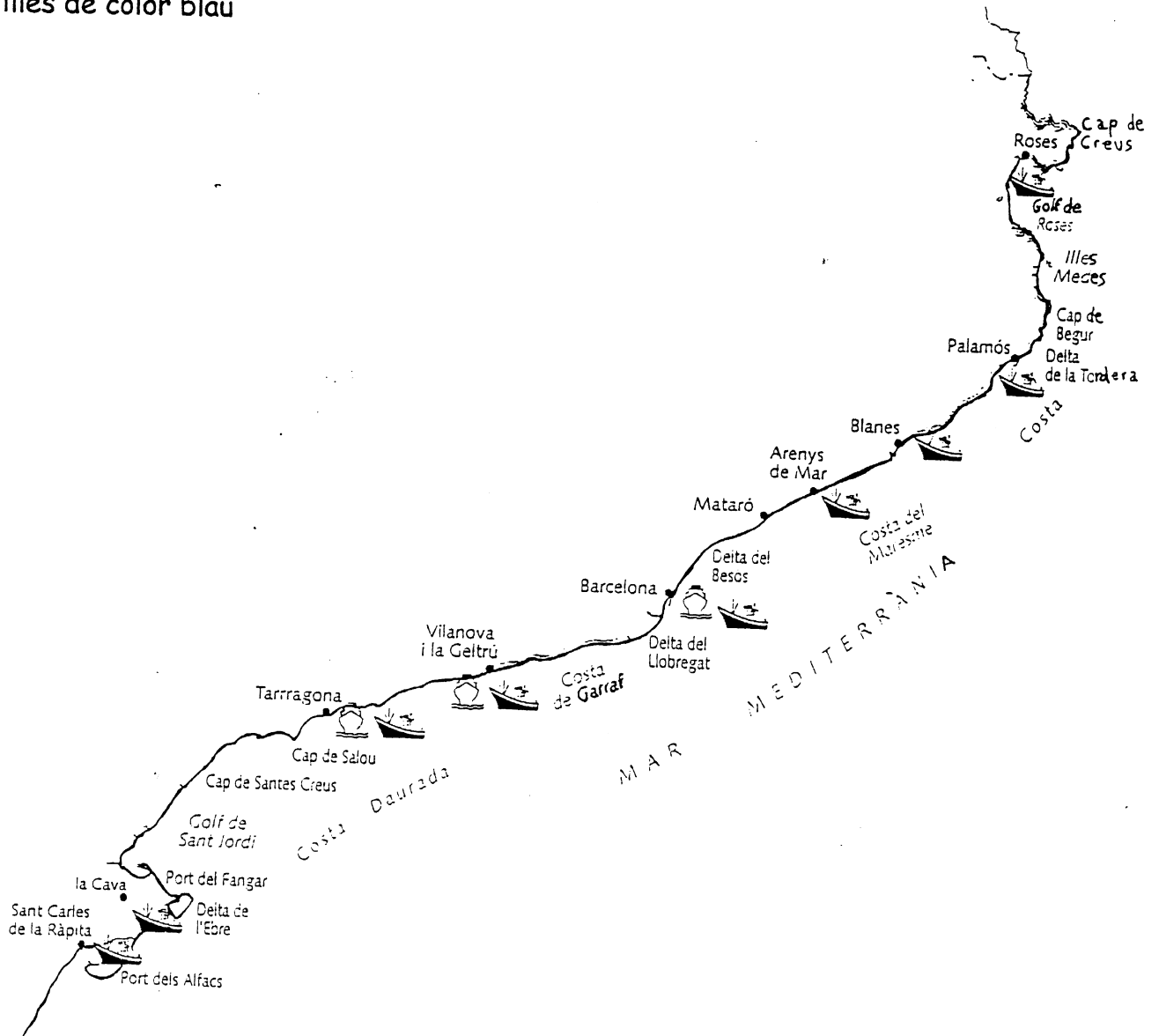
A la costa catalana trobem: **penya-segats, platges, cales, deltes, caps i golfs.**

Alguns dels accidents geogràfics més importants són:

- ⇒ el cap de Creus
- ⇒ el delta de l'Ebre
- ⇒ el golf de Roses i el golf de Lleó
- ⇒ les illes Medes

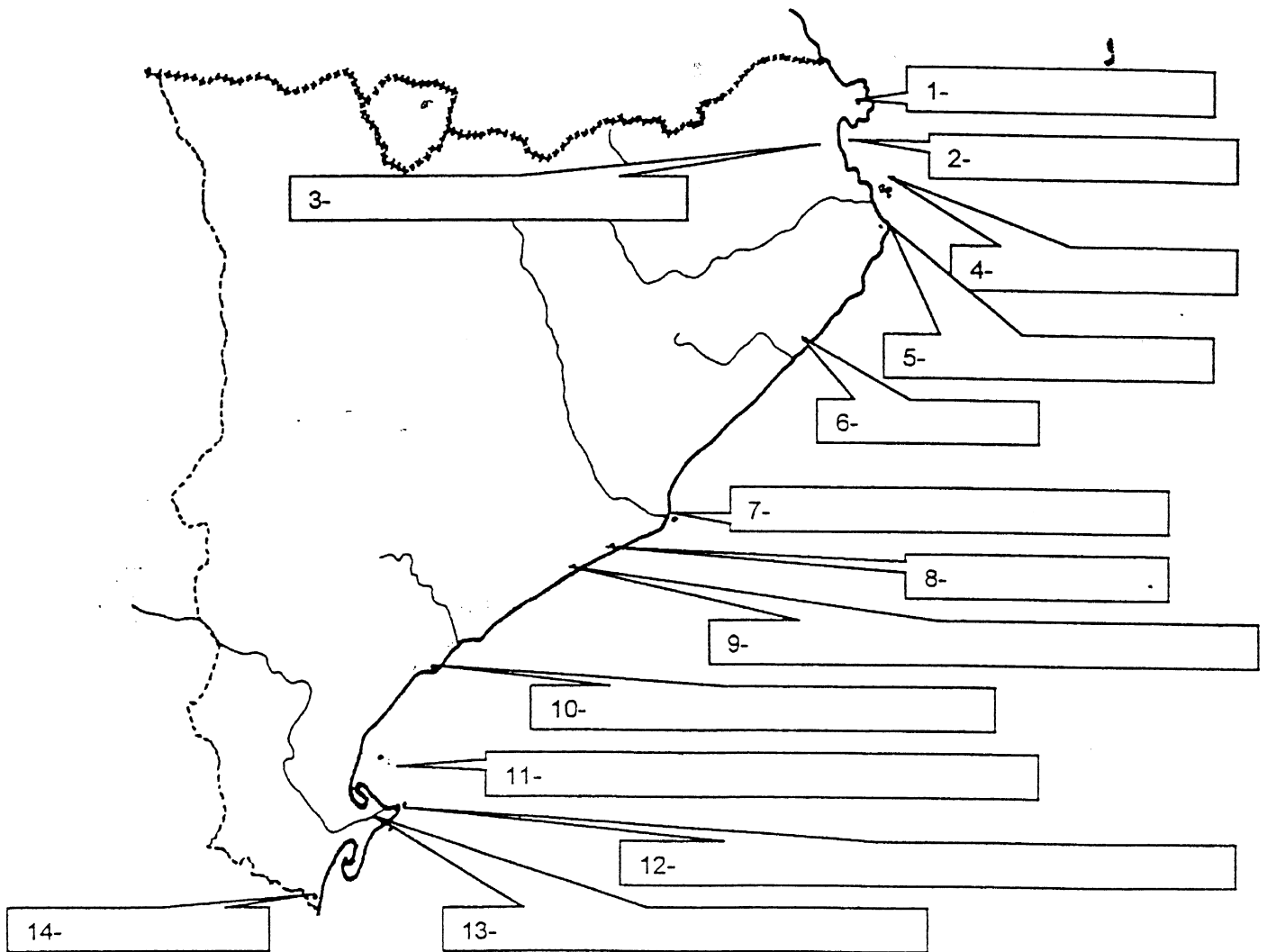
✓ Observa el mapa de la costa catalana i pinta:

- els caps de color vermell, els deltes de color groc, els golfs de color verd i les illes de color blau



✓ Col·loca en aquest mapa de Catalunya els llocs següents tenint en compte la numeració:

- | | |
|------------------------------------|-------------------------------|
| 1- Cap de Creus | 2- Golf de Roses |
| 3- Aiguamolls de l'Alt Empordà | 4- Illes Medes |
| 5- Cap de Begur | 6- Blanes (poble gran) |
| 7- Delta del Llobregat | 8- Castelldefels (poble gran) |
| 9- Costa de la Serra del Garraf | 10- Salou |
| 11- Golf de Sant Jordi | 12- Delta de l'Ebre |
| 13- Aiguamolls del Delta de l'Ebre | 14- Sènia (riu) |



✓ Pinta la part interior de la costa tal com t'indiquem:

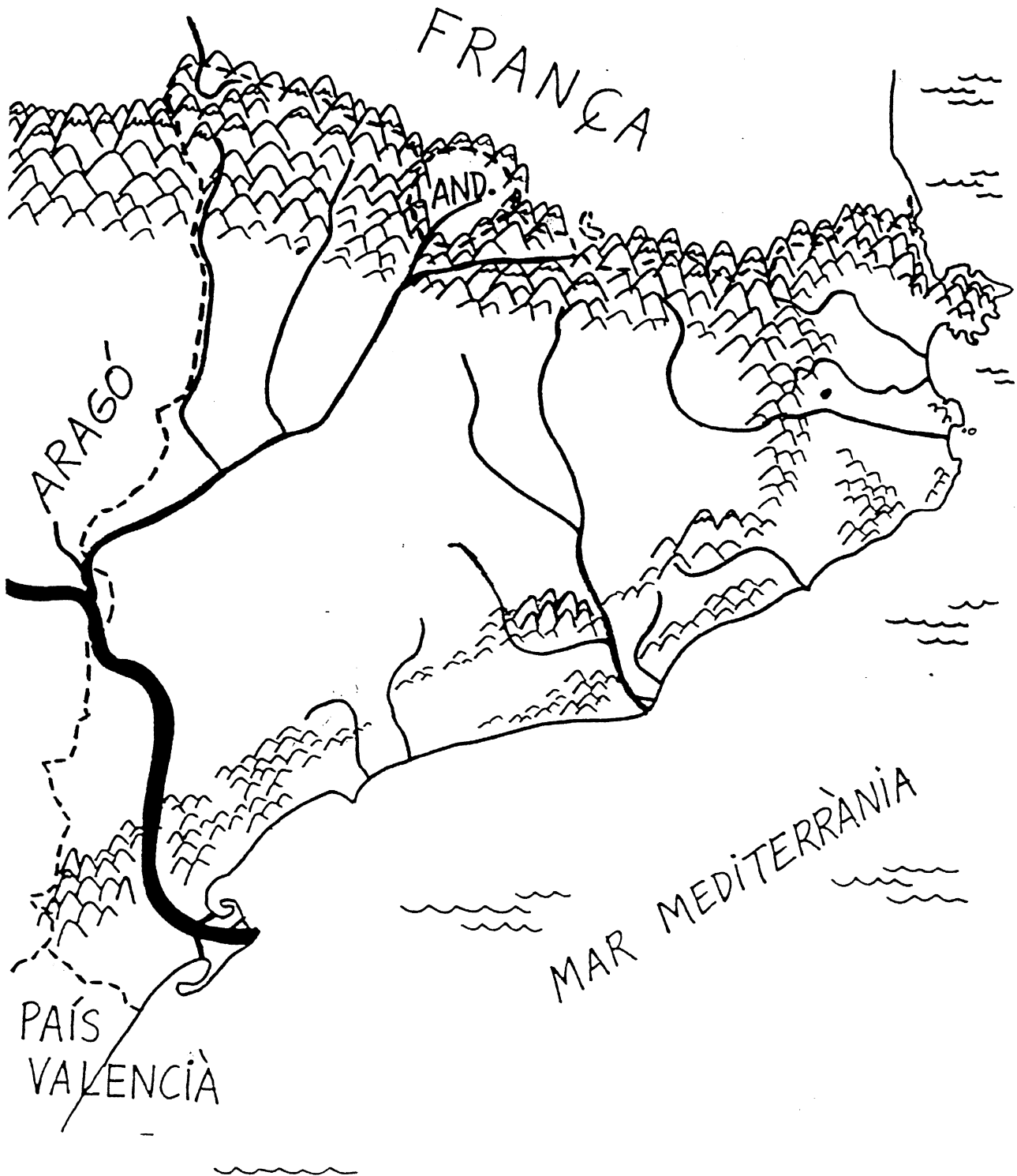
(El color marró representa la costa alta i el color groc la costa baixa).

- | | |
|-------------------------------------|--|
| Cap de Creus.....marró | Costa de la serra del Garraf.....marró |
| Golf de Roses fins a Begur.....groc | Del final del Garraf a Salou.....groc |
| De Begur a Blanes.....marró | Cap de Salou.....marró |
| De Blanes a Castelldefels.....groc | Del Cap de Salou al Sènia.....groc |

11. Situa en aquest mapa les principals unitats de relleu catalanes. Pinta-les de color marró clar.

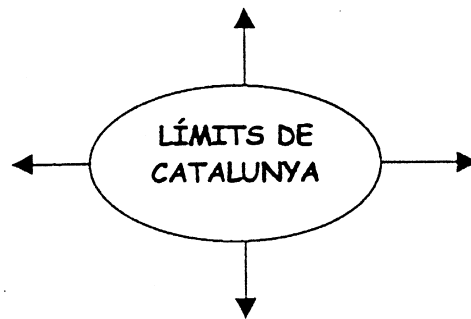
✓ Escriu el nom dels principals rius catalans. Pinta'ls de color blau.

✓ Situa els principals accidents geogràfics de la costa catalana.



12. Contesta:

- Quina forma té Catalunya?
- Quantes comarques hi ha a Catalunya?
- Quina és l'extensió del territori català?
- Quines comarques banya la mar Mediterrània?
- Completa el següent esquema:



- Digues el nom dels rius més importants de Catalunya.
- Digues el nom de les serralades catalanes més importants.
- Digues el nom de dues planes.
- Digues el nom de les comarques gironines i les seves capitals.
- Digues el nom d'un cap, d'un golf i d'un delta de Catalunya.