

GEOGRAFIA ESO



9

ESPANYA

NOM _____

DATA _____

IES _____

ESPANYA

ACTIVITATS

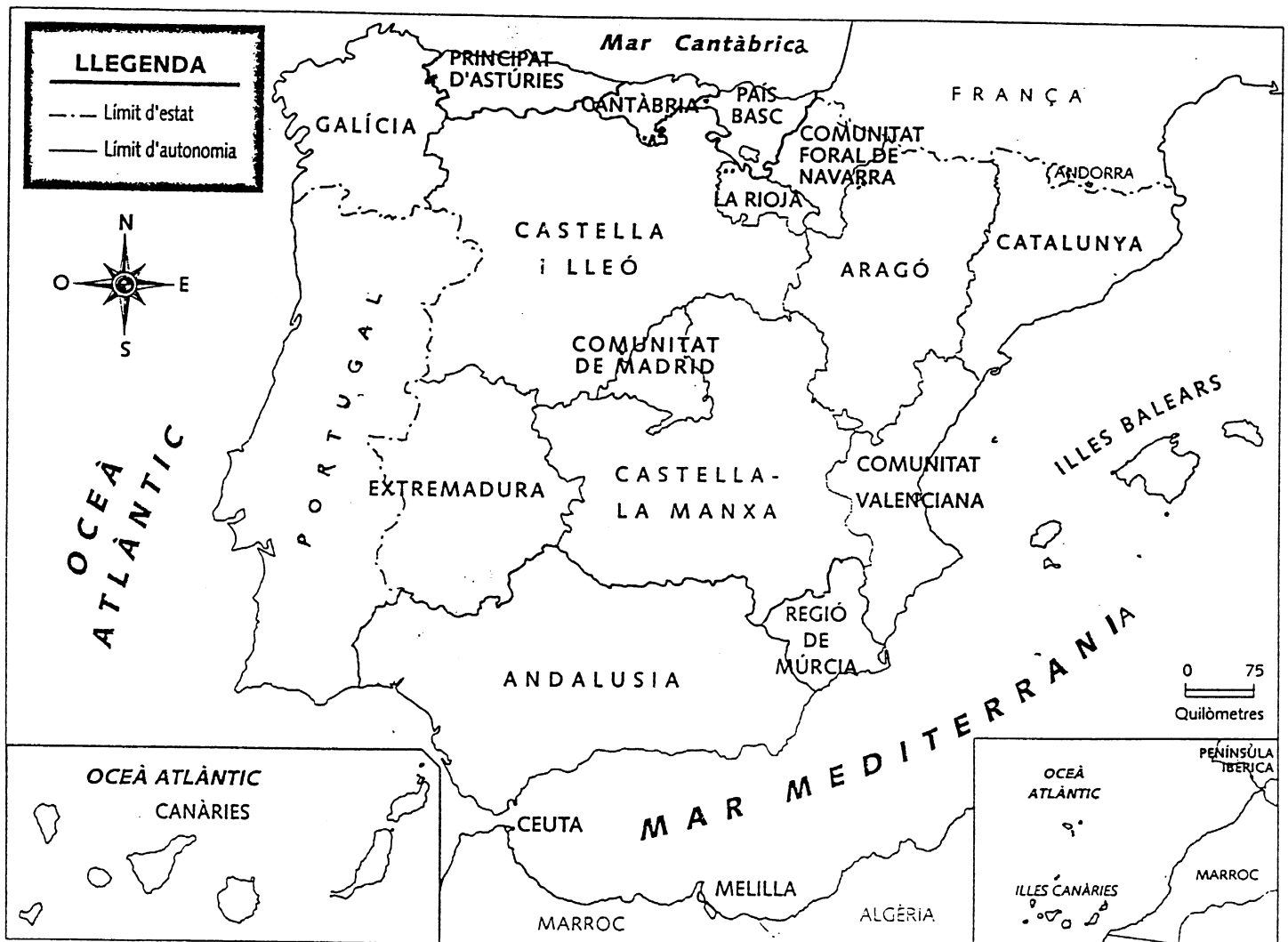
1. Observa el mapa d'Europa i pinta Espanya.
2. Pinta la Mar Mediterrània, l'Oceà Atlàntic i la Mar Cantàbrica.
3. Assenyala la capital d'Espanya (Madrid).
4. Ressegueix Portugal i França.



L'Estat Espanyol està format per 17 comunitats autònomes i les ciutats de Ceuta i Melilla.

Les comunitats autònomes poden estar formades per una província o per més d'una. Algunes comunitats han dividit les províncies en diferents comarques.

✓ Observa el mapa de les comunitats autònomes:



ACTIVITATS

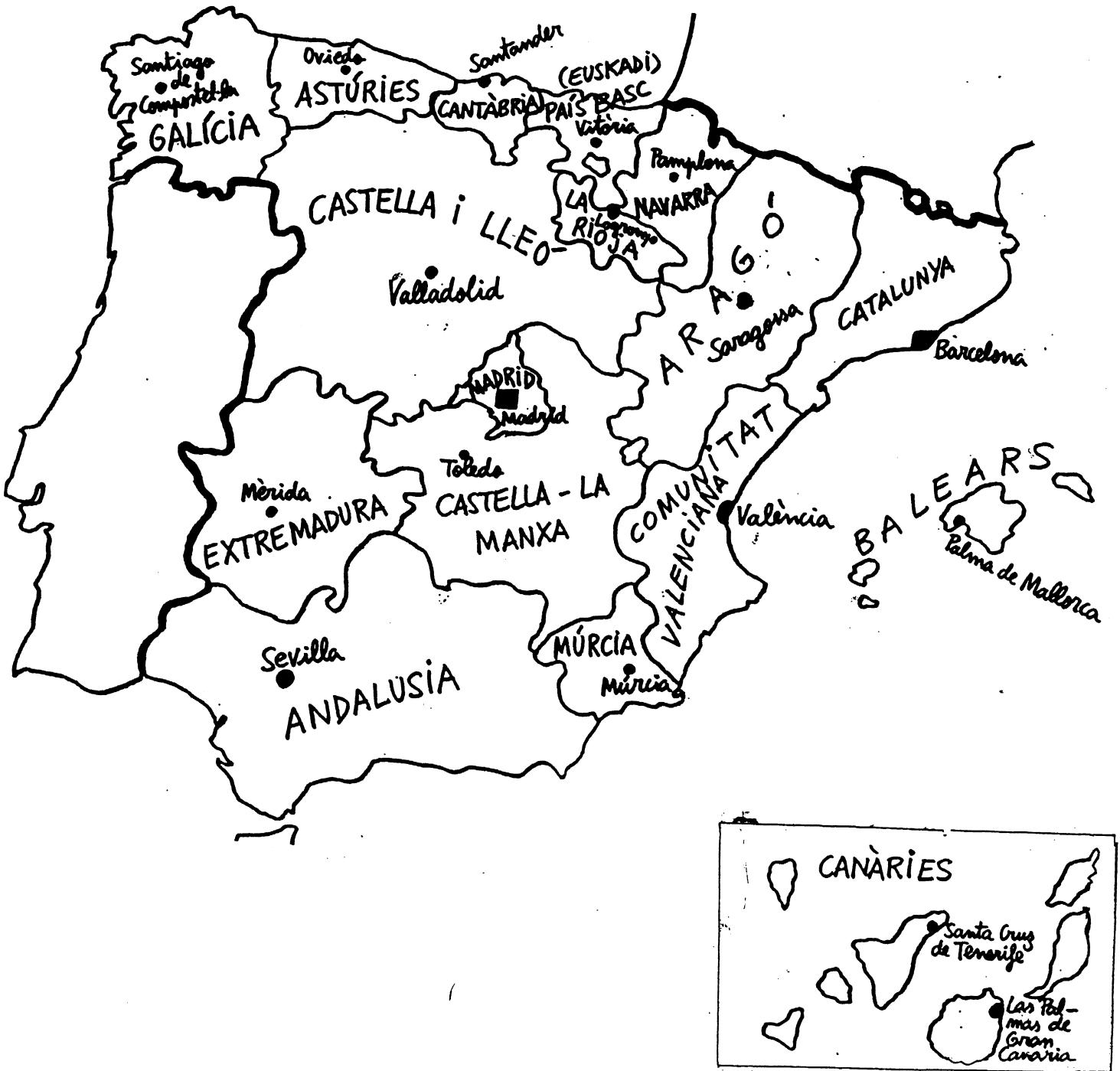
5. Treballa amb el mapa de la pàgina anterior:

- ✓ Pinta d'un color diferent cada comunitat autònoma.
- ✓ Deixa en blanc la comunitat on vius ara.
- ✓ Escriu el nom dels 4 punts cardinals:
 Nord, _____, _____ i _____.
- ✓ Quina comunitat autònoma es troba situada més al sud?
- ✓ Quina comunitat autònoma es troba situada més a l'est?
- ✓ La comunitat on vius ara es troba a la meitat nord de l'estat espanyol o a la meitat sud?
- ✓ En quina comunitat autònoma es troba la capital d'Espanya?
- ✓ Quines comunitats autònomes tenen costa a la Mar Mediterrània?
- ✓ Quines comunitats autònomes tenen costa a la Mar Cantàbrica?

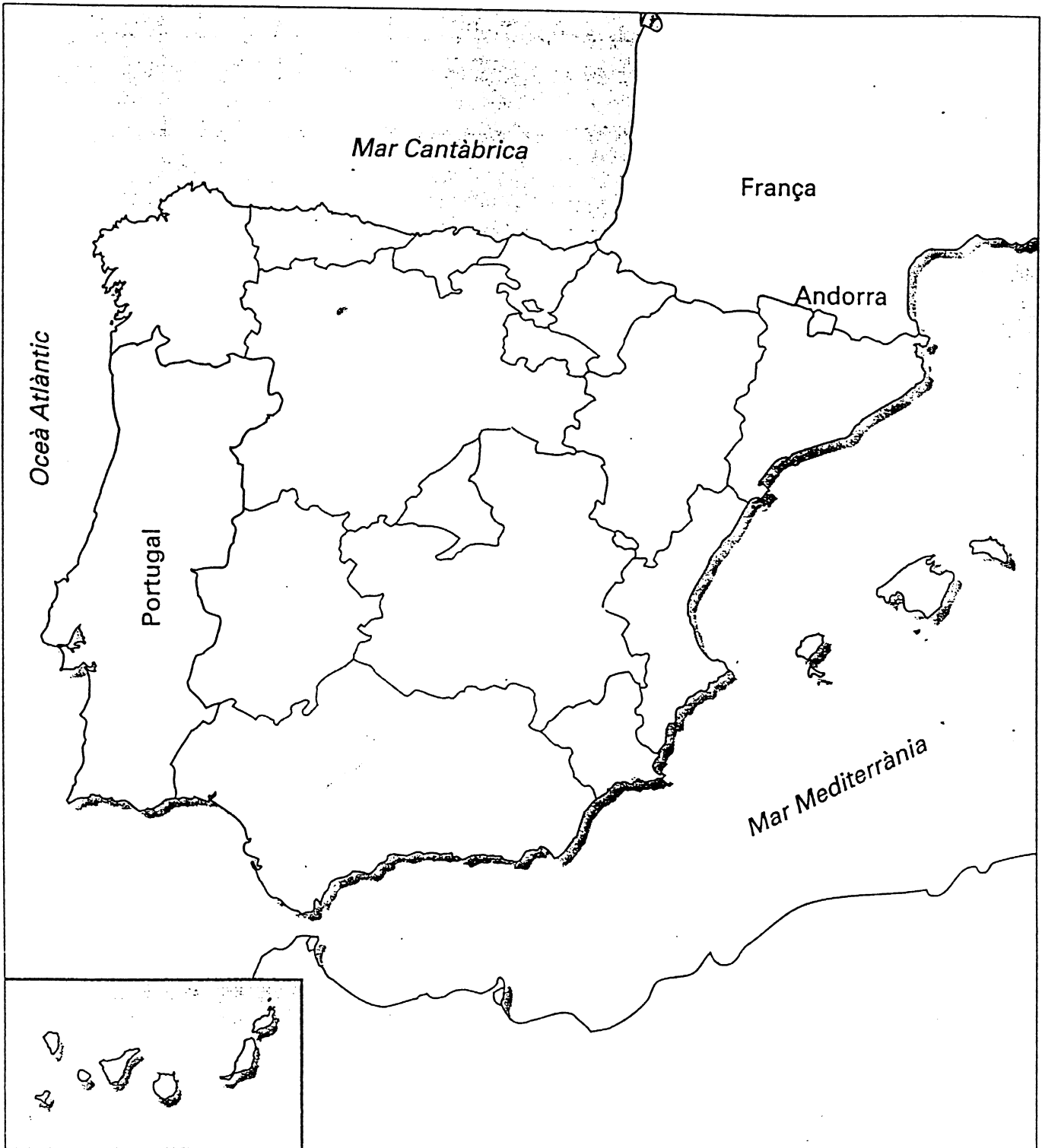
✓ Aquí tens la llista de les comunitats autònomes i les seves capitals.

COMUNITATS AUTÒNOMES	CIUTATS CAPITAL
Catalunya	Barcelona
Balears	Palma de Mallorca
Comunitat valenciana	València
Múrcia	Múrcia
Andalusia	Sevilla
Extremadura	Mèrida
Castella i Lleó	Valladolid
Galícia	Santiago de Compostel.la
Astúries	Oviedo
Cantàbria	Santander
Euskadi (País Basc)	Vitòria / Gasteiz
La Rioja	Logronyo
Navarra	Pamplona / Iruña
Aragó	Saragossa
Castella – La Manxa	Toledo
Madrid	Madrid
Canàries	Santa Cruz de Tenerife / Las Palmas de Gran Canària

✓ Observa el mapa de les comunitats autònomes i de les seves capitals:



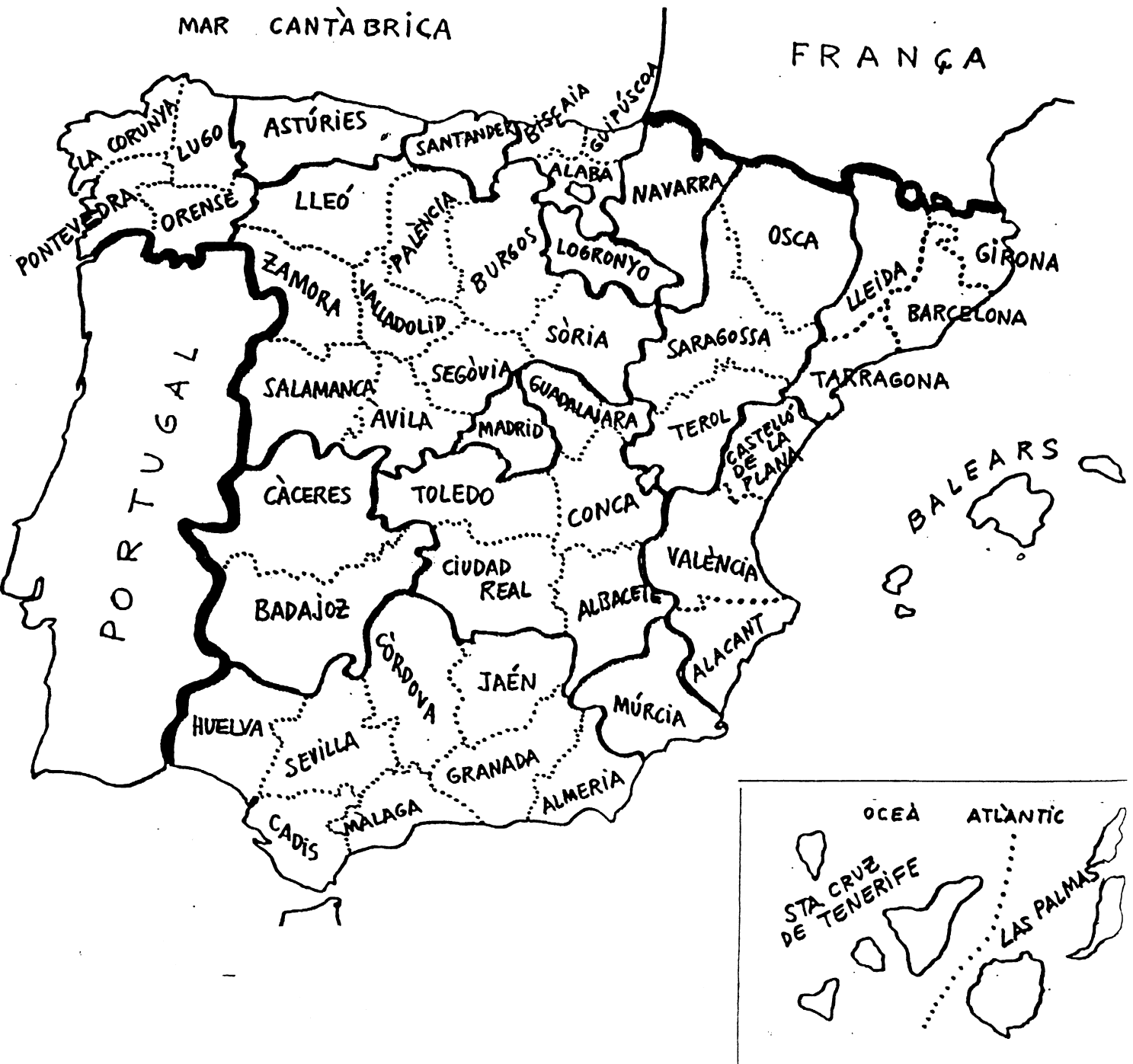
✓ Escriu en aquest mapa el nom de les comunitats autònomes que integren l'estat espanyol i situa les seves capitals.



RECORDA:

Les comunitats autònomes poden estar formades per una província o per més d'una.

- ✓ Observa el mapa d'Espanya i les seves províncies.
- ✓ Ressegueix cada comunitat autònoma (recorda que n'hi ha 17) amb un color diferent.



✓ Aquí tens la llista de les comunitats autònomes i les seves províncies:

COMUNITATS AUTÒNOMES	PROVÍNCIES
Catalunya	Girona
	Barcelona
	Tarragona
	Lleida
Balears	Balears (Menorca, Mallorca, Eivissa)
Comunitat valenciana	Castelló de la Plana
	València
	Alacant
Múrcia	Múrcia
Andalusia	Almeria
	Granada
	Màlaga
	Cadis
	Huelva
	Sevilla
	Còrdova
	Jaén
Extremadura	Càceres
	Badajoz
Castella i Lleó	Lleó
	Zamora
	Salamanca
	Àvila
	Segòvia
	Sòria
	Burgos
	Palència
	Valladolid
Galícia	La Corunya
	Lugo
	Orense
	Pontevedra
Astúries	Astúries
Cantàbria	Santander
Euskadi (País Basc)	Biscaia
	Guipúscoa
	Alaba
La Rioja	Logronyo
Navarra	Navarra
Aragó	Osca
	Saragossa
	Terol
Castella – La Manxa	Guadalajara
	Conca
	Albacete
	Ciudad Real
	Toledo
Madrid	Madrid
Canàries	Tenerife
	Gran Canària

ACTIVITATS

6. Observa el model i completa una frase per a cada comunitat:

Andalusia comprèn 8 províncies: *Almeria, Cadis, Còrdova, Granada, Jaén, Huelva, Màlaga i Sevilla.*

L'Aragó comprèn províncies:

Astúries comprèn província:

Canàries comprèn províncies:

Cantàbria comprèn província:

Castella i Lleó comprèn províncies:

Castella-la Manxa comprèn províncies:

Catalunya comprèn províncies:

La Comunitat Valenciana comprèn províncies:

Extremadura comprèn províncies:

Galícia comprèn províncies:

Les Illes Balears compreen província:

La Rioja comprèn província:

Madrid comprèn província:

Múrcia comprèn província:

Navarra comprèn província:

El País Basc comprèn províncies:

7. Escriu en el mapa de la pàgina següent el nom de cada província i pinta cada comunitat autònoma d'un color diferent.

8. Situa les ciutats de Ceuta i Melilla.

9. Utilitza aquestes pistes:

<i>Comunitat autònoma</i>	<i>Nombre de províncies</i>
Andalusia	8
Aragó	3
Astúries	1
Canàries	2
Cantàbria	1
Castella i Lleó	9
Castella-la Manxa	5
Catalunya	4
Comunitat Valenciana	3
Extremadura	2
Galícia	4
Illes Balears	1
La Rioja	1
Madrid	1
Múrcia	1
Navarra	1
País Basc	3

Àlaba - Alacant - Albacete - Almeria - Astúries - Àvila - Badajoz - Balears - Barcelona - Biscaia
 Burgos - Càceres - Cantàbria - Cadis - Castelló - Ceuta - Ciudad Real - Conca - Còrdova
 Girona - Granada - Guadalajara - Guipúscoa - Huelva - Jaén - la Corunya - la Rioja
 Las Palmas - Lleida - Lleó - Lugo - Madrid - Màlaga - Melilla - Múrcia - Navarra - Osca
 Ourense - Palència - Pontevedra - Salamanca - Santa Cruz de Tenerife - Saragossa
 Segòvia - Sevilla - Sòria - Tarragona - Terol - Toledo - València - Valladolid - Zamora

