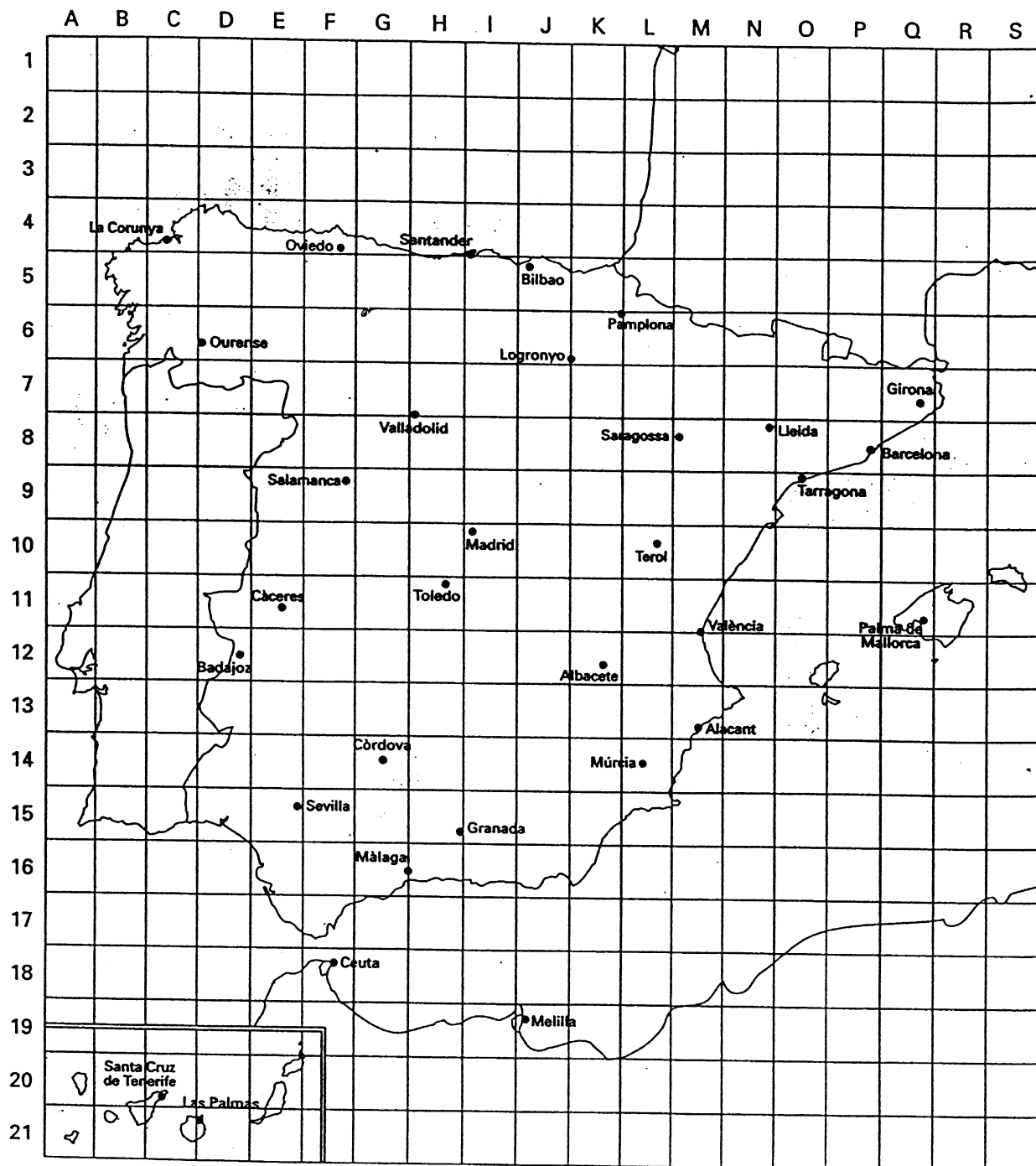


10. Observa la xarxa quadriculada del mapa amb els números i les lletres que hi ha als marges.



11. Localitza en el mapa les quadrícules següents i indica quina ciutat hi ha situada.

Localització	Ciutat
C, 4	La Corunya
L, 10	_____
D, 6	_____
Q, 11	_____
H, 15	_____
J, 19	_____
M, 13	_____

Localització	Ciutat
D, 21	_____
Q, 7	_____
H, 11	_____
I, 10	_____
J, 5	_____
F, 4	_____
G, 14	_____

— Digues en quina quadrícula es troben aquestes ciutats.

Ciutat	Localització
Barcelona	_____
Ourense	_____
Sevilla	_____
Badajoz	_____
Múrcia	_____
Ceuta	_____

Ciutat	Localització
Pamplona	_____
Lleida	_____
Sta. Cruz Tenerife	_____
Santander	_____
Tarragona	_____
Salamanca	_____

— Indica l'itinerari que seguiries en passar per aquests punts.

D'E, 15 a C, 4:

.....

De F, 9 a N, 8:

.....

De Q, 11 a D, 6:

.....

De J, 5 a L, 14:

.....

De M, 13 a F, 4:

.....

12. Relaciona:

COMUNITAT

Catalunya

Balears

Madrid

Andalusia

Valenciana

Aragó

País Basc

CIUTAT

Saragossa

Barcelona

Palma de Mallorca

València

Madrid

Sevilla

Vitòria

13. Omple els espais amb la província o províncies que falten:

CATALUNYA

LLEIDA TARRAGONA

COMUNITAT VALENCIANA

CASTELLÓ DE LA PLANA
--

GALÍCIA

LA CORUNYA LUGO

EXTREMADURA

..... BADAJOZ

PAÍS BASC

..... ÀLABA

ANDALUSIA

JAÉN HUELVA ALMERIA CADIS
--

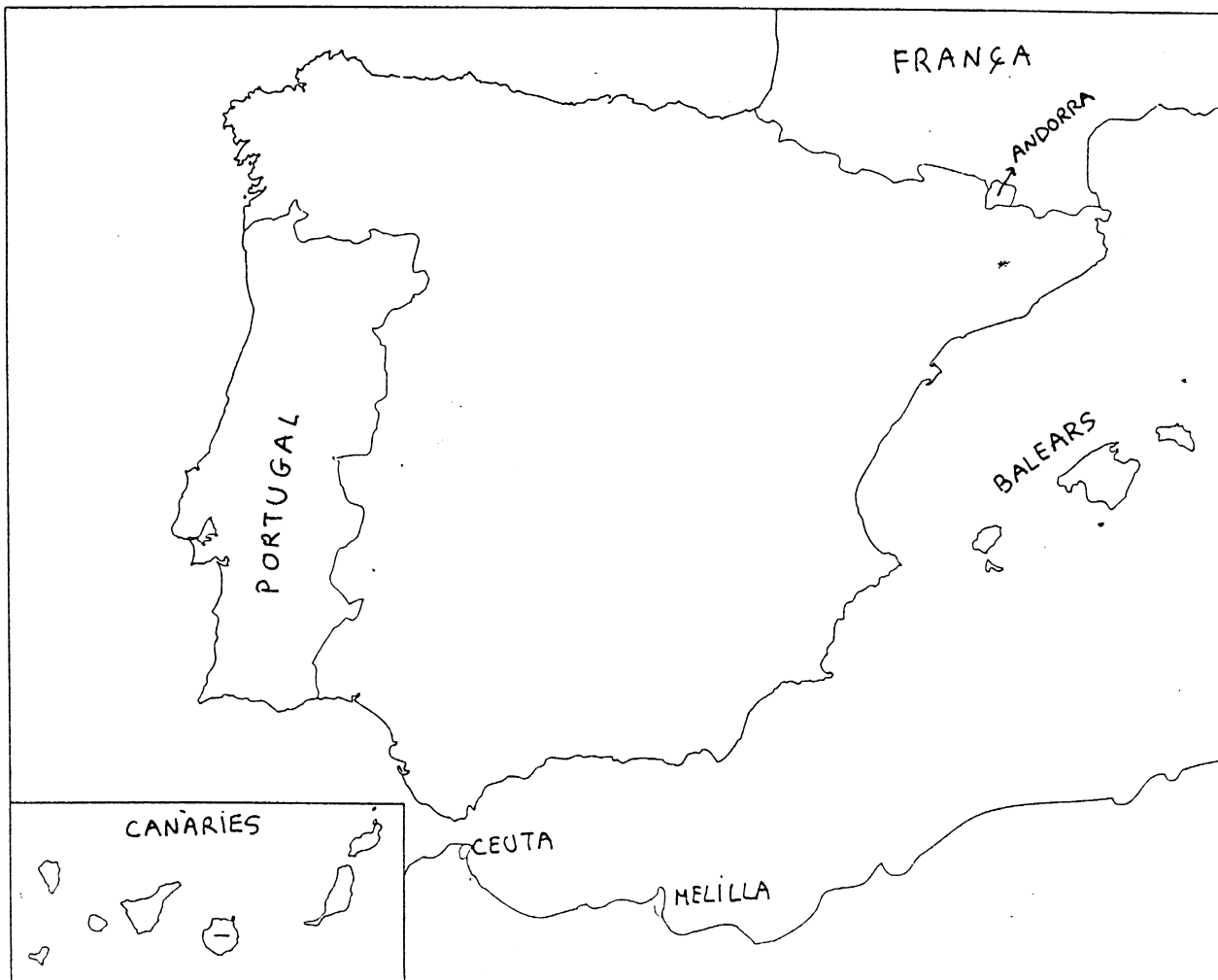
ESPANYA FÍSICA

Espanya és l'Estat més gran de la Península Ibèrica.

Comprèn també:

- ⇒ els arxipèlags de les **Balears**, a la mar Mediterrània
- ⇒ els arxipèlags de les **Canàries**, a l'oceà Atlàntic
- ⇒ les ciutats de **Ceuta** i **Melilla**, al nord d'Àfrica

Els seus límits són marcats per les fronteres amb els estats de Portugal, Andorra i França.



EL RELLEU.

Per poder aprendre el relleu d'Espanya l'hem dividit en:

- ⇒ La Meseta
- ⇒ Serralades exteriors
- ⇒ Depressions
- ⇒ Relleu insular

LA MESETA

La Meseta és un altiplà molt gran situat a la part central de la península

Travessen la Meseta:

- ✓ El **Sistema Central**, que la divideix en dues parts, i els **Monts de Toledo**
- ✓ La Meseta està envoltada de muntanyes per totes bandes, excepte per l'oest:
 - Al nord, per les **Muntanyes de Lleó** i la **Serralada Cantàbrica**
 - A l'est, per la **Serralada Ibèrica**
 - Al sud, per la **Sierra Morena**

SERRALADES EXTERIORS

- **Massís Galaic**
- **Muntanyes Basques**
- Els **Pirineus**, amb el pic de l'**Aneto**
- **Serralades Bètiques** (**Sierra Nevada**, amb el pic més alt de la península Ibèrica: el **Mulhacén** (3478m))

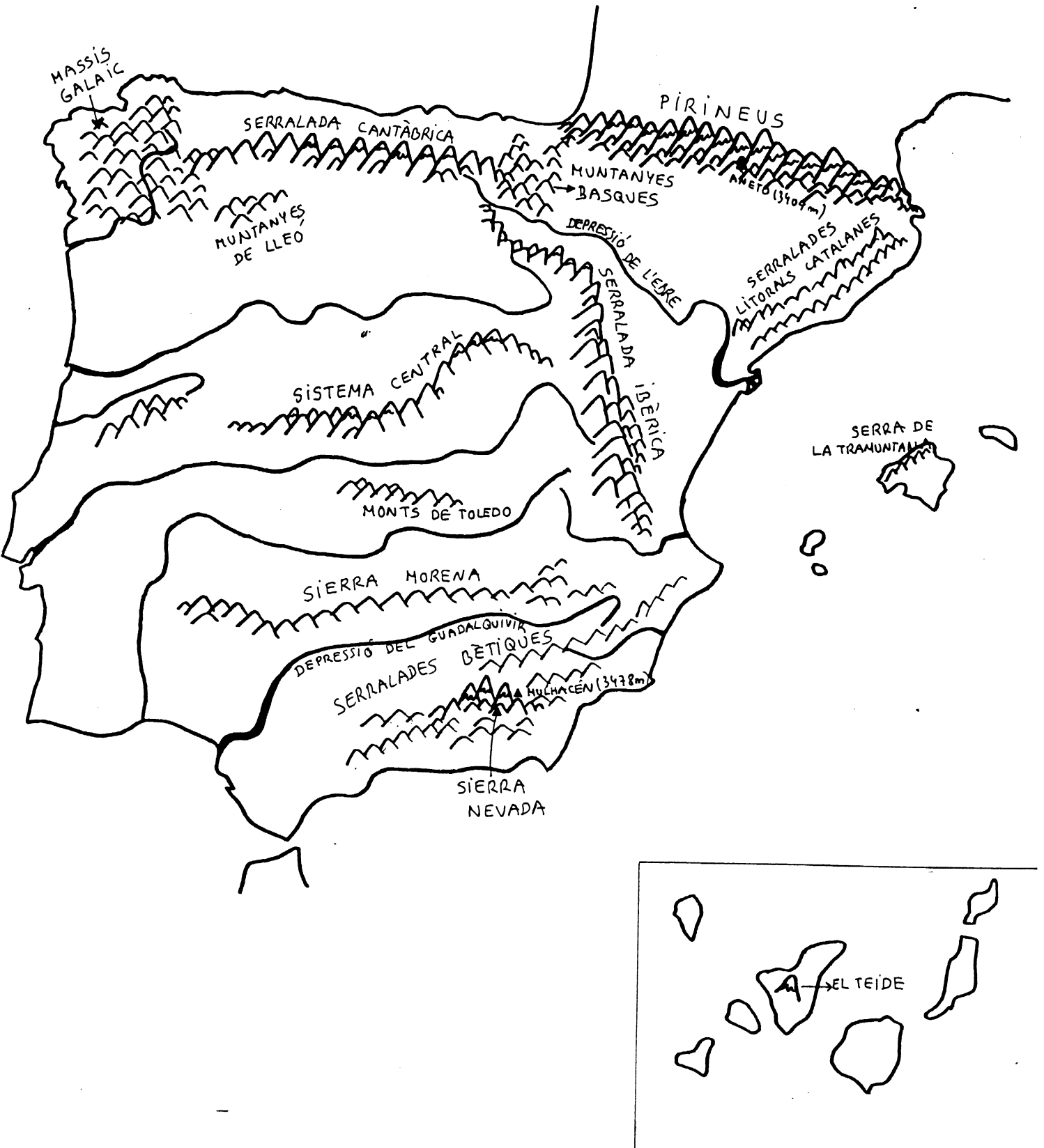
DEPRESSIONS

- La del riu **EBRE** que està orientada cap a la Mediterrània i la recorren el riu Ebre i els seus afluents
- La del riu **GUADALQUIVIR**: és una plana recorreguda per aquest riu.

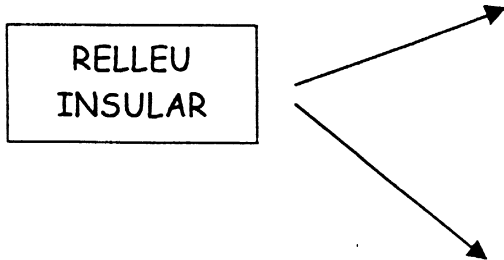
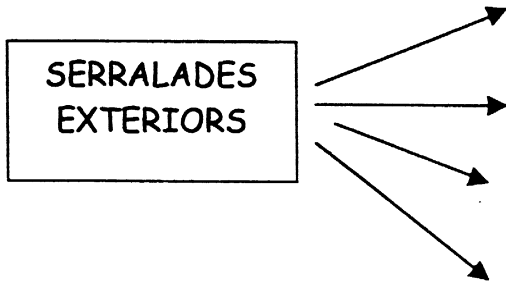
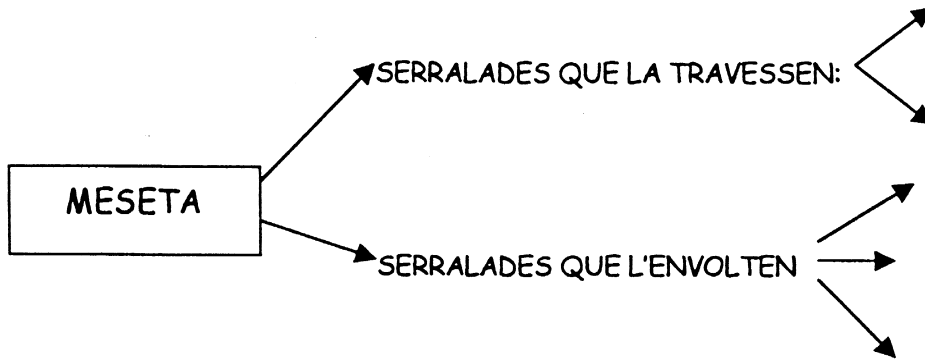
RELLEU INSULAR

- A l'illa de Tenerife es troba el pic més alt d'Espanya, el **Teide**, que és un volcà amb 3718m d'altitud
- A les illes Balears trobem una serra important: la **serra de la Tramuntana** a l'illa de Mallorca

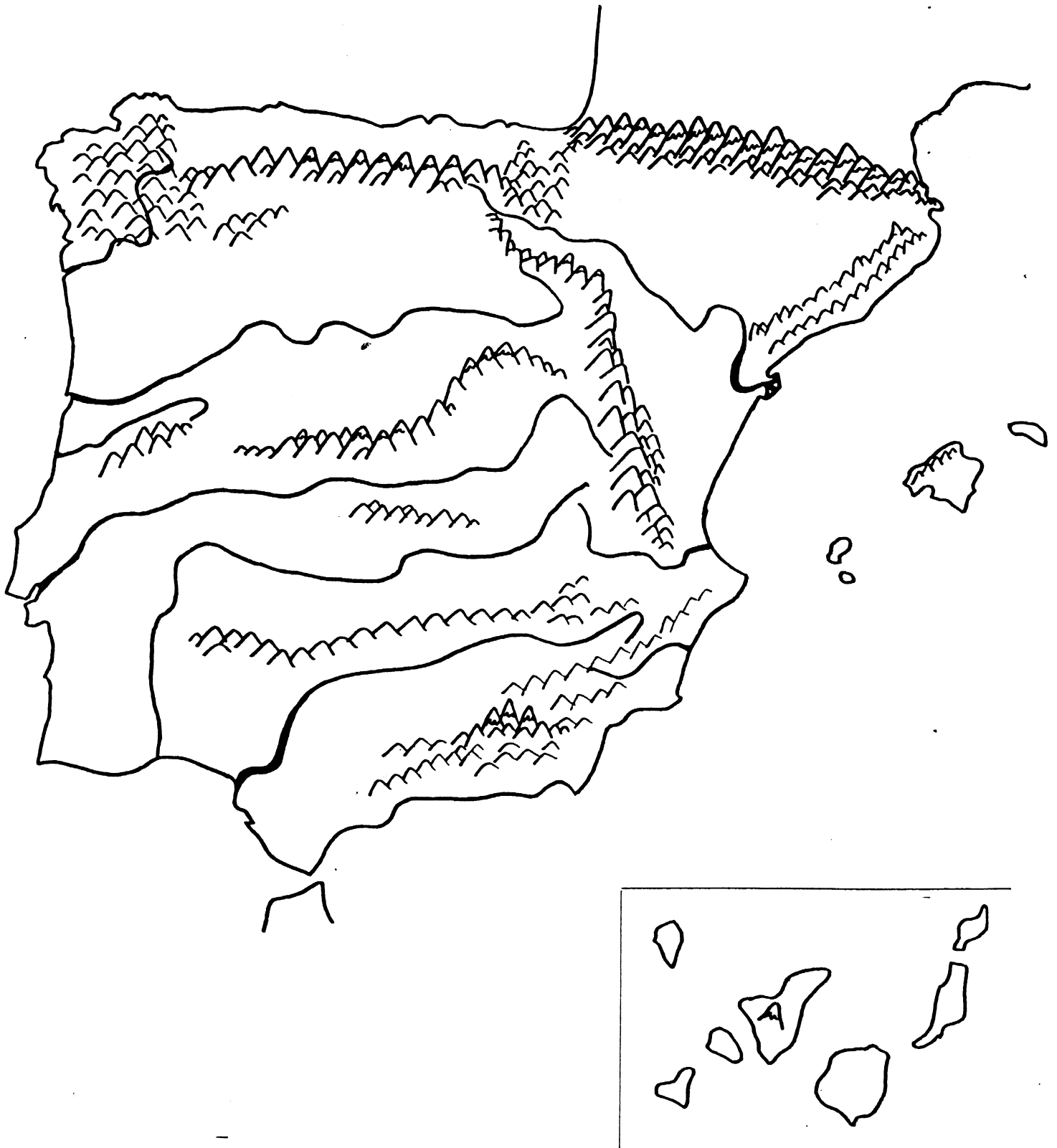
✓ Observa el relleu d'Espanya:



14. Completa el següent quadre:



15. Omple el següent mapa amb el nom de les serralades més importants.



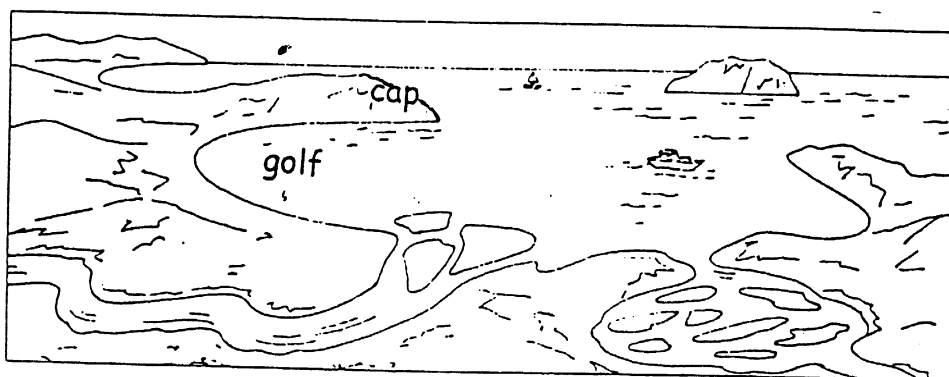
LES COSTES

La península Ibèrica està banyada:

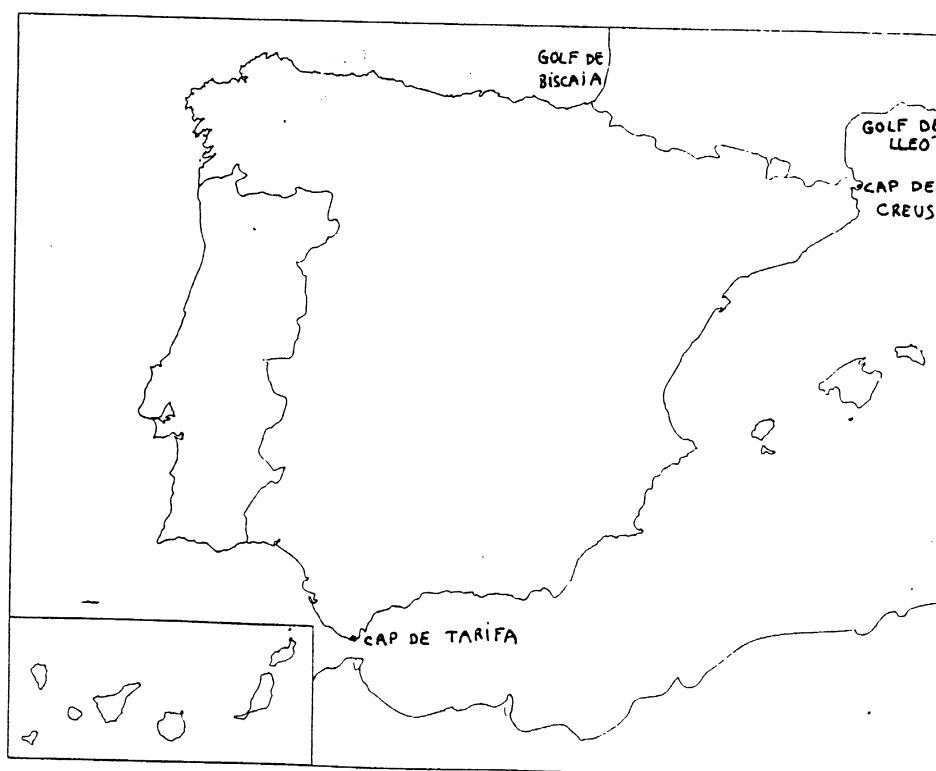
- ⇒ Al nord, per la mar Cantàbrica
- ⇒ A l'oest, per l'oceà Atlàntic
- ⇒ A l'est, per la mar Mediterrània

L'oceà Atlàntic i la mar Mediterrània es comuniquen al sud de la península Ibèrica per l'estret de Gibraltar.

RECORDA:



- ✓ Observa al mapa alguns dels golfs i caps més importants:
- Cap de Tarifa, Cap de Creus
- Golf de Lleó i golf de Biscaia

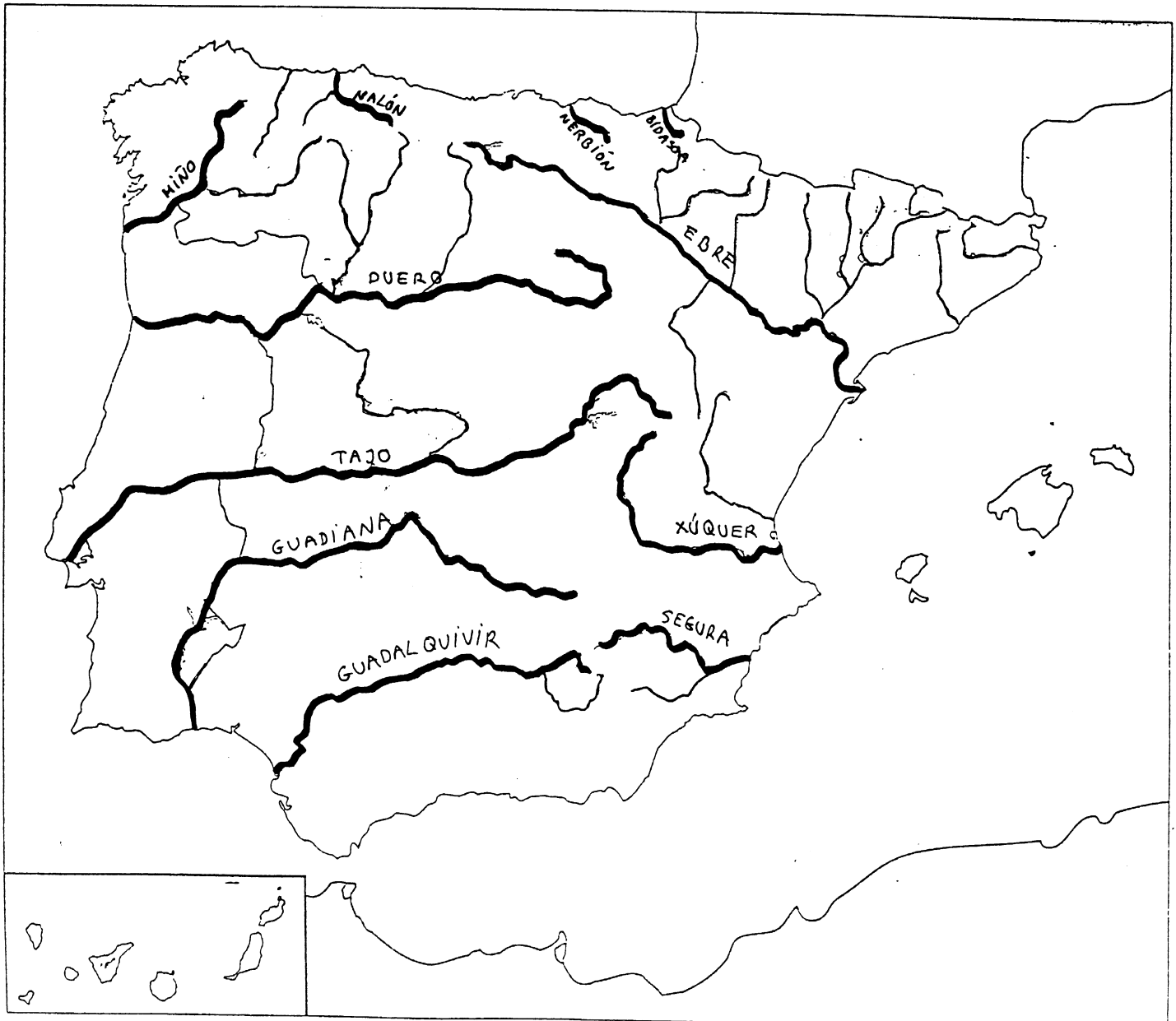


ELS RIUS

La majoria dels rius d'Espanya neixen a les muntanyes més altes i desemboquen als tres mars que envolten la península. Per això diem que els rius de la Península Ibèrica s'organitzen en tres vessants:

- ⇒ el vessant mediterrani: l'Ebre, el Xúquer i el Segura
- ⇒ el vessant atlàntic: el Miño, Duero, Tajo, Guadiana i Guadalquivir
- ⇒ el vessant cantàbric: el Bidasoa i el Nerbión al País Basc, el Nalón a Astúries

✓ Observa el mapa i pinta de color blau els rius. Aprèn els seus noms:



16. Situa en aquest mapa les següents unitats de relleu. Pinta-les de color marró clar.

Meseta - Sistema Central - Muntanyes de Lleó – Serralada Cantàbrica -
 Serralada Ibèrica - Sierra Morena – Massís Galaic - Muntanyes Basques –
 Els Pirineus – Serralades Bètiques - Depressió de l'Ebre –
 Depressió del Guadalquivir

- ✓ Escriu el nom dels principals rius, mars, illes i oceans que banyen les costes de la península Ibèrica. Pinta'ls.
- ✓ Situa el golf de Lleó, el golf de Biscaia, el cap de Tarifa i l'estret de Gibraltar.



17. Contesta:

- Quins estats limiten Espanya?
- Quin és l'altiplà més gran situat a la part central de la península?
- Quin és el pic més alt de la península Ibèrica? A quina serralada es troba?
- Quin és el pic més alt d'Espanya? A quina illa es troba?
- Quins mars i oceans banyen la península Ibèrica?
- Com s'anomena l'estret per on es comuniquen l'oceà Atlàntic i la Mar Mediterrània?
- Digues el nom dels rius més importants del vessant atlàntic.
- Quin és el riu més important del vessant mediterrani?
- Digues el nom de 2 serralades exteriors.
- Digues el nom de les dues depressions més importants.
- Digues el nom de dues serralades que envolten la Meseta.