

GEOGRAFIA ESO



11

ÀSIA

NOM _____

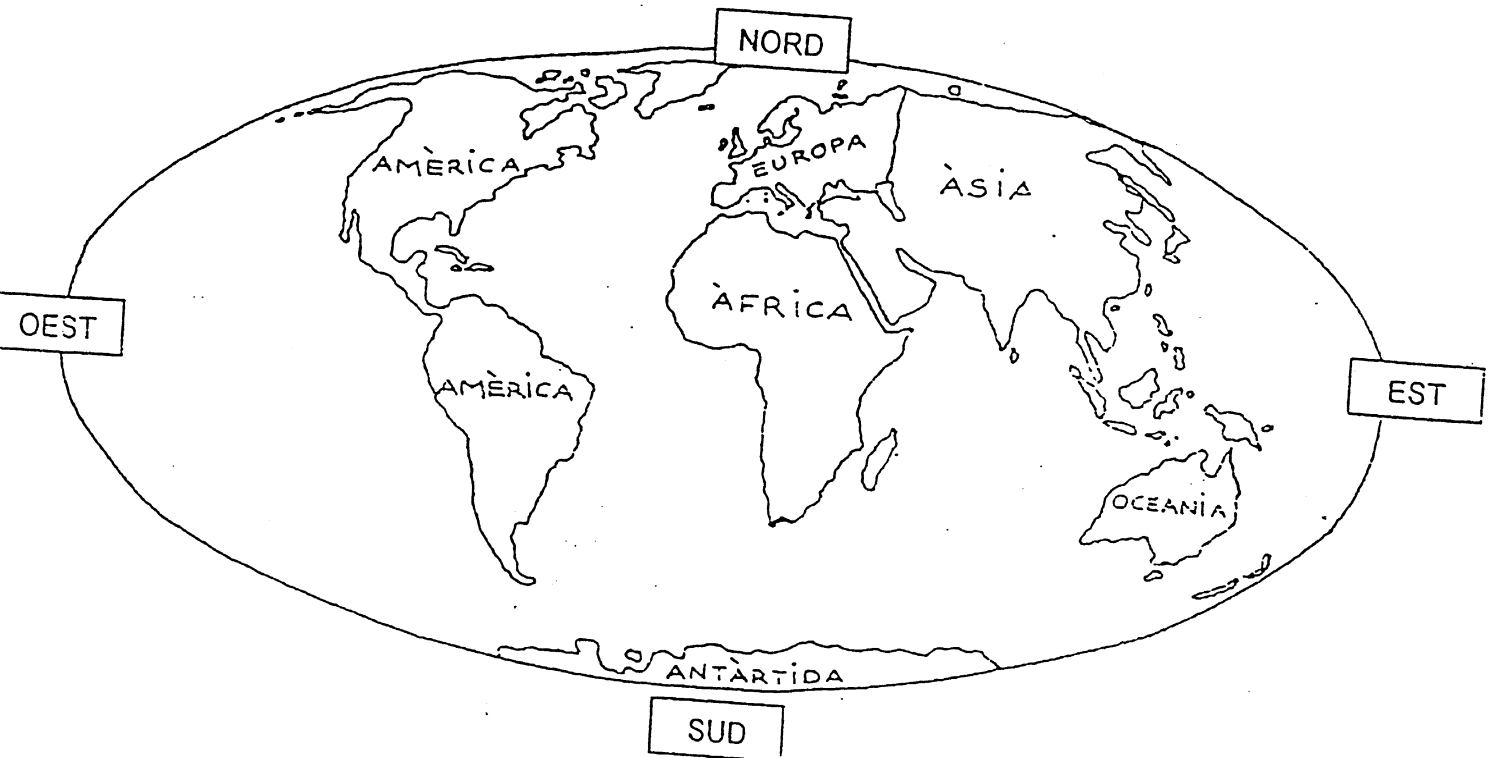
DATA _____

IES _____

ÀSIA

ACTIVITATS

- ✓ Busca Àsia a l'atles.
- ✓ Observa el planisferi i...
- 1. Ressegueix Àsia i pinta-la de color taronja.
- 2. Situa l'Oceà Àrtic, l'Oceà Índic i l'Oceà Pacífic.
- 3. Busca: la mar Mediterrània, la mar Negra, la mar Càspia i la mar Roja. Pinta-les de color blau.
- 4. Pinta de marró la serralada dels Urals.



Àsia és el continent més gran i més poblat del món.

Limita :
 al **nord** amb l'oceà Àrtic
 al **sud** amb l'oceà Índic
 a l'**est** amb l'oceà Pacífic

– i queda separada d'Europa a l'**oest** per la serralada dels Urals, la mar Càspia i la mar Mediterrània.

ACTIVITATS

5. Completa amb les següents paraules:

gran - Índic - serralada - continent - Pacífic - Càspia - Àrtic - Mediterrània

Àsia és el més i poblat del món.

Està banyada per 3 grans oceans : ,
i

Àsia queda separada d'Europa a l'oest per la dels
Urals, la mar i la mar

6. Classifica els següents mots :

Àrtic	Àsia	Roja	Pacífic
Càspia	Índic	Àfrica	Negra
Europa	Mediterrània	Atlàntic	Amèrica

CONTINENTS

OCEANS

MARS

.....
.....
.....
.....

.....
.....
.....
.....

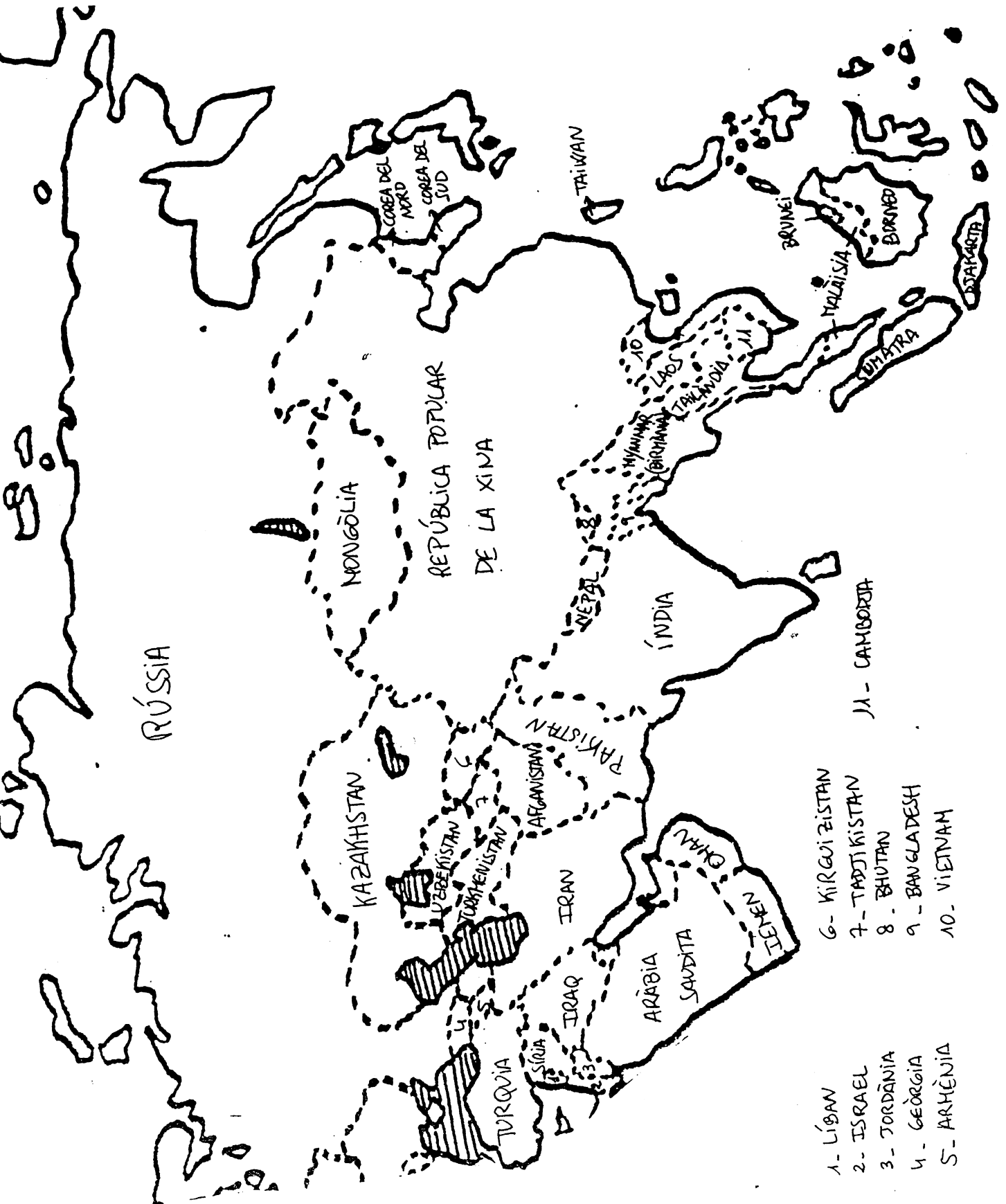
.....
.....
.....
.....

7. Completa :

Els límits d'Àsia:

al nord →
al sud →
a l'est →
a l'oest →

✓ Observa el mapa polític d'Àsia:



✓ Aquí tens la llista de tots els estats i les capitals d'Àsia:

ESTATS I CAPITALS D'ÀSIA	
ESTAT	CAPITAL
Afganistan	Kabul
Aràbia Saudita	ar-Riyad
Bahrain	Manama
Bangla Desh	Dacca
Bhutan	Thimbu
Brunei	Bandar Seri Begawan
Cambodja	Phnom Penh
Corea del Nord	Pyongyang
Corea del Sud	Seül
Filipines	Manila
Iemen	Sana
Índia	Nova Delhi
Indonèsia	Jakarta
Iran	Teheran
Iraq	Bagdad
Israel	Jerusalem
Japó	Tòquio
Jordània	Amman
Kazakhstan	Almaty
Kirguizistan	Pixpek
Kuwait	al-Kuwait
Laos	Vientiane
Liban	Beirut
Malàisia	Kuala Lumpur
Maldives	Male
Mongòlia	Ulan-Bator
Myanmar (Birmània)	Rangoon
Nepal	Kàtmandu
Oman	Masqat
Pakistan	Islamabad
Qatar	Doha
Rússia	Moscou
Singapur	Singapur
Síria	Damasc
Sri Lanka	Colombo
Tadjikistan	Duixambe
Tailàndia	Bangkok
Taiwan	Taipei
Turkmenistan	Aixkhabad
Turquia	Ankara
Unió dels Emirats Àrabs	Abu Dhabi
Uzbekistan	Taixkent
Vietnam	Hanoi
Xina	Pequín

ACTIVITATS:

✓ Ara treballaràs amb el mapa de la pàgina següent:

8. Pinta els països següents :

Israel	Aràbia Saudita
Iraq	Iran
Pakistan	Índia
Indonèsia	Vietnam
Xina	Japó
Filipines	Tailàndia
Turquia	Afganistan

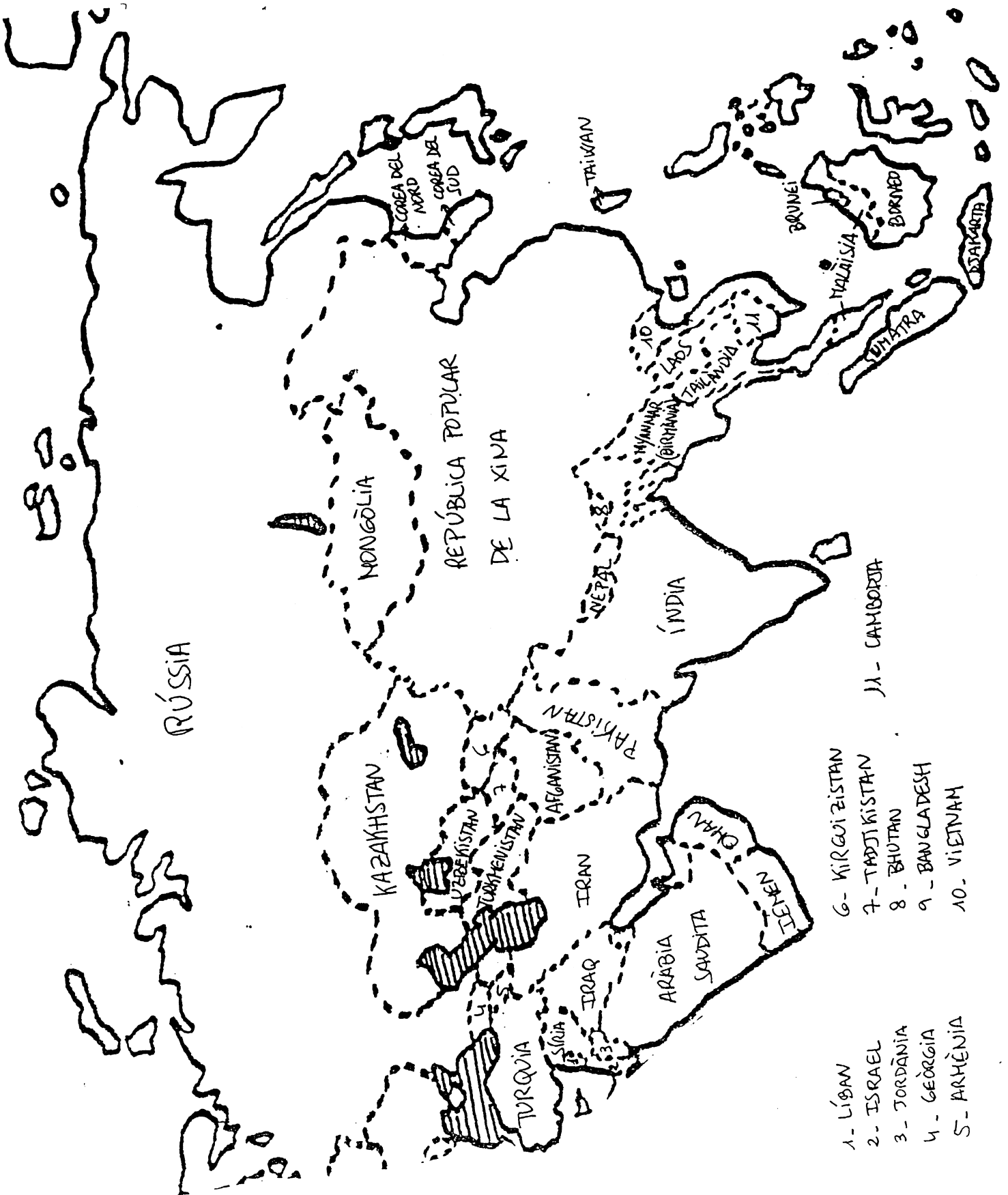
9. Escriu al costat de cada país del llistat anterior la seva capital.

10. Quins estats són els més petits?

11. I quins són els més grans?

12. Digues el nom de 2 països i les seves capitals dels llocs següents:

- nord d'Àsia
- sud d'Àsia
- oest d'Àsia
- centre d'Àsia



13. Relaciona cada estat amb la seva capital :

Afganistan	Manila
Corea del Sud	Teheran
Filipines	Bagdad
Índia	Pequín
Iran	Kabul
Iraq	Nova Delhi
Israel	Bangkok
Japó	Ankara
Tailàndia	Seül
Turquia	Tòquio
Xina	Jerusalem

14. Escriu el nom de països asiàtics que tinguin el següent número de lletres:

15. Escriu la lletra que li falta a cadascuna d'aquestes capitals asiàtiques:

JERUSA _ EM

BANG _ OK

PE _ UIN

SE _ L

TOQUI _

NOVA DE _ HI

_ ABUL

MA _ ILA

DAMA _ C

ANKA _ A

16. Busca el nom de països asiàtics que comencin per :

I

.....

.....

.....

.....

.....

M

.....

.....

.....

T

.....

.....

.....

.....

S

.....

.....

.....

17. Digues quins països limiten amb :

- a) l'Índia
- b) l'Iraq
- c) la Xina

ÀSIA FÍSICA


Àsia és el continent amb les muntanyes més elevades del món.

Al nord té les zones més fredes i humides del planeta i al sud, en canvi, té algunes de les zones més càlides.


El relleu d'Àsia destaca:

- ⇒ la gran gran plana de Sibèria, al nord
- ⇒ grans altiplans; el del Tibet.
- ⇒ serralades joves; la més important és la serralada de l'Himàlaia, que té uns 2500 km de llargada i uns 300 km d'amplada. És on hi ha el pic més alt del món: l'**Everest** (8872 m).
- ⇒ el desert de Góbi

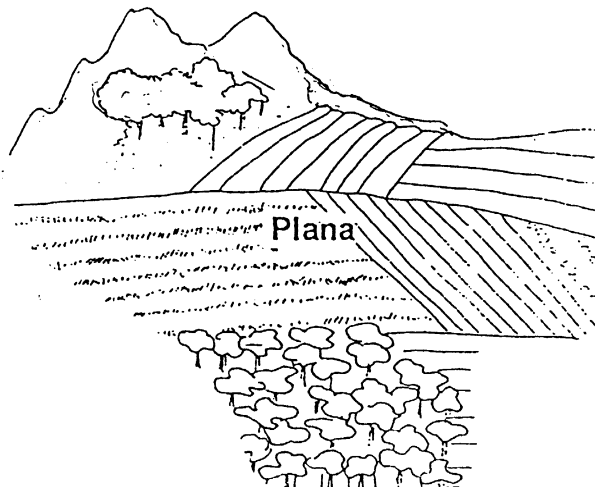
SERRALADA




ALTIPLÀ



PLANA

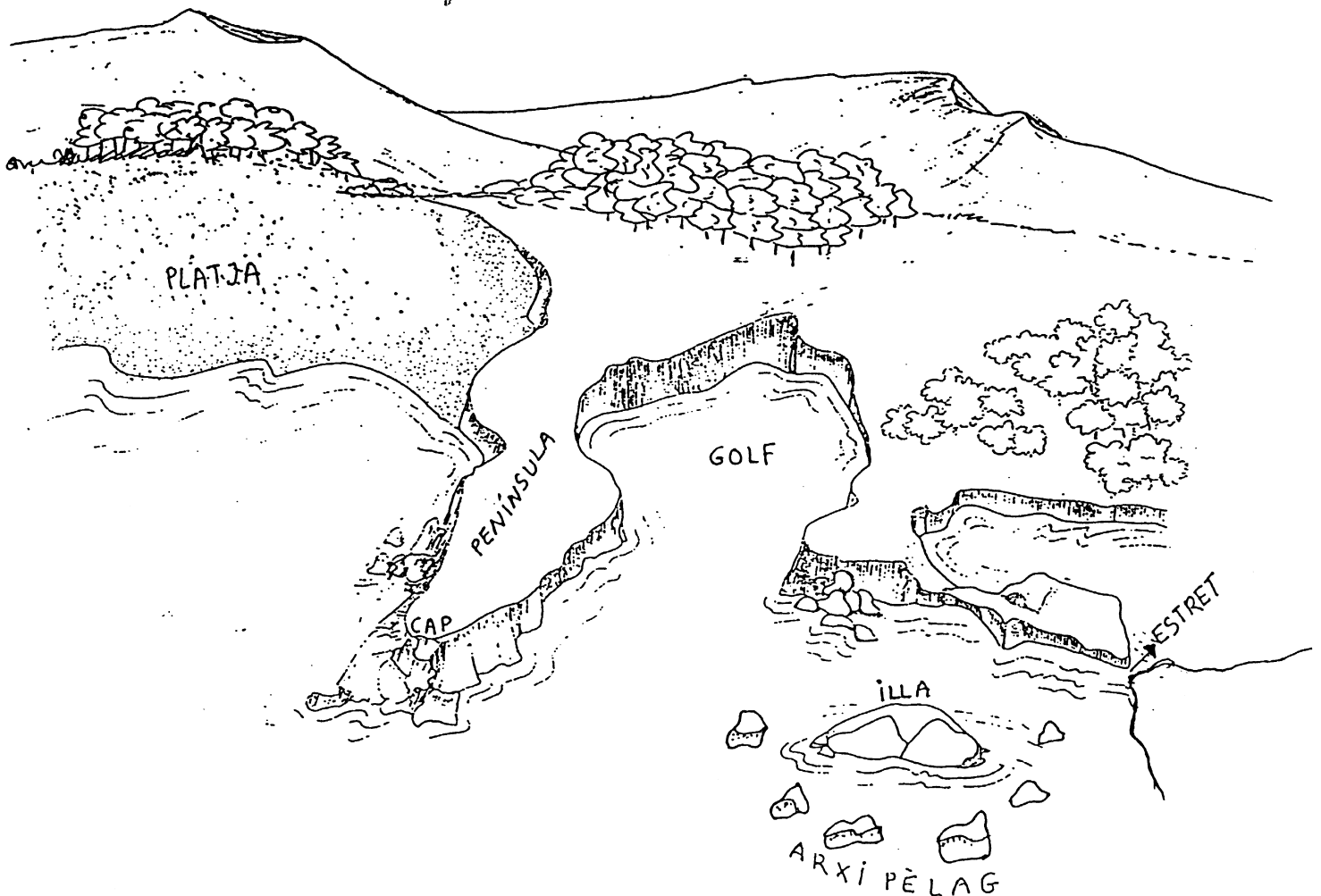


DESERT



El litoral d'Àsia es caracteritza per:

- ⇒ **penínsules**: la península Aràbiga, la península d'Indo-xina.
- ⇒ les **illes** més importants són:
 - a l'oceà glacial Àrtic: Nova Terra
 - a l'oceà Pacífic: l'arxipèlag del Japó i el de les Filipines
 - a l'oceà Índic: Borneo, Sumatra, Java
- ⇒ el **golf** Pèrsic
- ⇒ L'**estret de Bering** separa el continent asiàtic de l'americà



Els rius asiàtics són, en general, molt llargs i cabalosos.

⇒ al vessant àrtic, els més importants són l'Obi, el Ienissei i el Lena

⇒ al vessant pacífic, l'Amur, el Huang He (riu Groc), el Iang-Tsé (riu Blau) i el Mekong

⇒ al vessant índic, el Ganges, l'Indus, el Tigris i l'Eufrates.

Rius asiàtics més llargs

Iang - Tsé: 5800 km

Huang He (riu Groc): 4845 km

Lena: 4400 km

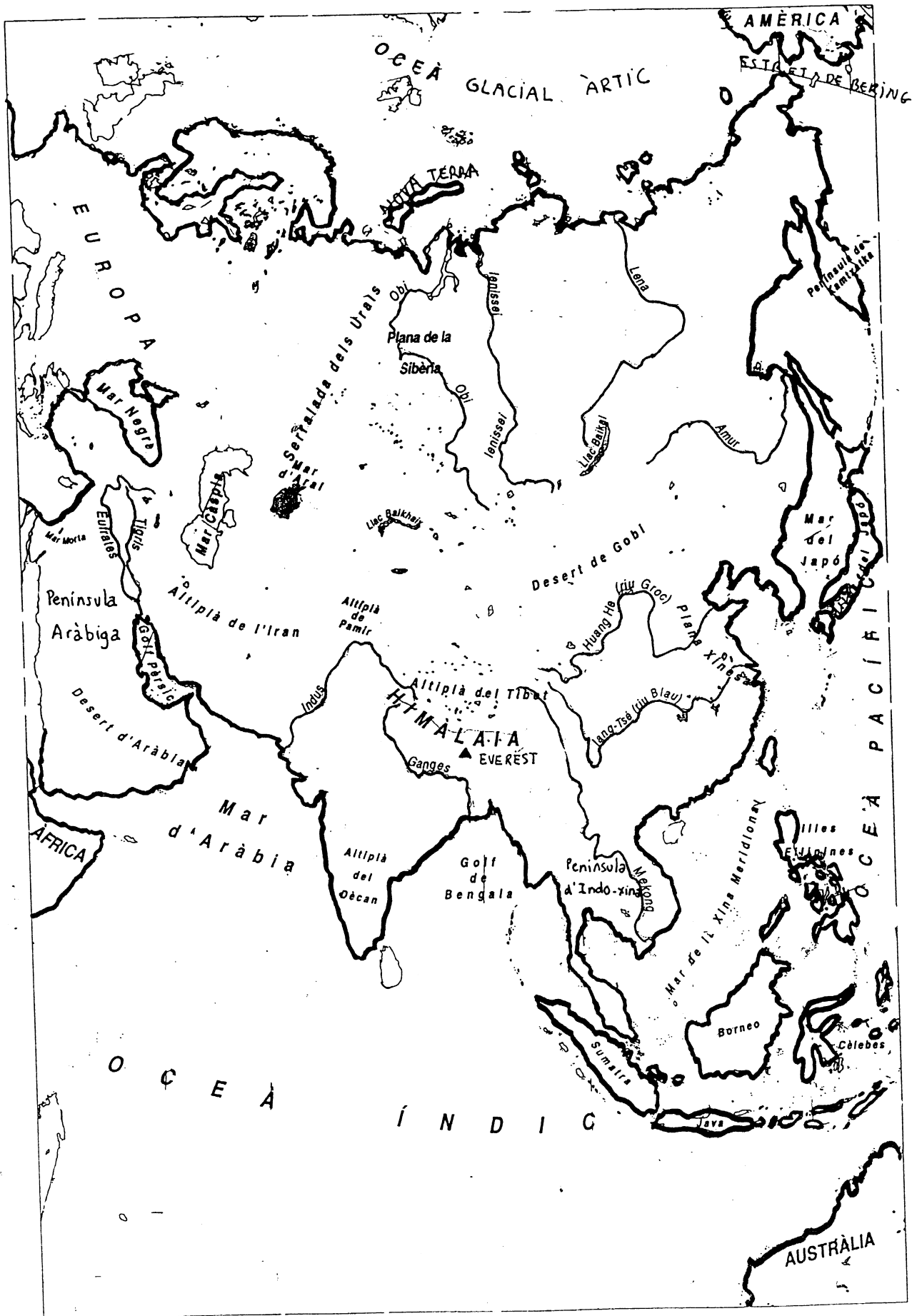
Amur: 4350 km

Mekong: 4180 km

ACTIVITATS:

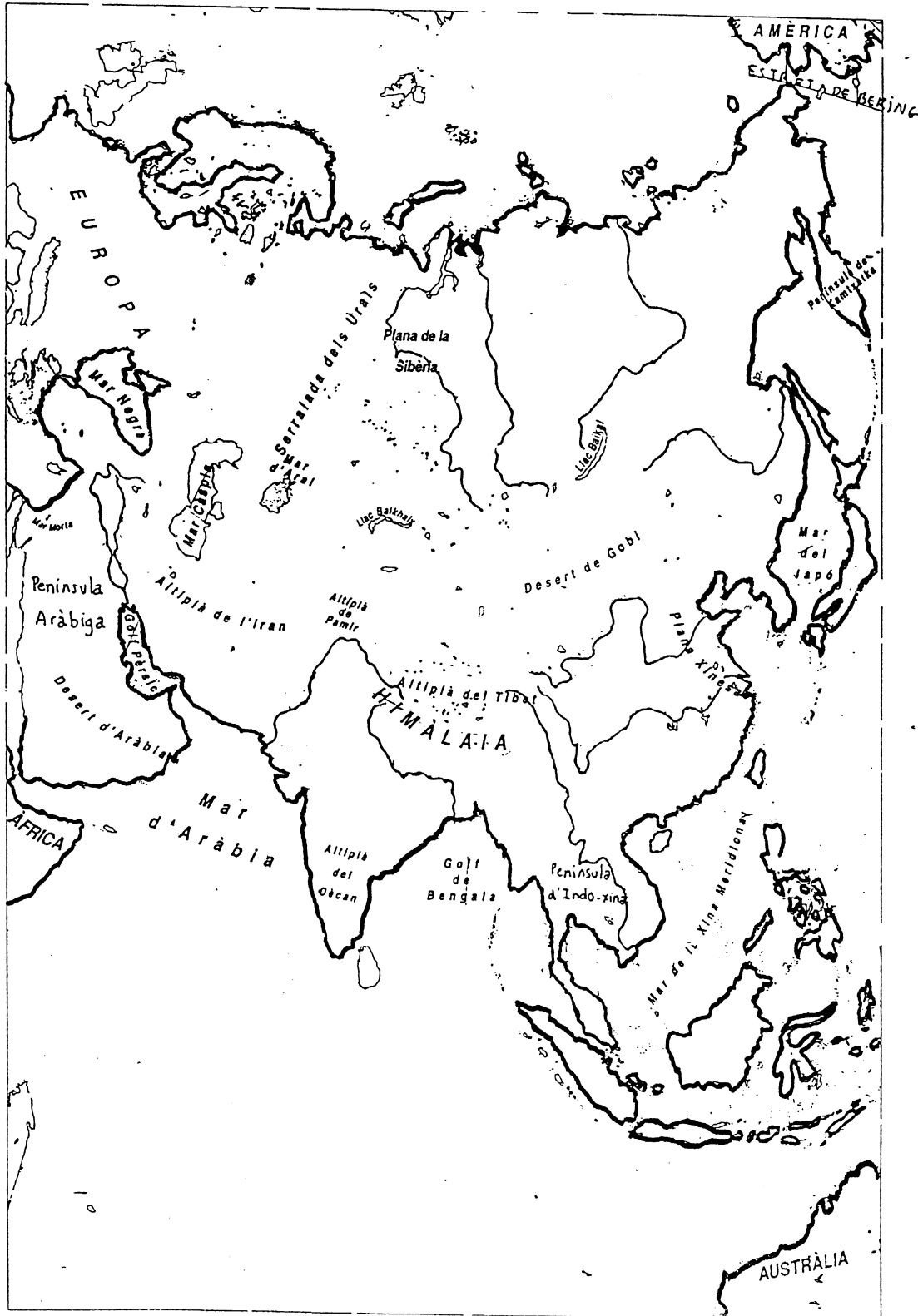
18. Observa el mapa de l'Àsia física de la pàgina següent:

- Pinta de color groc la gran plana de Sibèria
- Pinta de color taronja la península Aràbiga i la d'Indo-xina
- Pinta de color marró clar l'altiplà del Tibet
- Pinta de color marró fosc la serralada de l'Himàlaia i marca el pic de l'Everest
- Pinta de color rosa el desert de Gobi
- Pinta de color blau el Golf Pèrsic i l'estret de Bering



19. Completa el mapa mut de l'Àsia física.

- Pinta de color blau els rius. Escribeu els seus noms
- Pinta de color groc les illes més importants. Escribeu els noms
- Acoloreix de blau l'oceà Glacial Àrtic, l'oceà Índic i l'oceà Pacífic. Escribeu els seus noms.



20. Endequina:

- Nom de l'estret que separa Àsia d'Amèrica

□ □ □ □ □ □

- Nom de la serralada que separa Àsia d'Europa

□ □ □ □ □

- Nom de la serralada més important d'Àsia

□ □ □ □ □ □ □ □

- Nom del pic més alt del món

□ □ □ □ □ □ □

- Nom d'un desert asiàtic

□ □ □ □

- Nom d'un altiplà asiàtic

□ □ □ □ □

- Nom d'una gran plana asiàtica

□ □ □ □ □ □ □

- Nom d'una península asiàtica

□ □ □ □ □ □ □

- Golf situat entre Aràbia i Iran

□ □ □ □ □ □

- Nom del riu asiàtic més llarg

□ □ □ □ □ □ □ □

21. Ratlla la paraula o paraules que no corresponen a cada grup:

RIUS ASIÀTICS

Huang He (riu Groc)
Mississipí
Nil
Ebre
Iang-Tsé

ILLES D'ÀSIA

Antilles
Madagascar
Sumatra
Balears
Borneo

PENÍNSULES D'ÀSIA

Ibèrica
Indo-xina
Itàlica
Aràbiga
Amazònica

CAPITALS D'ÀSIA

Buenos Aires
Jerusalem
Alger
París
Tòquio

PAÏSOS ASIÀTICS

Japó
Mèxic
Marroc
Espanya
Xina

**MARS QUE BANYEN
ÀSIA**

Mediterrània
Negra
Càspia
Roja
Carib

DESERTS ASIÀTICS

Sàhara
Gobi

**SERRALADES
ASIÀTIQUES**

Andes
Himàlaia
Atles
Pirineus
Urals