


# GEOGRAFIA ESO



# 12

# ÀFRICA

NOM \_\_\_\_\_

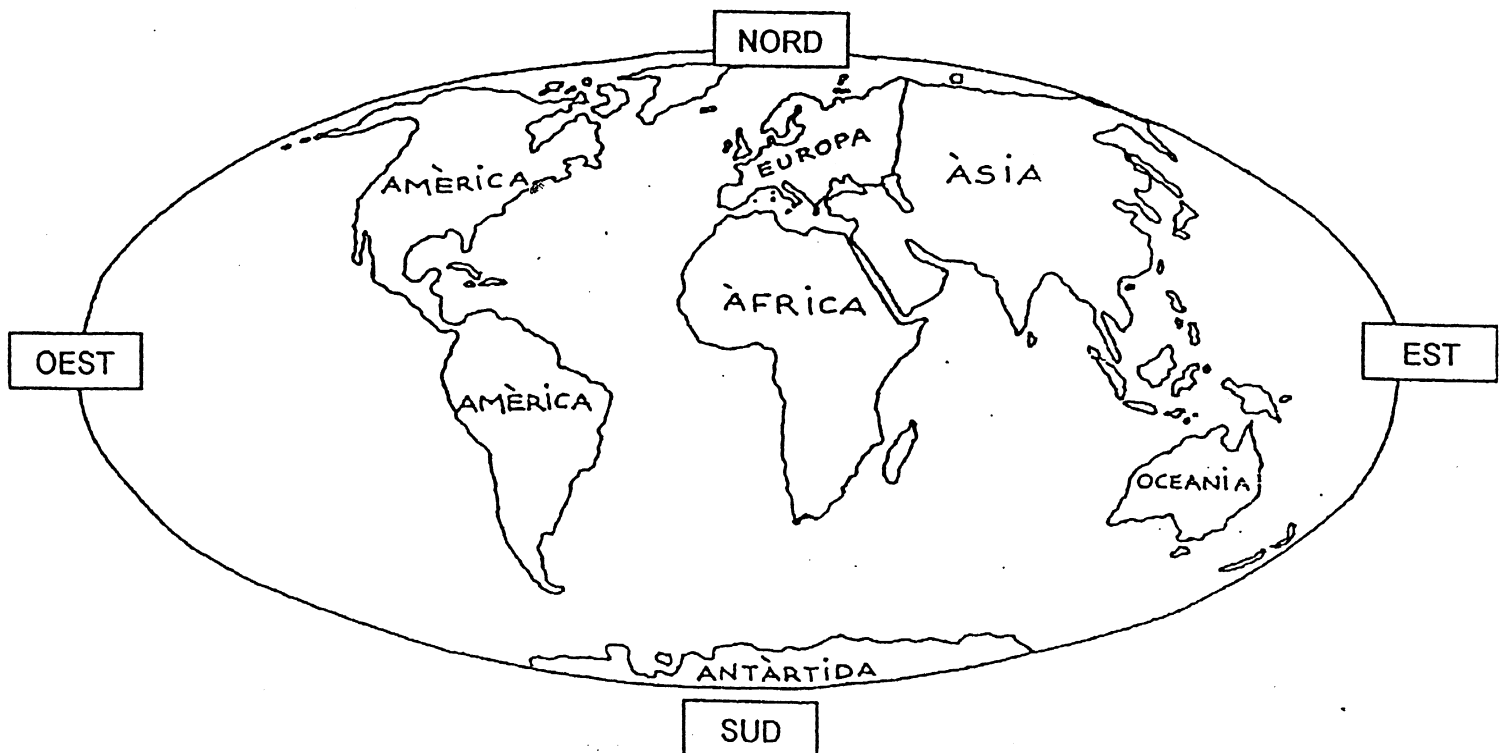
DATA \_\_\_\_\_

IES \_\_\_\_\_

## ÀFRICA

### ACTIVITATS

- ✓ Busca Àfrica a l'atles.
- ✓ Observa el planisferi i...
- 1. Ressegueix Àfrica i pinta-la de color verd.
- 2. Situa l'Oceà Atlàntic i l'Oceà Índic.
- 3. Busca: la mar Mediterrània i la mar Roja. Pinta-les de color blau.



Àfrica és un continent molt extens. Té més de 30.000.000 Km<sup>2</sup>  
 Limita al **nord** amb la mar Mediterrània  
 al **sud** amb la barreja de dos oceans: l'Índic i l'Atlàntic  
 a l'**est** amb l'oceà Índic i la mar Roja  
 a l'**oest** amb l'oceà Atlàntic

**ACTIVITATS**

4. Situa al mapa d'Àfrica el nord, sud, est i oest.
5. Escriu els límits d'Àfrica.



6. Quins mars banyen Àfrica?

.....

7. I quins oceans?

.....

8. Observa el mapa polític d'Àfrica. Aquí hi trobaràs tots els estats africans.



✓ Aquí tens la llista dels estats africans i les seves capitals.

ESTATS I CAPITALS D'ÀFRICA	
ESTAT	CAPITAL
Algèria	Alger
Angola	Luanda
Benín	Porto-Novo
Botswana	Gaborone
Burkina Fasso	Ouagadougou
Burundi	Bujumbura
Camerun	Yaoundé
Cap Verd	Praia
República Centrafricana	Bangui
Comores	Moroni
Congo	Brazzaville
Costa d'Ivori	Yamoussoukro
Djibouti	Djibouti
Egipte	El Caire
Eritrea	Asmara
Etiòpia	Addis Abeba
Gabon	Libreville
Gàmbia	Banjul
Ghana	Accra
Guinea	Conakry
Guinea Bissau	Bissau
Guinea Equatorial	Malabo
Kenya	Nairobi
Lesotho	Maseru
Libèria	Monròvia
Líbia	Tripoli
Madagascar	Antananarivo
Malawi	Lilongwe
Mali	Bamako
Marroc	Rabat
Maurici	Port Louis
Mauritània	Nouakchott
Moçambic	Maputo
Namíbia	Windhoek
Níger	Niamey
Nigèria	Abuja
Ruanda	Kigali
São Tomé i Príncipe	São Tomé
Senegal	Dakar
Seychelles	Victoria
Sierra Leone	Freetown
Somàlia	Mogadiscio
Suaziland	Mbabane
República de Sud-àfrica	Ciutat del Cap
Sudan	Khartum
Tanzània	Dodoma
Togo	Lomé
Tunísia	Tunis
Txad	N'Djamena
Uganda	Kampala
Zaire	Kinshasa
Zàmbia	Lusaka
Zimbabwe	Harare

- ✓ Observa el mapa d'Àfrica de la pàgina següent i pinta aquests països. Posahí el nom.

Marroc

Algèria

Tunísia

Líbia

Egipte

Madagascar

República de Sud-Àfrica

Senegal

Gàmbia

Nigèria

Etiòpia

Camerun

República Democràtica del Congo

9. Escriu les capitals dels països anteriors.

10. Situa-les al mapa amb l'ajut de l'atles.

11. Digues el nom de 2 països...

- ✓ que estiguin al nord d'Àfrica
- ✓ que estiguin al sud
- ✓ que estiguin a l'est
- ✓ que estiguin a l'oest
- ✓ que estiguin al centre d'Àfrica

12. A cada país li falta alguna lletra. Completa'ls:

SENEG\_L

MA \_\_ OC

TUN \_\_ I A

ETI \_\_ IA

EGI \_\_ E

LIB \_\_

CA \_\_ ER \_\_ N

GAM \_\_ A

NIG \_ R \_\_



## ÀFRICA FÍSICA

A L'Àfrica hi predominen les muntanyes envellides, els **deserts** i, també, muntanyes més joves.

Hi trobem **rius** cabalosos i llargs, així com un gran nombre de **llacs**.


**llac** →

extensió d'aigua envoltada de terra per totes bandes.


**desert** →

lloc molt sec sense vegetació i on no hi viu ningú.

**DESERT**



**LLAC**



### APRÈN :

A l'Àfrica hi trobem :

- el **desert** més gran del món: el Sàhara
- la serralada de l'Atlas
- el pic més alt de tot el continent africà és el **Kilimanjaro** (5895 m)
- el riu més llarg del món: el **Nil** (6671 Km), i altres rius com el **Níger** i el **Congo**.
- un dels **llacs** més importants és el llac **Victòria**.
- l'illa de Madagascar



## ACTIVITATS:

13. Observa el mapa de l'Àfrica física:

- Pinta de color marró la serralada de l'Atles
- Pinta de color groc el desert del Sàhara
- Pinta de color blau el llac Victòria
- Ressegueix els rius Nil, Congo i Níger
- Pinta de color taronja l'illa de Madagascar



14. Observa el mapa d'Àfrica i marca amb una creu la resposta correcta:

- El gran desert del Sàhara està situat :

al nord

al sud

- L'illa de Madagascar es troba a :

l'oceà Atlàntic

l'oceà Índic

- El riu més llarg del món és:

el Nil

el Congo

- La serralada de l'Atles es troba :

al Marroc

al Zaire

- El pic més alt de l'Àfrica és:

l'Everest

el Kilimanjaro

- Un dels llacs més importants de l'Àfrica és el llac :

Victòria

Banyoles

- La mar ..... limita amb el continent africà.

Negra

Roja

- El riu ..... és africà :

Ebre

Níger

- Àfrica limita al nord amb la mar.....

Mediterrània

Roja

- El Marroc és:

al nord d'Àfrica

al sud d'Àfrica