

GEOGRAFIA ESO



13

AMÈRICA

NOM _____

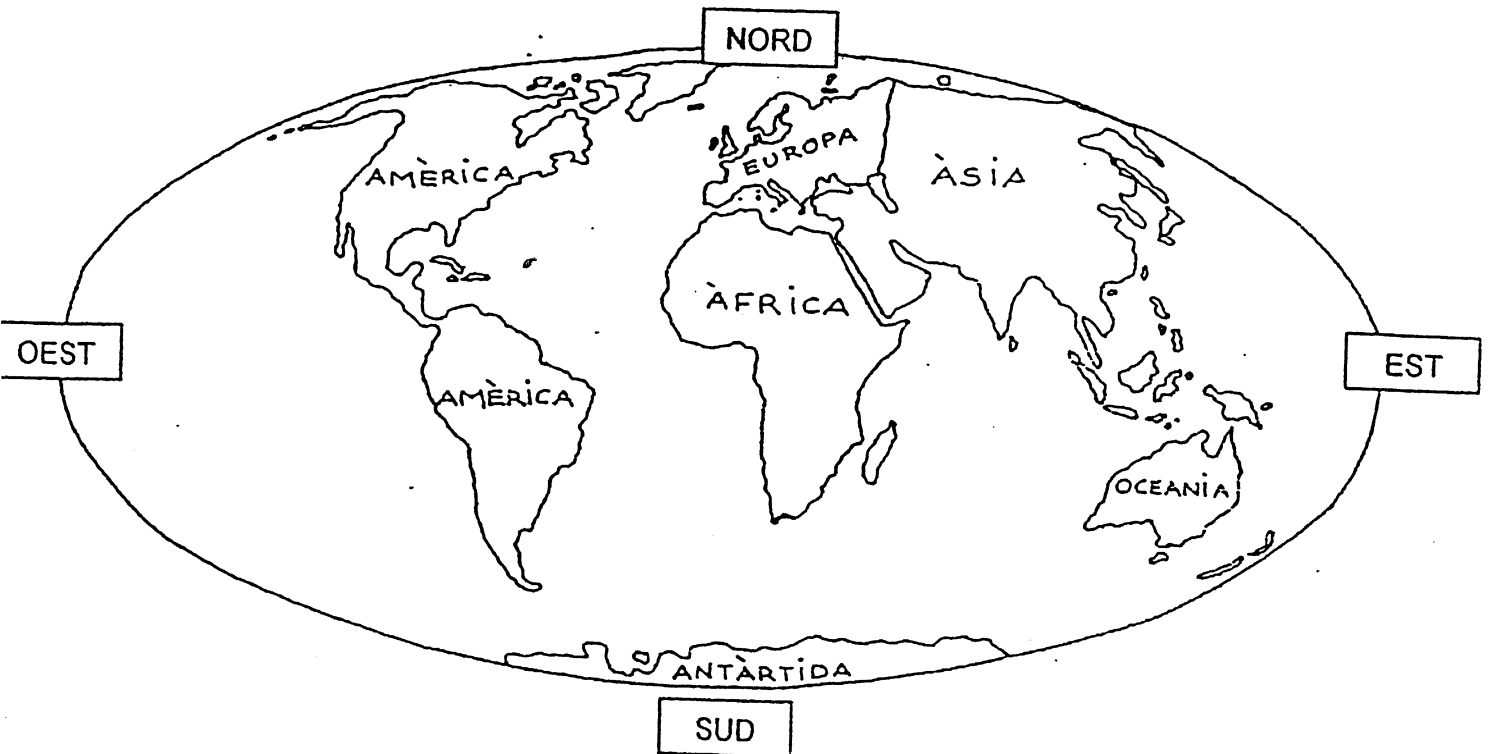
DATA _____

IES _____

AMÈRICA

ACTIVITATS

- ✓ Busca Amèrica a l'atles.
 - ✓ Observa el planisferi i...
1. Ressegueix Amèrica i pinta-la de color groc.
 2. Situa l'Oceà Atlàntic i l'Oceà Pacífic.



Amèrica és el més llarg dels continents. Per estudiar-la, se sol dividir en 3 parts:

- Amèrica del Nord
- Amèrica Central
- Amèrica del Sud

Els seus límits són :

al nord: l'oceà Àrtic

al sud: la barreja de dos oceans: l'Atlàntic i el Pacífic

a l'est: l'oceà Atlàntic

a l'oest: l'oceà Pacífic

ACTIVITATS

3. Escribe al mapa d'Amèrica els seus límits.
4. Situa: Amèrica del Nord, Amèrica Central i Amèrica del Sud.



5. Observa el mapa polític d'Amèrica:



✓ Aquí tens la llista dels estats i les capitals d'Amèrica:

ESTATS I CAPITALS D'AMÈRICA	
ESTAT	CAPITAL
Antigua i Barbuda	Saint John's
Argentina	Buenos Aires
Bahames	Nassau
Barbados	Bridgetown
Belize	Belmopan
Bolívia	La Paz
Brasil	Brasília
Canadà	Ottawa
Colòmbia	Santa Fe de Bogotà
Costa Rica	San José
Cuba	L'Havana
Dominica	Roseau
Dominica (República)	Santo Domingo
Equador	Quito
Estats Units d'Amèrica	Washington
Grenada	Saint George's
Guatemala	Guatemala
Guyana	Georgetown
Haití	Port-au-Prince
Hondures	Tegucigalpa
Jamaica	Kingston
Mèxic	Ciutat de Mèxic
Nicaragua	Managua
Panamà	Panamà
Paraguai	Asunción
Perú	Lima
Saint Kitts-Nevis	Basseterre
Saint Lucia	Castries
Saint Vincent	Kingstown
El Salvador	San Salvador
Surinam	Paramaribo
Trinitat i Tobago	Port of Spain
Uruguai	Montevideo
Veneçuela	Caracas
Xile	Santiago de Xile

✓ Observa el mapa d'Amèrica de la pàgina següent i pinta aquests països.

Posa-hi el nom.

Canadà

República Dominicana

Estats Units

Colòmbia

Mèxic

Veneçuela

Cuba

Perú

Equador

Brasil

Argentina

Xile

Bolívia

Paraguai

6. Escriu les capitals dels països anteriors.

7. Digues el nom de 2 països...

- ✓ d'Amèrica del Nord
- ✓ d'Amèrica central
- ✓ d'Amèrica del Sud

8. Busca 9 països americans en els següents mots encreuats:

X	I	L	E	D	T	C	U	B	A
S	D	A	R	Y	A	J	U	R	R
M	F	J	P	U	B	R	U	A	G
E	Q	U	A	D	O	R	O	S	E
X	U	I	R	T	L	O	P	I	N
I	P	O	A	A	I	F	G	L	T
C	X	R	G	H	V	F	U	L	I
N	Z	B	U	A	I	T	R	A	N
X	I	C	A	N	A	D	A	S	A
B	O	L	I	N	U	L	P	S	E



9. Forma amb aquests grups de síl·labes noms de capitals americanes i digues de quins països són.

	LI
MA	

SI	BRA
LI	A

	ME
XIC	

	WAS
TON	HING

AI	BUE
NOS	RES

VA	NA
	L'HA

	TO
QUI	

WA	O
	TTA

GO	BO
	TA

10. A cada país li falta alguna lletra. Completa'ls:

E _ T _ _ S U _ _ _ S

B _ _ _ L

_ _ G _ _ T _ _ A

_ _ X _ _

_ _ _ Ú

C _ _ _ A

P _ _ _ G _ _ I

U _ _ _ _ I

C _ _ _ M _ I _

_ _ _ E

L' _ _ _ A _ _ R

V _ _ _ _ U _ _ A

AMÈRICA FÍSICA

El relleu d'Amèrica destaca per :

- les Muntanyes Rocalloses
- la serralada dels Andes (pic de l'Aconcagua 6969 m)
- les penínsules: l'Amazònia i la Patagònia

Amèrica és terra de grans rius:

- El Mississipí (5970 km)
- L'Amazones (6280 km)

La majoria d'aquests rius són navegables.

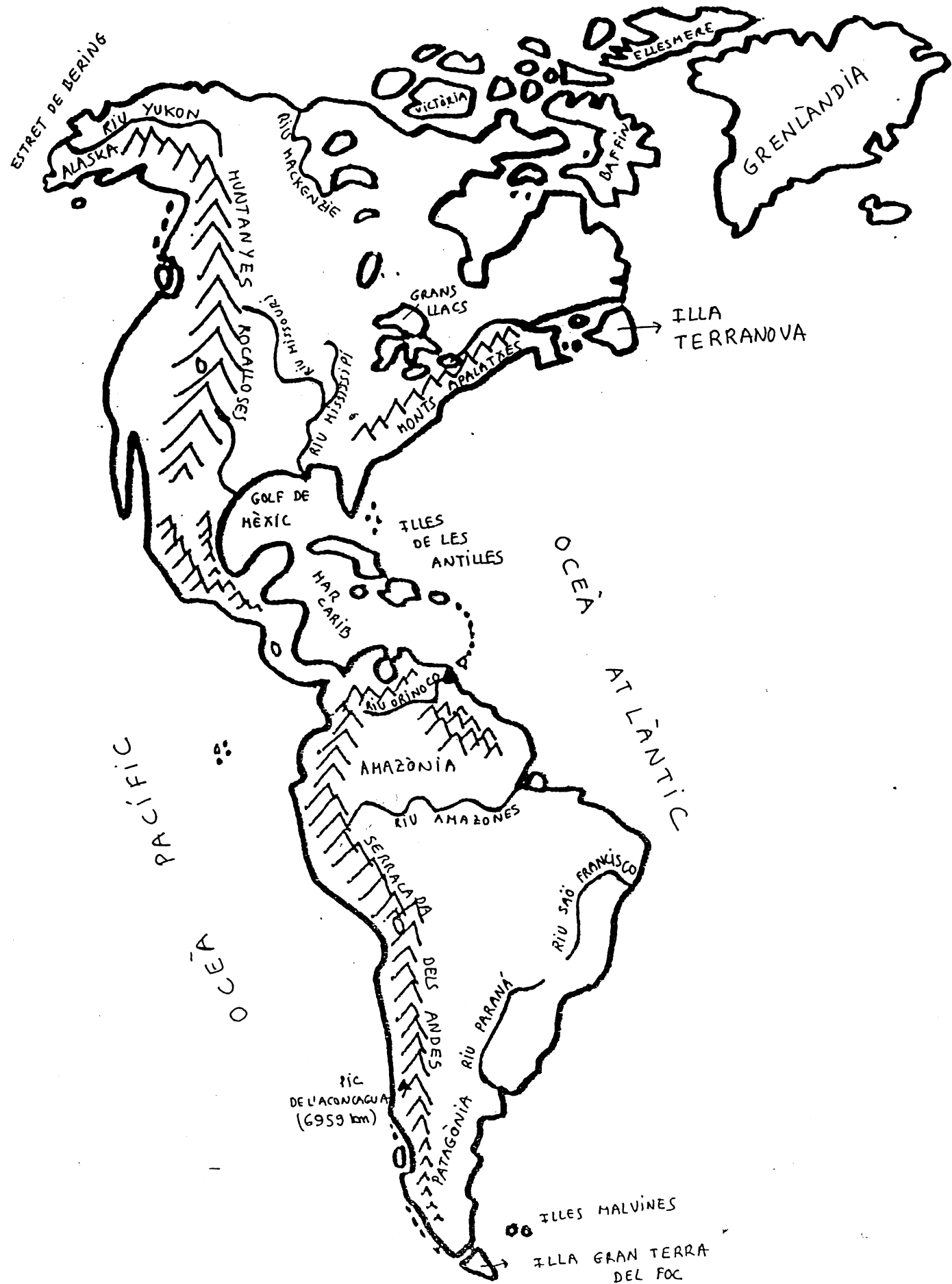
Illes importants:

- Al nord: Grenlàndia i Terranova
- Al sector central: Illes de les Antilles
- Al sud: l'Illa Gran de la Terra del Foc

ACTIVITATS:

11. Observa el mapa de l'Amèrica física de la pàgina següent:

- Pinta de color marró les Muntanyes Rocalloses i els Andes.
- Pinta de color taronja les penínsules de l'Amazònia i la Patagònia
- Ressegueix de blau els rius Amazones i Mississipí. Ressegueix altres rius que trobis al mapa.
- Pinta de color groc les illes més importants que trobis al mapa.
- Pinta el Mar del Carib, l'Oceà Atlàntic i l'Oceà Pacífic.



12. Observa el mapa d'Amèrica i marca amb una creu la resposta correcta:

- Les Muntanyes Rocalloses són a...
 - Amèrica del nord
 - Amèrica Central
- El riu Amazones travessa...
 - la Patagònia
 - l'Amazònia
- L'illa Gran de la Terra del Foc es troba...
 - al nord
 - al sud
- Les Illes de les Antilles es troben:
 - a l'oceà Pacífic
 - al mar del Carib
- L'Aconcagua és el pic més alt de...
 - les Muntanyes Rocalloses
 - la serralada dels Andes
- Terranova és:
 - una illa
 - un riu
- El Mississipí és:
 - un riu
 - un pic
- L'oceà Pacífic es troba:
 - a l'est d'Amèrica
 - a l'oest d'Amèrica
- Grenlàndia és una gran illa situada:
 - al sector central
 - al nord
- Estats Units es troba:
 - al nord d'Amèrica
 - al sud d'Amèrica

13. Llegeix el següent text sobre els rius americans:

LA XARXA HIDROGRÀFICA D'AMÈRICA

Els grans rius americans són llargs i cabalosos. Com a característica general, cal indicar que els rius que desemboquen a l'oceà Atlàntic ho són molt més que els que ho fan a l'oceà Pacífic. Segons la mar on desemboquen, els rius americans es poden classificar en tres vessants:

- El **vessant àrtic**, que comprèn rius llargs i cabalosos, glaçats durant una bona part de l'any. Els més importants són el Yukon i el Mackenzie. També cal destacar-hi un gran nombre de llacs d'origen glacial.
- El **vessant atlàntic**, integrat per rius molt llargs i cabalosos que travessen grans planes. Els més importants són:
 - A l'Amèrica del Nord, el Sant Llorenç, el Mississipí (amb els seus afluents el Missouri, l'Arkansas i l'Ohio) i el Río Grande.
 - A l'Amèrica del Sud, l'Orinoco, l'Amazones i el Paraná, que juntament amb els rius Uruguai i Paraguai forma el Riu de la Plata.
- El **vessant pacífic**, que inclou rius curts i menys cabalosos. Els més importants són el Colorado i el Columbia, tots dos a l'Amèrica del Nord.

Rius americans més llargs:


Mississipí – Missouri :6800 Km

Amazones – Ucayali :6280 km

Mackenzie :4600 km

Paraná :3700 km

Yukon :2554 km


**Contesta:**

- Quins rius són més cabalosos, els que desemboquen a l'oceà Atlàntic o els que ho fan a l'oceà Pacífic?
- Digues el nom de 2 rius que desemboquin :
 - a) al vessant àrtic
 - b) al vessant atlàntic
 - c) al vessant pacífic
- Quins són els rius americans més llargs?

14. A continuació tens un altre text sobre els llacs americans:

Amèrica és el continent que té el nombre més alt de **llacs** importants, la major part a l'Amèrica del Nord. Al Canadà hi ha el Gran Llac dels Óssos, el Gran Llac de l'Esclau, l'Athabasca, el Winnipeg i el Manitoba. Però la conca lacustre més important d'Amèrica és la dels Grans Llacs, situada a la frontera entre el Canadà i els Estats Units i formada pels llacs Superior, Michigan, Huron, Erie i Ontario. El llac de Nicaragua és el més gran de l'estreta part central del continent.

Els llacs més importants de l'Amèrica del Sud són el de Maracaibo, a Veneçuela, i el de Titicaca, entre el Perú i Bolívia.

**Completa :**

- Amèrica és el continent que té el nombre més alt de llacs importants, la major part són a _____.
- Al Canadà hi ha el _____,
_____, _____,
_____ i el _____.
- La conca lacustre més important d'Amèrica és la dels Grans Llacs, situada a la frontera entre el _____ i els _____ i formada pels llacs _____, _____, _____ i _____.
- El llac de _____ és el més gran de l'estreta part central del continent.
- Els llacs més importants de l'Amèrica del Sud són el de _____ a Veneçuela i el de _____, entre el Perú i Bolívia.