

TASCA 2.- LA POBLACIÓ

Amb un 22% de la terra emergida del planeta, Àfrica representa el 14% de la població mundial i una densitat de 32 h/km², superior a la d'Amèrica i Oceania, però molt inferior a Europa i Àsia

POBLACIÓ MUNDIAL PER CONTINENTS (2012)	EXTENSIÓ KM ²	% SOBRE TOTAL	HABITANTS 2012	% SOBRE TOTAL	DENSITAT
ÀSIA	43.810.000	32	4.200.000.000	60	96
ÀFRICA	30.370.000	22	980.000.000	14	32
AMÈRICA DEL NORD (Mèxic, USA, Canadà)	24.490.000	18	550.000.000	8	22
AMÈRICA DEL SUD I CENTRAL	17.840.000	13	400.000.000	6	22
EUROPA (inclou Grenlàndia)	10.180.000	8	830.000.000	12	82
OCEANIA	8.500.000	6	35.000.000	1	4
TOTAL	135.190.000	100	6.995.000.000	100	52

UNA POBLACIÓ EN RÀPID CREIXEMENT

Tot i que no es tracta d'un continent excessivament poblat, el creixement de la població és molt accelerat. La població s'ha triplicat des del 1950, en que era de 220 milions d'habitants i actualment s'apropa als mil milions d'habitants. Es calcula que si continua aquest creixement, a l'any 2025 haurà superat els 1.300 milions.

UNA POBLACIÓ JOVE

Una de les característiques de la població africana, és que té la proporció de població jove més elevada del món. Quasi la meitat de la població és menor de 15 anys i sols el 3,3% té més de 65 anys.

DISTRIBUCIÓ DE LA POBLACIÓ MUNDIAL PER GRUPS D'EDAT (en %)	POBLACIÓ JOVE (<15 anys)	POBLACIÓ ADULTA (15-65 anys)	POBLACIÓ ENVELLIDA (>65 anys)
ÀFRICA	41	56	3
AMÈRICA DEL NORD	20	67	13
AMÈRICA LLATINA	30	64	6
ÀSIA	27	66	7
EUROPA	16	68	16
OCEANIA	25	65	10

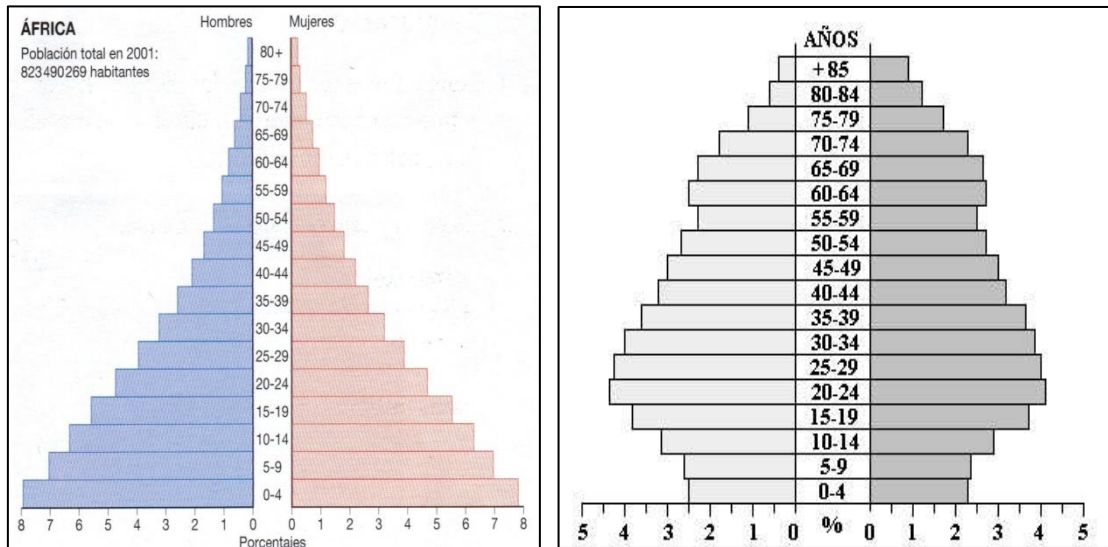
La taxa de fecunditat és de 4,75 fills per dona, però a zones com Malí o Níger, la mitjana és superior als 7 fills.

La mortalitat infantil és molt elevada: del 170/1000 a Malawi, el 138/1000, de

124/1000 a Guinea i Rwanda i del 125/1000 a Angola.

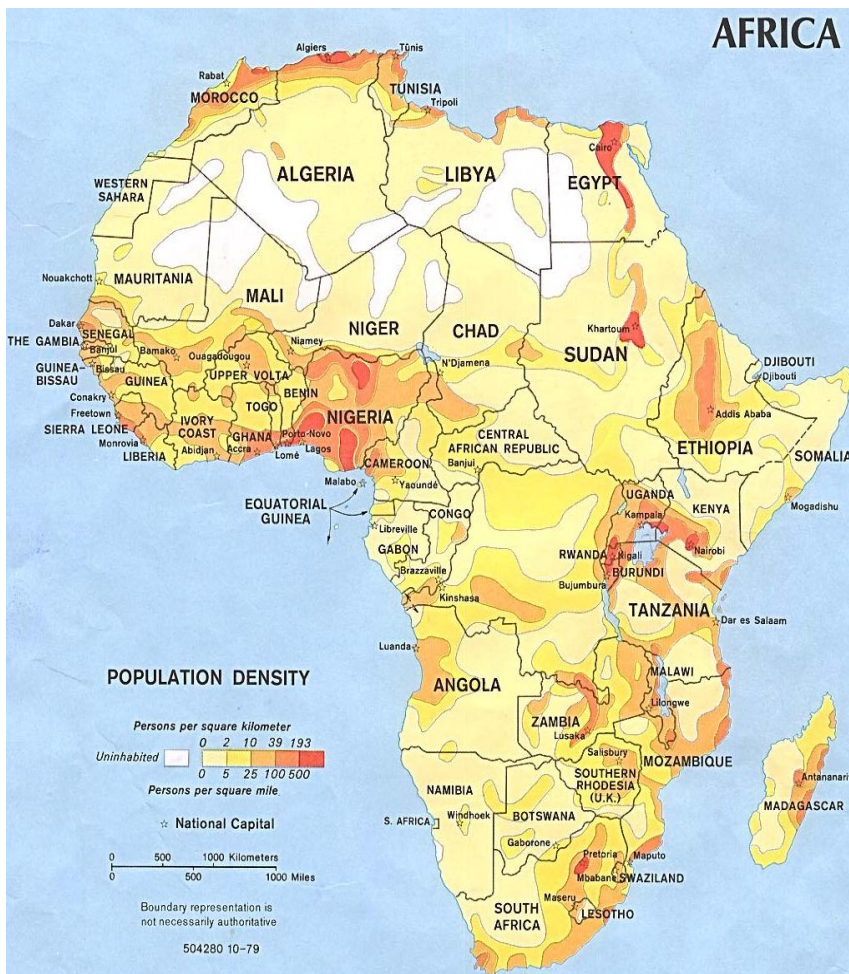
L'esperança de vida és molt reduïda, entorn els 57 anys. Sols tres estats: Maurici, Líbia i Tunísia tenen una esperança de vida superior als 67 anys, mentre que a altres com Sierra Leona, Malawi o Rwanda, sols arriben als 40 anys.

Com a conseqüència de la joventut i la baixa esperança de vida de la població africana, la piràmide de població té forma triangular amb una ampla base i una cúspide estreta



piràmides de població comparades Àfrica i Europa

UNA POBLACIÓ DESIGUALMENT DISTRIBUÏDA



El poblament africà és molt desigual per les condicions sovint inhòspites del medi físic. Les àrees més densament poblades es localitzen als rius i llacs, cercant l'accés a l'aigua potable. Les valls fèrtils dels grans rius, com el delta del Nil, el Níger i Congo assoleixen densitats de més de 300 hab./km².

Altres zones de gran concentració de població es localitzen a la costa marítima del Mediterrani i del Golf de Guinea,.

El 43 % de la població es concentra a cinc estats: Nigèria (140 milions), Egipte (68 milions), Etiòpia (63 milions), República Democràtica del Congo (51 milions) i República Sud-africana, amb 43 milions.

Les zones menys poblades corresponen als deserts del Sàhara i Kalahari, mentre que la zona de muntanyes, la cubeta del Congo i la sabana estan mitjanament poblades, entre 10 i 50 hab/km²

Fins els anys seixanta del segle XX, la població era rural, i sols dues ciutats arribaven al milió d'habitants. Actualment, el 35% de la població és urbana. Més de trenta ciutats superen el milió d'habitants. Algunes d'elles, com el Caire o Lagos, amb més de 10 milions d'habitants, són autèntiques metròpolis mundials.

Algunes de les ciutats de més d'un milió d'habitants són: **el Caire**, una megalòpolis amb més de deu milions d'habitants, **Alejoandria** i **Gizeh**, a Egipte; **Alger**, **Casablanca**, **Lagos**, **Addis Abeba**, **Tunis** i **Líbia**; **Kinshasa** a la República Democràtica del Congo, i **Kènia Johannesburg** i **Ciutat de el Cap**, a la República Sud-africana.

UN CONTINENT AMB UNA GRAN DIVERSITAT CULTURAL

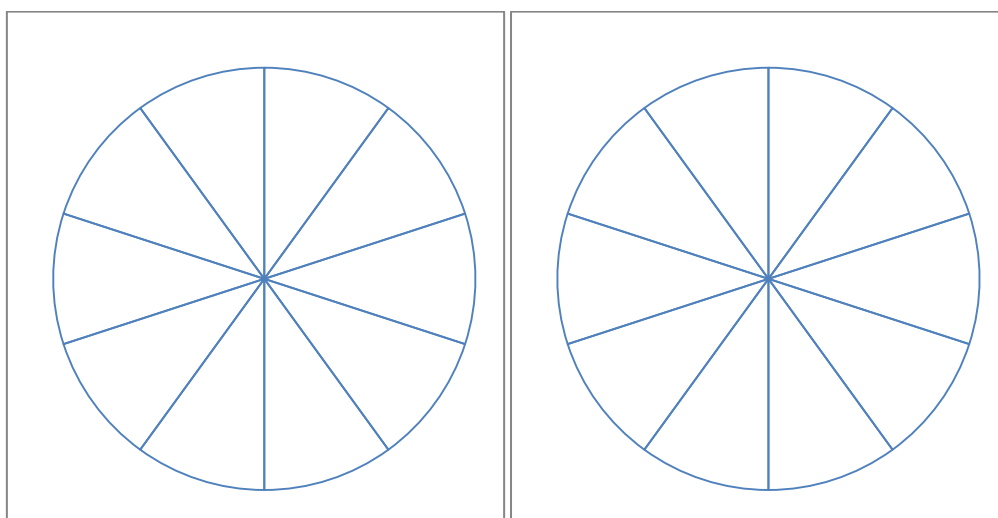
A la part nord del continent predominen les cultures berbers i àrabs, i són una quarta part de la població del continent. Al sud del Sàhara s'hi troben els pobles de diferents ètnies i cultures i suposen les $\frac{3}{4}$ parts de la població: pobles khoisans, sans o bosquimans i khoikhoi o hotentots. Els pigmeus a la conca del Congo i Tanzània. S'han classificat més de 3.000 grups ètnics diferents a Àfrica. La família extensa és la unitat social bàsica de la majoria de pobles.

El continent africà, sobretot al sud del Sàhara, presenta una gran diversitat lingüística. Hom estima el nombre de llengües africanes al voltant del miler, la majoria de les quals tenen menys de 100 000 parlants.

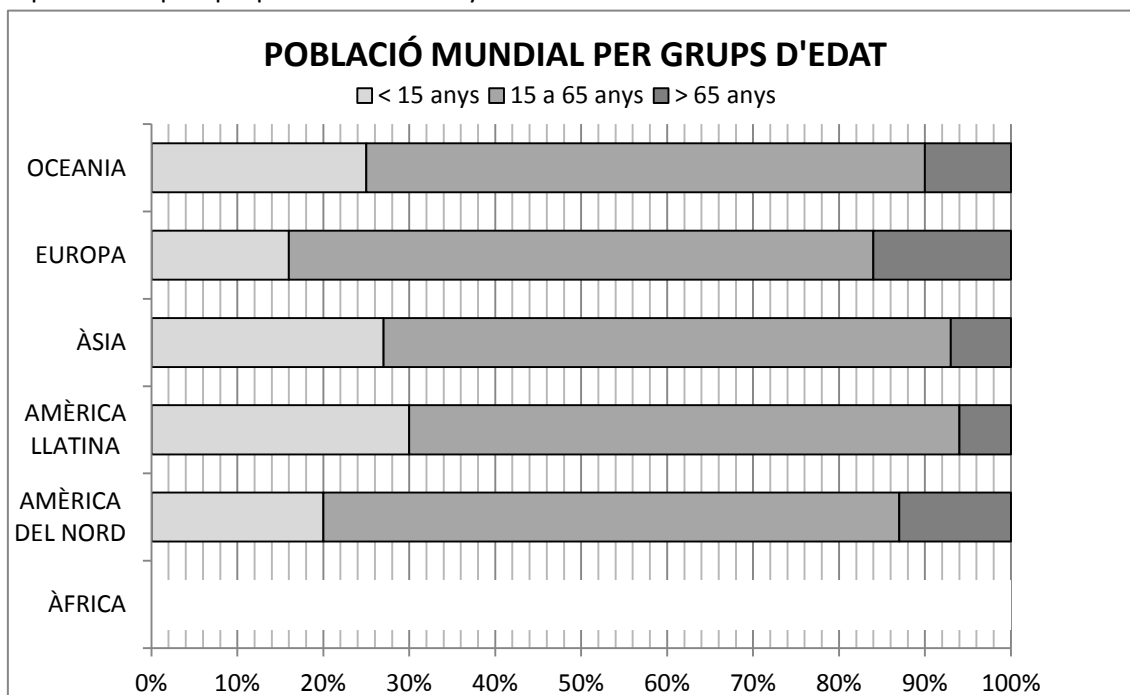
ACTIVITATS

A.- TREBALL AMB GRÀFICS

1.- Representa en un gràfic de sectors la distribució per continents i en un altre el de població. Compara Àfrica als dos gràfics. A quin és més gran? Què suposa això. En relació a la població mundial, Àfrica està molt poblada, mitjanament poblada, escassament poblada?



2.- Completa el gràfic de la distribució de la població per grups d'edat. Com és en comparació a la resta de continents la població africana: jove, madura, envellida? I la d'Europa? Què pot suposar això pels propers vint-i-cinc anys?



3.- Observa les piràmides de població d'Àfrica i Europa i senyala les diferències principals. Què indiquen cada una respecte la natalitat i l'esperança de vida?

NIGÈRIA 2014					
Age	Percent Male	Percent Female	Male Population	Female Population	Both Sexes Population
Total	100	100	90.350.541	86.805.213	177.155.754
0-4	16,5	-16,5	14.926.293	14.227.760	29.154.053
5-9	14,2	-14,2	12.862.588	12.276.118	25.138.706
10-14	12,5	-12,6	11.362.423	10.849.859	22.212.282
15-19	10,4	-10,4	9.413.431	8.998.209	18.411.640
20-24	8,9	-8,9	8.072.686	7.734.324	15.807.010
25-29	7,7	-7,7	6.959.590	6.665.316	13.624.906
30-34	6,7	-6,7	6.043.909	5.744.714	11.788.623
35-39	5,5	-5,6	5.030.607	4.722.602	9.753.209
40-44	4,3	-4,4	4.006.142	3.682.771	7.688.913
45-49	3,5	-3,5	3.173.742	3.001.454	6.175.196
50-54	2,8	-2,7	2.483.654	2.468.959	4.952.613
55-59	2,2	-2,1	1.905.090	1.975.915	3.881.005
60-64	1,7	-1,6	1.488.541	1.595.386	3.083.927
65-69	1,3	-1,3	1.150.706	1.230.949	2.381.655
70-74	0,9	-0,9	770.981	828.264	1.599.245
75-79	0,5	-0,5	436.126	484.926	921.052
80-84	0,2	-0,2	194.251	227.887	422.138
85-89	0,1	-0,1	58.359	73.678	132.037
90-94	0	0	10.382	14.488	24.870
95-99	0	0	989	1.548	2.537
100+	0	0	51	86	137

4.- Amb les dades de Nigèria del 2014, elabora la piràmide de població (al blog trobareu les dades en *excel* i *calc* si ho voleu fer amb mitjans informàtics)

5.- Sobre el mapa de la distribució a Àfrica, indica les zones superpoblades, les zones despoblades i les ciutats més poblades.

6.- Explica com influeix el medi natural en aquesta distribució de població. Quin és el recurs fonamental perquè es produeixin aquestes aglomeracions?

