

**TALLER MATERIAL ADAPTAT CIÈNCIES SOCIALS  
HISTÒRIA 1 ESO**

La **Història** és la ciència que estudia la vida dels homes i de les dones, des de l'aparició de les primeres civilitzacions urbanes (i l'escriptura) fins als nostres dies. Com que és un llarg període de temps, els experts han dividit la història en diverses etapes:

**Història Antiga** ( des del 3500a.C. amb les civilitzacions de Mesopotàmia i Egipte fins al final de l'Imperi Romà d'Occident)

**Història Medieval** ( des de la caiguda de l'imperi Romà d'Occident el 476d.C. fins a la caiguda de Constantinoble el 1453 a mans dels turcs)

**Història Moderna** (que comença aproximadament amb el descobriment del Nou Món per part de Cristòfol Colom el 1492 fins a la Revolució Francesa el 1789)

**Història Contemporània** (des de la Revolució Francesa fins a l'actualitat)

**ACTIVITATS**

1. Què és la història ?

2. En quantes etapes està dividida la història?

→ 5

→ 6

→ 3

→ 4

3. Quines són ?

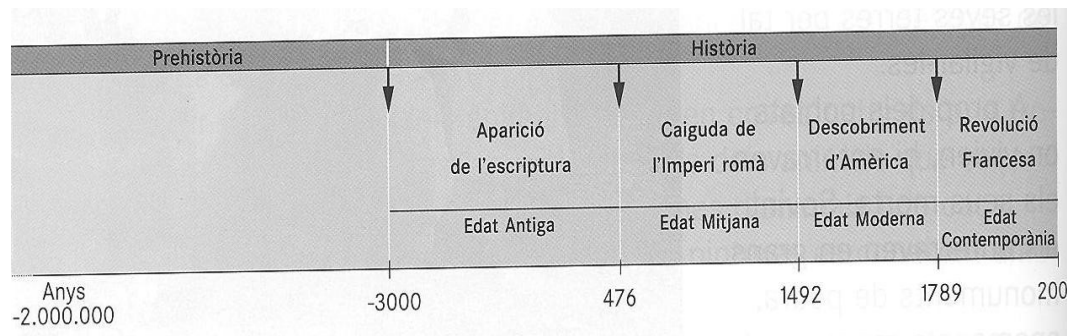
→ La monarquia , l'edat antiga, la medieval, la contemporània i la prehistòria

→ La prehistòria, la medieval, la moderna i la contemporània

→ L'edat antiga, la medieval, la contemporània i l'actual

→ L'edat antiga, la medieval, la moderna i la contemporània

4. Dibuixa un eix cronològic igual i pinta'l.



EIX CRONOLÒGIC

5. Explica perquè serveix la història.

La **Prehistòria** és una etapa que va des de l'aparició de l'espècie humana (fa més de dos milions d'anys) fins a l'aparició de l'escriptura (3500 a. C.).

En la Prehistòria es poden distingir tres etapes:

**El Paleolític**

**El Neolític**


**L'edat dels Metalls**

Durant aquest llarg període, els humans van canviar d'aspecte, van aprendre a fabricar estris, van dominar el foc, van desenvolupar el llenguatge,...

Desgraciadament, només podem conèixer les seves activitats a partir de restes arqueològiques, ja que no disposem de documents escrits.

## ACTIVITATS

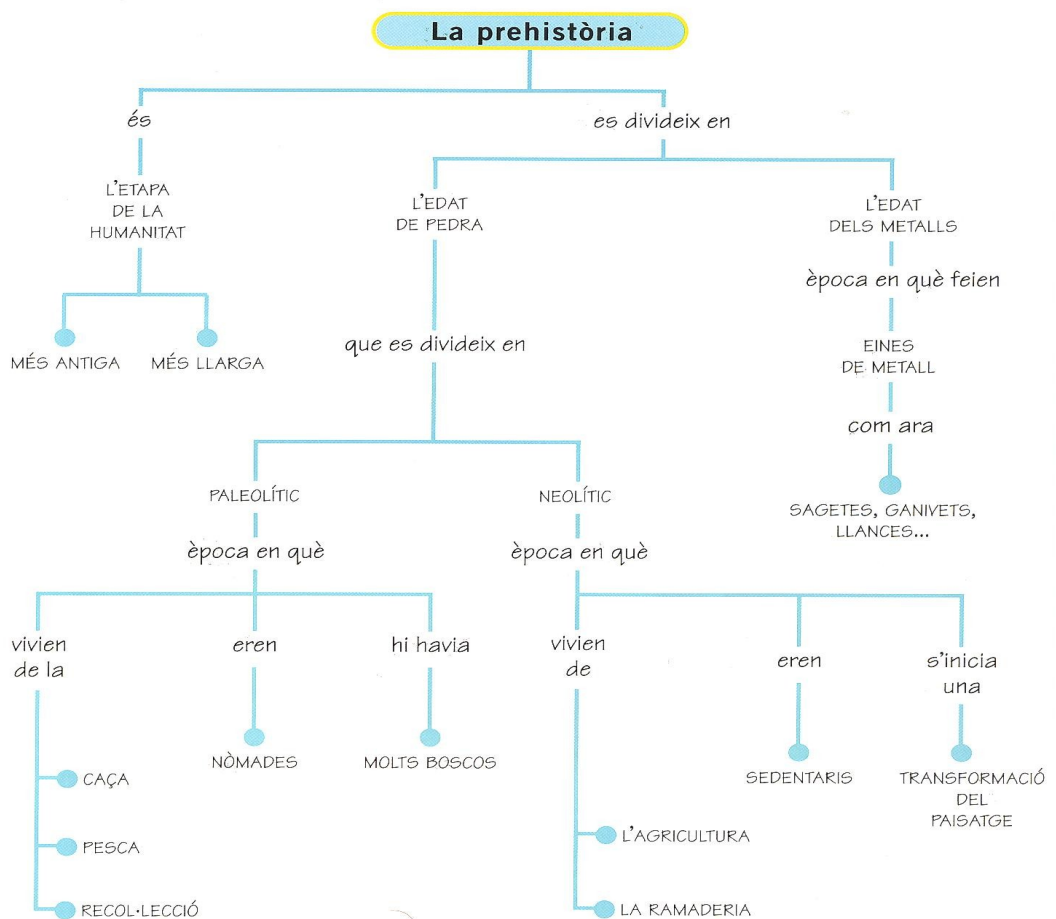
6. Quan s'inicia la Prehistòria?
7. Fins quan dura?
8. Quines són les tres etapes de la Prehistòria?
9. Situa -les en un eix cronològic.



10. Com coneixem les activitats dels primers homes que van poblar la terra fa milions d'anys?

- per via satèl·lit
- documents escrits
- restes arqueològiques
- testimonis orals

MAPA CONCEPTUAL



**PALEOLÍTIC**

A l'Àfrica fa uns 6.000.000 d'anys, alguns primats van evolucionar donant lloc a l'espècie humana.

La posició vertical, la marxa bípeda, el desenvolupament del cervell i l'alliberament de les mans (la qual cosa els va permetre fabricar eines) van ser alguns dels canvis més importants de l'evolució.

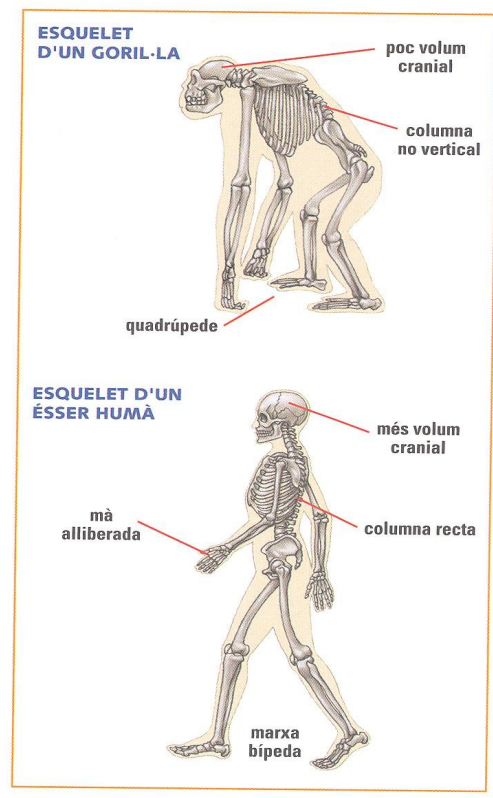
Els primers éssers humans van ser els **homo habilis**; després van venir els **homo erectus**, els **neanderthalensis** i, finalment, els **sàpiens sàpiens**, del qual deriva l'home actual.

Els primers humans es dedicaven a la caça i la recol·lecció.

**ACTIVITATS**

11. A partir de l'esquelet d'un goril·la i d'un ésser humà, estableix les diferències més importants.

.....  
.....  
.....  
.....  
.....  
.....  
.....  
.....  
.....  
.....  
.....  
.....  
.....  
.....  
.....  
.....  
.....  
.....  
.....  
.....  
.....



12. Pinta de color vermell on van aparèixer els primers homínids.



13. Explica de què vivien els primers homínids?

- l'agricultura i la ramaderia
- l'agricultura i la pesca
- la caça i la recol·lecció
- l'agricultura i la caça

14. Què va permetre l'alliberament de les mans?

- La disminució de la mida de les mandíbules
- La disminució de les dents
- El llenguatge
- La fabricació d'estrís

15. Quins són els canvis físics més importants en l'evolució humana?

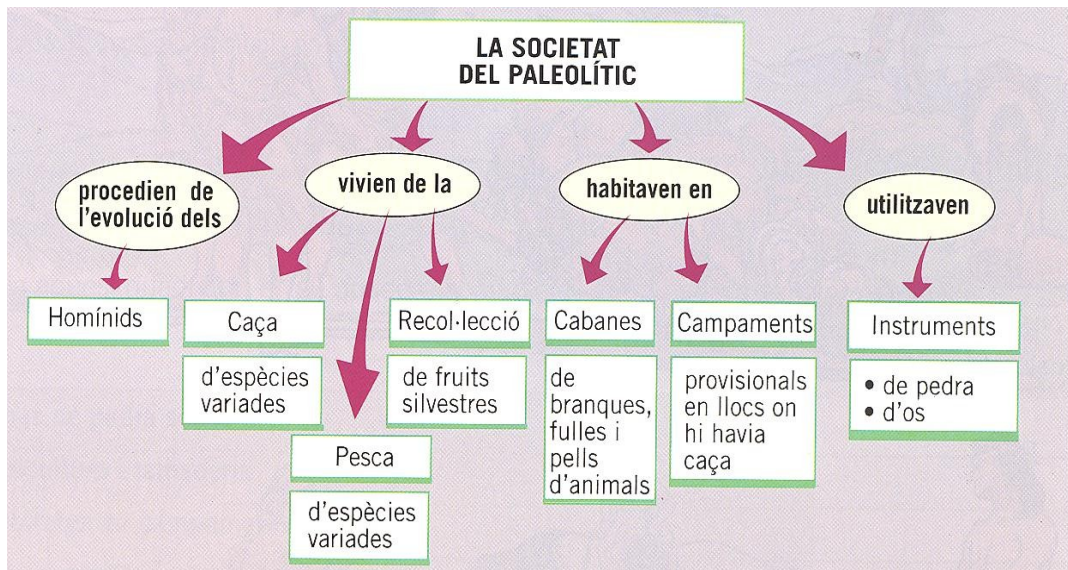
- La posició vertical, la marxa bípeda, el desenvolupament del cervell i la disminució de les mandíbules
- La marxa bípeda, el desenvolupament del cervell i l'alliberament de les mans
- La posició vertical, la marxa bípeda, el desenvolupament del cervell i l'alliberament de les mans

16. Enumera les diferents espècies d'homínids, des del més antic fins al més recent.

.....

.....

.....



### NEOLÍTIC

Ara fa uns 10.000 anys, en el **Pròxim Orient**, els homes del neolític van descobrir l'**agricultura** i la **ramaderia**. L'augment de la producció agrària va donar lloc a la formació de les primeres **civilitzacions urbanes** (ciutats). També van aparèixer els primers teixits i la ceràmica. A partir d'ara, els homes deixaran de ser nòmades per ser **sedentaris**.

### ACTIVITATS

17. Pinta de color verd la zona del Pròxim Orient.





18. Digues quina era la principal activitat?

- La caça i la recol·lecció
- La caça i la pesca
- L'agricultura i la ramaderia
- L'agricultura i la indústria

19. Quines van ser les conseqüències més importants en l'adopció de l'agricultura i la ramaderia?

.....

.....

.....

20. Relaciona els conceptes següents :

Paleolític


agricultura i ramaderia

Nòmades

Neolític

caça i recol·lecció

Sedentaris



21. Relaciona els objectes amb les fotografies corresponents i envolta amb un cercle els instruments característics del paleolític (vermell) i els del neolític (blau).

Falç


Ceràmica

Destral

Collarets

Fus

Moldre el gra



## L'EDAT DELS METALLS

A partir del V mil·lenni a .C. es va descobrir la forma de fondre els metalls, per elaborar tot tipus d'instruments (armes, eines del camp, etc...).

El primer metall fou el **COURE**; més endavant el **BRONZE** i finalment, a partir del I mil·lenni, el **FERRO**.


Amb la metal·lúrgia es va incrementar la producció agrària, van començar a aparèixer els artesans i comerciants, alhora que augmentava la població, donant lloc, a les primeres civilitzacions urbanes.

A mitjans del IV mil·lenni (3.500 a. C.) es va desenvolupar a Europa, la **cultura megalítica**, que consistia en monuments fets amb grans blocs de pedra. Els més importants són: el menhir, el dolmen i els cromlecs.


Menhir



Dolmen



Cromlec



## ACTIVITATS

22. Quins foren els primers metalls que van fabricar els éssers humans?

23. Quines conseqüències va tenir el descobriment dels metalls?

- ✚ es va incrementar la producció agrària
- ✚ es va incrementar la producció agrària i va augmentar la població
- ✚ l'aparició de l'agricultura i la ramaderia
- ✚ es va incrementar la producció agrària, van començar a aparèixer els artesans i comerciants, alhora que augmentava la població, donant lloc, a les primeres civilitzacions urbanes

24. Quina cultura va aparèixer a partir de mitjans del IV mil·lenni arreu d'Europa?

- ✚ La Neolítica
- ✚ El Paleolític
- ✚ La cultura dels camps d'urnes
- ✚ La cultura megalítica

25. Quins eren els monuments més importants de la cultura megalítica?

26. Dibuixa'ls.

## MESOPOTÀMIA I EGIPTES

### INTRODUCCIÓ

Fa uns 5.000 anys, al Pròxim Orient els poblats neolítics es van transformar en ciutats, donant lloc, a les primeres civilitzacions urbanes. Les dues civilitzacions més importants van ser **Mesopotàmia** i **Egipte**.

**Mesopotàmia** estava formada per **ciutats estat** governades per **sacerdots- reis**, amb l'ajuda de funcionaris i soldats. La majoria dels habitants eren camperols i pastors. Però també hi havien artesans i comerciants.

La riquesa d'aquestes ciutats es basava en una **agricultura productiva** gràcies a l'aprofitament de l'aigua dels rius Tigris i Eufrates.

### ACTIVITATS

1. A partir de l'observació d'aquest mapa, situa els noms següents:

Tigris

Eufrates

Golf Pèrsic

Mar Mediterrani

Mesopotàmia



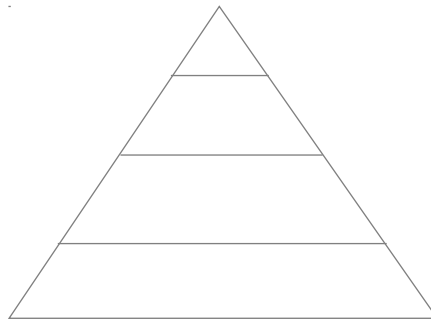
2. Com s'organitzaven les primeres civilitzacions urbanes?

- ⊣ Dependents les unes de les altres
- ⊣ En comarques
- ⊣ En ciutats estat
- ⊣ En comunitats neolítiques

3. Quin grup social dominaven les ciutats?

- ⊣ Els artesans i comerciants
- ⊣ Els camperols i pastors
- ⊣ Els camperols i els artesans
- ⊣ Els sacerdot - reis

4. A partir d'aquesta piràmide, situa els diferents grups socials de Mesopotàmia:



5. Quina era la principal activitat econòmica de Mesopotàmia?

.....  
.....  
.....

A Mesopotàmia hi van sorgir les primeres formes d'escriptura (anomenada **escriptura cuneïforme**) i es redactaren les primeres **lleis escrites** (com el codi d' Hammurabi). En arquitectura, van construir grans temples (anomenats ziggurats) i palaus. Els edificis es construïen en maons de tova i eren ricament decorats. Però els mesopotamis van destacar sobretot per l'ús de l'**arc** i la **volta**.

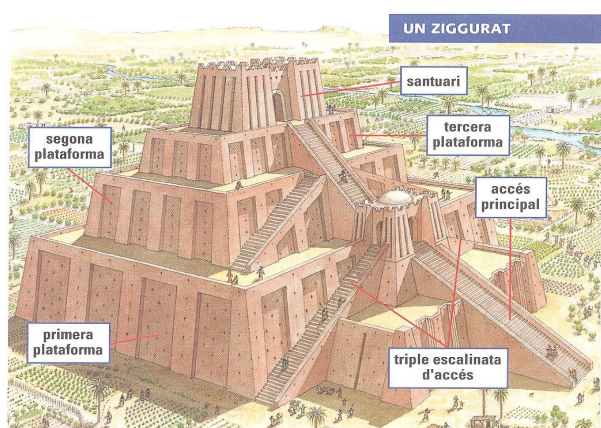
## ACTIVITATS

6. Com s'anomenava la primera escriptura a Mesopotàmia?

7. Quin fou el primer document escrit?

- ✎ Els diaris
- ✎ Les cartes
- ✎ Els llibres
- ✎ El codi d' Hammurabi

8. Quins són els edificis més característics de Mesopotàmia?

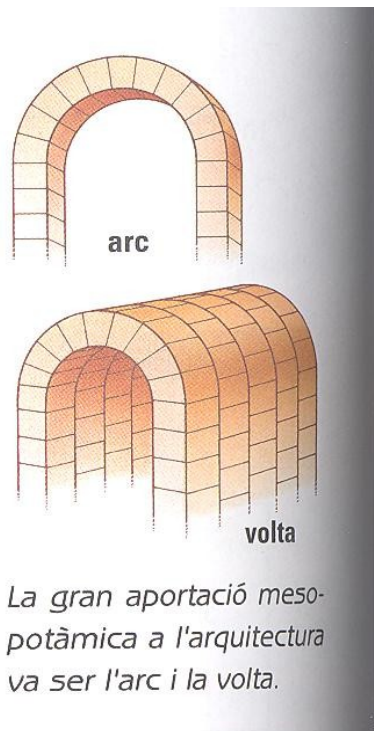


9. Quin era el material constructiu més utilitzat?



10. Quins són els dos elements més importants de l'arquitectura mesopotàmica?

11. A partir de les il·lustracions, dibuixa'ls



**EGIPTE**

Egipte és un país envoltat de deserts i travessat pel riu Nil. Generalment es divideix en l'**Alt** i el **Baix Egipte**. A l'igual que a les ciutats estat de Mesopotàmia, Egipte gaudia d'una agricultura rica i productiva a causa de la crescuda del Nil.

Al capdavant d'Egipte hi havia el **faraó**, que tenia un **poder absolut** :

Era el cap de l'exèrcit

Impartia justícia

Controlava les obres d'irrigació i el comerç

A més, era considerat un déu.

El faraó era ajudat per alts funcionaris, sacerdots i escribes. La resta de la societat estava formada per pagesos, artesans, petits comerciants i esclaus.

**ACTIVITATS**

12. A partir d'aquest mapa, situa els noms següents:

Desert de Líbia

desert d'Aràbia

Nil

Baix Egipte

Alt Egipte

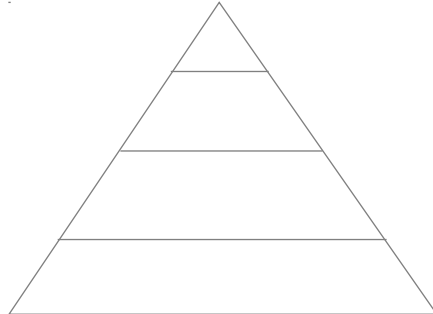


13. Qui governava Egipte?

- Els sacerdots
- Les ciutats estat
- El faraó
- La monarquia



14. Completa la piràmide, que representa la societat egípcia:



La **religió egípcia** era **politeïsta**, és a dir, que creien en més d'un déu. Els déus més populars eren Ra (déu del sol), Osiris (déu dels morts), Isis (deessa de la fertilitat) i Horus (déu de la guerra), entre d'altres.

Els déus residien en els temples i els sacerdots s'encarregaven del culte (els obsequiaven amb ofrenes, ...).

Els egipcis també creien en la vida més enllà de la mort (**vida d'ultratomba**), per la qual cosa, quan moria el faraó, s'embalsamava el seu cadàver per tal de facilitar la seva conservació.



Mòmia egípcia dins del seu sarcòfag.

**ACTIVITATS**

15. Quines són les dues característiques més importants de la religió egípcia?

16. Relaciona amb fletxes :

Isis	déu de la guerra
Horus	deessa de la fertilitat
Ra	déus dels morts
Osiris	déu del sol

17. Defineix :

Politeista:

Vida d'ultratomba:

18. A on habitaven els déus egipcis i qui s'encarregava de venerar-los?

L'**arquitectura** egípcia presentava les característiques següents:

Seguia unes normes fixes

Era una arquitectura arcaïca (basada en línies rectes)

Els edificis eren monumentals per tal de demostrar el poder i la riquesa del faraó

Els edificis egipcis més importants van ser els **temples** i les **tombes**. Els temples que eren les residències dels déus, estaven ricament decorats mentre les tombes, eren on enterraven els faraons i els poderosos. Cal distingir tres tipus de tombes:

Les mastabes

Les piràmides

L'hipogeu


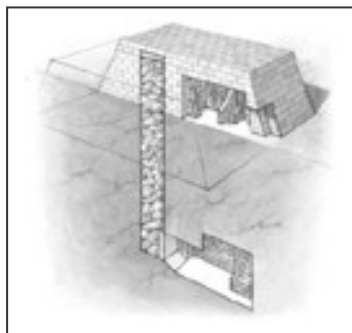
## ACTIVITATS

19. Quines són les principals característiques de l'arquitectura egípcia?

- 
- 
- 

20. Quins eren els principals edificis egipcis?

21. Identifica cadascuna de les tombes a partir de les il·lustracions d'una enciclopèdia :



## EL MÓN GREC

La civilització grega va néixer a la península Balcànica i a les illes del mar Egeu, i es va estendre per bona part del litoral Mediterrani.

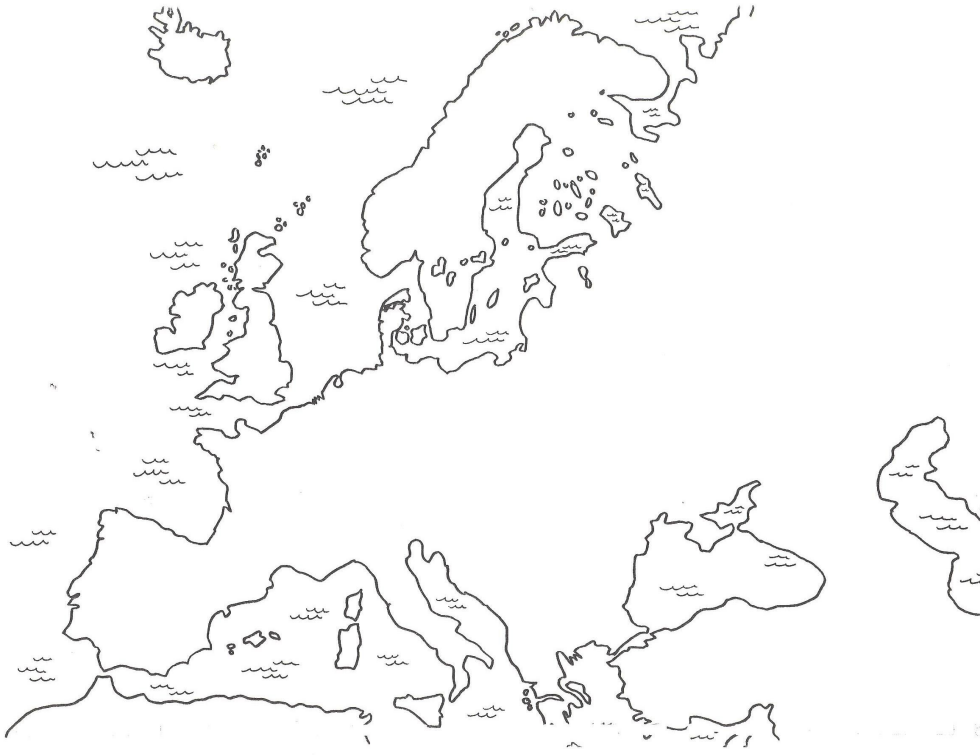
Els grecs van desenvolupar una nova forma de govern, la **democràcia** i un nou art : **l'art clàssic**.

Els grecs s'organitzaren en petites ciutats independents anomenades **polis**.

Cada ciutat era autònoma, encara que compartien uns mateixos llaços culturals (una religió i la llengua grega)

1. On va néixer la civilització grega?

2. Pinta-ho en el mapa

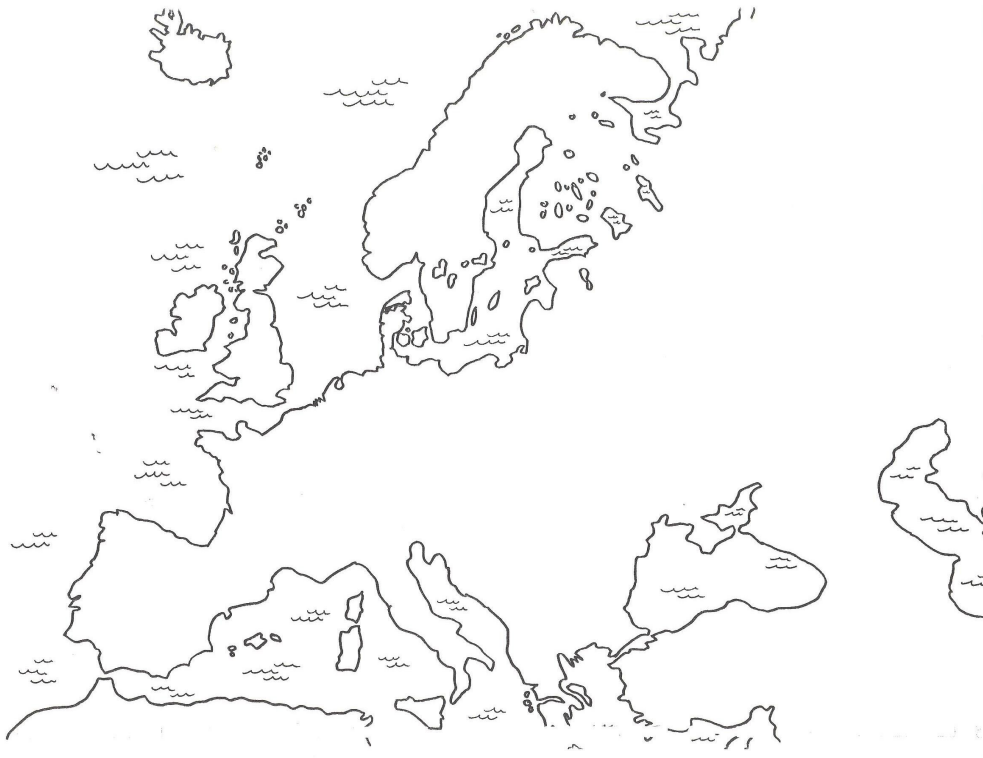


3. Què eren les polis?
4. Què tenien en comú tots els grecs?

Els grecs vivien de l'agricultura, de la ramaderia, de la pesca i del **comerç** al llarg del Mediterrani. Entre els segles VIII -VI aC. molts habitants de Grècia van emigrar cap a les costes de la Mediterrània i el mar Negre fundant noves ciutats (colònies), com per exemple Siracusa, Marsella, **Empúries** i **Roses**.

5. Situa en el mapa els noms de les colònies següents:

Siracusa      Marsella      Empúries      Roses





Al principi, a les polis gregues hi havia una forma de govern anomenada **monarquia**, en la que tot el poder residia en el rei, o bé en una **oligarquia**, en la que només governaven els més poderosos (aristocràcia). No serà fins al segle V a C. quan Atenes s'implantarà una nova forma de govern : la **democràcia** (que vol dir, govern dels ciutadans). D'aquesta manera, els habitants d'Atenes es convertiran en *ciutadans* que participaran dels afers públics de la ciutat.

## ACTIVITATS

6. Què és la monarquia ?

- Quan el poder la té el rei
- Quan el poder és del poble
- Quan el poder està en mans d'un Consell

7. Què és l'oligarquia ?

- Quan el poder és d'Atenes
- Quan el poder és dels poderosos
- Quan el poder és dels febles

8. Què és la democràcia ?

- És el govern dels ciutadans
- És el govern d'uns quants
- És una forma de govern propi de l'antiguitat

9. Els habitants d'una democràcia s'anomenen ciutadans?

- a. SI
- b. NO

La democràcia atenesa era molt limitada perquè només els ciutadans tenien drets polítics. A canvi, els ciutadans havien de defensar la polis i pagar impostos. Les principals institucions ateneses eren: l'**assemblea de ciutadans** (ekklesia), el **consell** dels 500 (o Boulé), els **magistrats** i els **tribunals**.

En la societat d'Atenes es poden distingir tres grups socials : els **ciutadans**, els **metecs** (els estrangers) i els **esclaus**.

### ACTIVITATS

10. Quins eren els tres grups socials més importants a Atenes en el segle V a. C. ?

11. Relaciona :

Ciutadans

Drets polítics

Metecs

NO tenen drets polítics

Esclaus

Al segle V a. C. Atenes es va enfrontar a l'imperi persa en les **guerres Mèdiques**. La seva victòria sobre els perses els va donar un gran prestigi i l'hegemonia sobre la resta de polis gregues. D'aquesta manera, es va crear un imperi atenès. No obstant, algunes polis gregues es rebel·laren (sobretot la polis d'Esparta), donant lloc a les **guerres del Peloponès**. La derrota d'Atenes va significar la fi de l'imperi atenès.

#### LA GUERRA ENTRE ELS GRECS I ELS PERSES



#### ACTIVITATS

12. Què van ser les guerres Mèdiques ?

13. Què van ser les guerres del Peloponès ?

14. Situa en el mapa les dues gran polis gregues :

Atenes    Esparta

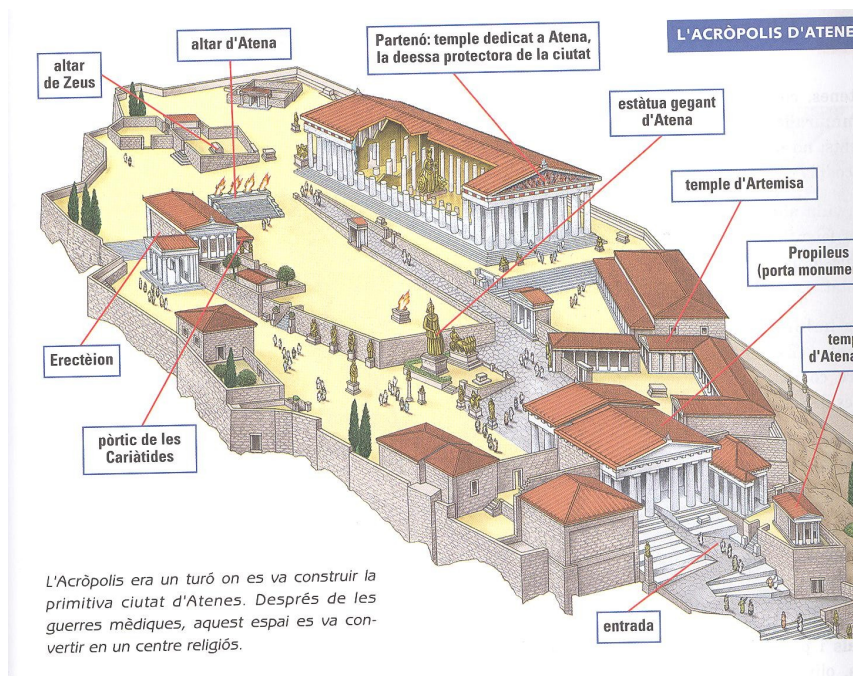


Durant el segle V a. C. Atenes va viure un període de gran esplendor cultural i artístic, amb la construcció del Partenó (temple dedicat a la deessa de la ciutat : Atena).

Els grecs van desenvolupar l'arquitectura amb la construcció de temples i teatres. També van esculpir moltes **escultures** en la que es buscava l'ideal de bellesa basada en la proporció, l'equilibri i l'harmonia.

## ACTIVITATS

Observa aquesta il·lustració sobre d'Acròpolis d'Atenes i respon :



15. Quin és el temple més important de Grècia ?

16. A quina deessa era dedicat el Partenó ?

17. Els edificis més significatiu de l'arquitectura grega són ...

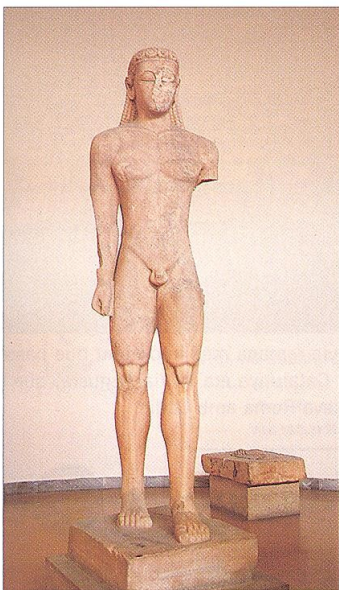
- Les esglésies i les catedrals
- Les mesquites
- Els temples i els teatres

18. L'altra gran manifestació artística de l'art grec és ...


- La pintura
- La música
- L'escultura

**L'època arcaica**

Les escultures gregues de l'època arcaica eren molt estilitzades.



Kouros




Discòbol

**L'època clàssica**

Les escultures gregues de l'època clàssica volien reflectir la bellesa ideal i la proporció perfecta.

**L'època hel·lenística**

Les escultures gregues de l'època hel·lenística eren més recarregades i tenien unes proporcions més reals.

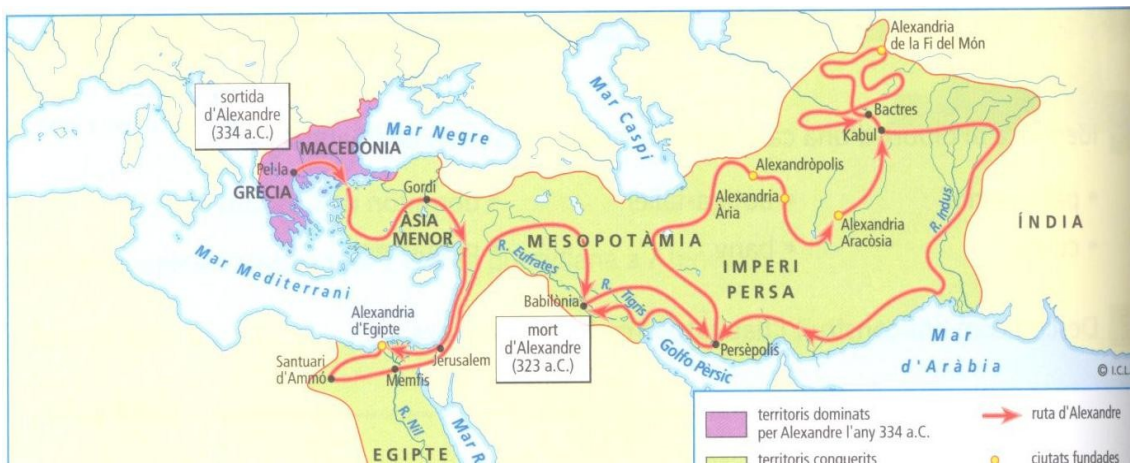


Victòria de Samotràcia

Després de les guerres del Peloponès, les ciutats gregues van iniciar un període decadència. Aquesta circumstància serà aprofitada pel regne de **Macedònia** quan durant el regnat de Filip II (en el segle IV a. C.) es van conquerir les polis gregues. Però fou el seu fill, **Alexandre el Gran** qui després d'unificar les ciutats gregues, va conquerir tot l'imperi persa. A la seva mort, aquest gran imperi es dividí en **regnes hel·lenístics**.

**ACTIVITATS**

19. Observa atentament el mapa i realitza les següents activitats :



Pinta de

Color vermell el regne de Macedònia

Color taronja les ciutats gregues

Color groc l'imperi persa



20. Quin regne va conquerir les polis gregues en el segle IV a. C. ?

- Esparta
- Atenes
- Macedònia
- Àsia Menor

21. Qui va conquerir tot l'imperi persa ?

- Filip II de Macedònia
- Alexandre el Gran
- Aristòtil
- Pèricles

22. Després de la mort d'Alexandre, el seu imperi es va dividir entre els seus oficials formant ...

- Regnes de taifes
- Províncies
- Regnes hel·lenístics
- Ciutats estat



## ROMA

La civilització romana té l'origen segons els mites, a la ciutat de Roma fundada l'any 753 a. C. per **Ròmul** i **Rem**.



La història de Roma se sol dividir en tres grans etapes:

### La Monarquia

### La República

-

### L'Imperi

-

### La Monarquia

(753-509 aC)


En el segle VIII a. C. la península itàlica estava ocupada per diversos pobles. En el centre - nord, hi vivien els etruscos i els sabins. Una mica més al sud, hi habitaven els **llatins** i els grecs. En el segle VIII a. C. es va fundar la ciutat de **Roma**.

Inicialment, la forma de govern era una **monarquia**, en la que el màxim poder el tenia el rei.

**ACTIVITATS**

1. Quins eren els pobles que habitaven la península itàlica?
2. Dibuixa la península itàlica i situa en el mapa els pobles següents:

etruscos      llatins      grecs (Magna Grècia)



3. Quina era la seva forma de govern?. En què consisteix?

**La República**

(509-27aC)

Durant aquest període, el poder de Roma es va estendre primerament sobre la península Itàlica, i després sobre el conjunt de la Mediterrània, Europa i el nord d'Àfrica.

Pel domini de la Mediterrània occidental, els romans es van enfrontar amb les cartagineses amb les famoses **Guerres Púniques**.

Des d'un punt de vista social, els romans estaven dividits entre els patricis (que governaven la ciutat) i els plebeus (que no tenien cap dret polític). Al llarg de la República, els plebeus van lluitar per equiparar els seus drets amb els patricis, mitjançant :

- L'elecció d'un representant - el Tribú de la plebs - que els defensava davant el Senat.

- La Llei de les Dotze Taules (que establia que tots els homes eren iguals davant la llei).

Des d'un punt de vista polític, la seva forma de govern era la **República**, dirigida per un **Senat** i unes **magistratures**.

- 4. Qui va ser el poble que va disputar a Roma el domini de la Mediterrània?
- 5. Com es va anomenar aquest conflicte?
- 6. A partir de la lectura del mapa, indica quins territoris actuals ( amb l'ajut d'un atlas) van conquerir els romans durant la República.

7. Defineix (amb l'ajuda d'un diccionari)

República:

Aristocràcia:

8. Quins són les principals institucions de la República?

.....	.....
.....	.....
.....	.....
.....	.....
.....	.....
.....	.....
.....	.....
.....	.....
.....	.....
.....	.....

9. Quins eren els dos grups socials que hi havia a Roma?

10. Perquè es van enfrontar els patricis i els plebeus?

11. Què van aconseguir els plebeus?

12. En què consistia la Llei de les Dotze Taules?

**L'Imperi**

(27-476 dC)

El fundador de l'Imperi va ser **Octavi August**, el qual, després de diverses guerres civils, instaurà un sistema polític en el que tot el poder es concentrava en la seva persona: **l'emperador**.

Durant els dos primers segles, l'Imperi va viure un període de prosperitat i de pau anomenat la Pax Romana. Però a partir del segle III dC es va iniciar la decadència de l'imperi.

13. Qui va ser el primer emperador romà?

14. Qui era la persona que tenia tot el poder civil i militar i quines funcions desenvolupava?

.....	.....
.....	.....
.....	.....
.....	.....
.....	.....
.....	.....
.....	.....
.....	.....
.....	.....
.....	.....
.....	.....
.....	.....
.....	.....
.....	.....
.....	.....

15. Què és la *pax romana*?

16. A quin segle va començar la decadència de l'imperi romà?

- a) en el segle V d. C.
- b) en el segle IV d. C.
- c) en el segle III d. C.
- d) en el segle III a. C.

## MAPA CONCEPTUAL

### Causes de la decadència de l'imperi romà

En el segle IV d.C. es produeix una reorganització de l'imperi que culmina amb la **divisió de l'Imperi** en dues parts : **l'Imperi d'Occident**, en capital a Roma i **l'Imperi d'Orient**, en capital a Constantinoble.  
Finalment, els pobles germànics van envair l'Imperi d'Occident l'any **476 dC.**

17. Quina mesura van prendre els romans per mantenir el seu imperi?

- Van reorganitzar l'imperi, construint una gran capital: Constantinoble
- Van traslladar la capital de Roma a Constantinoble
- Van acabar amb la corrupció de l'administració imperial
- Van dividir l'imperi en dues parts: l'imperi d'Occident i l'imperi d'Orient

18. A quin segle els bàrbars van deposar el darrer emperador romà?

19. Pinta en aquest eix cronològic, les diferents etapes de Roma:

Monarquia (color marró)

República (color vermell)

Imperi (color taronja)

Roma va fundar nombroses **ciutats** arreu d'Europa. Els romans van establir una eficaç administració, encarregada de recaptar impostos i subministrar soldats per a les legions romanes. Els nous territoris conquerits es convertiren en províncies romanes dirigides per un governador (que aplicava les lleis i la cultura romana). Per aquesta raó, els romans van dur a terme una important tasca de **romanització** (imposant entre altres aspectes, la seva llengua, el llatí).

La societat romana estava dividida en **diferents grups socials**: els **homes lliures** (entre els que destaquen els patricis més rics i poderosos i els plebeus, més pobres i humils) i els **esclaus**.

També van desenvolupar una **agricultura pròspera** basada en l'explotació de grans latifundis (grans extensions de terra) treballades per esclaus i en el conreu de cereals, vinyes i oliveres.

20. Com s'organitzaren els nous territoris conquerits pels romans?

21. Busca en el diccionari la paraula **romanització**.

22. Divideix en dos columnes els diferents grups socials:

Artesans      comerciants      esclaus      patricis

--	--

23.Com era l'agricultura romana?

24.Quins eren els principals conreus?

La religió grega i romana era **antropomòrfica** (els déus tenien forma humana) i **politeista** (creien en diversos déus). Els déus eren immortals i posseïen grans poders, però tenien aspecte, sentiments i passions humanes.  
Els romans quan van ocupar les polis (ciutats estat) gregues, van adoptar molts dels seus déus.

25. Completa requadre següent:

**Religió grega**

**Religió romana**

Zeus, déu .....

....., Déu dels déus

Afrodita, deessa de l'amor i la bellesa

....., .....

....., déu de la guerra

Mart, .....

Hera,.....

....., deessa de la família

Dionís,.....

....., déu del vi

....., déu del mar

Neptú,.....

Atena, .....

....., deessa de la saviesa

Hades,.....


....., déu de l' infern

Els romans van demostrar una gran preocupació per la **tècnica** i per la **funcionalitat**, més que no per l'estètica. Així els romans van combinar la tradició grega amb les formes etrusques (l'arc i la volta). Els materials més habituals eren la pedra, el **maó** i el marbre.

Els principals edificis civils eren:

- les **termes** (grans banys)
- els teatres
- els **amfiteatres** (espectacles destinat a la lluita de gladiadors)

També van destacar en **obres d'enginyeria** amb la construcció de nombroses **calçades, ponts i aqüeductes**. Així van crear una xarxa de carreteres que comunicava les diferents províncies de l'imperi amb Roma i que servia tant per al moviment de l'exèrcit com per al comerç i les comunicacions administratives.





**ACTIVITATS**

26. Quina era la principal característica de l'arquitectura romana?

.....  
.....  
.....  
.....

27. Quins eren els materials constructius més habituals en la construcció d'edificis romans?

- la pedra, el marbre i el ciment armat
- la pedra, el pòrtland i el marbre
- la pedra el maó i el marbre
- la pedra, l'alumini i el maó

28. Digues quins eren els principals edificis romans?

.....  
.....  
.....

29. Quines eren les principals obres d'enginyeria?

.....  
.....

30. Relaciona amb fletxes les fotografies amb les paraules corresponents :



amfiteatre

termes

aqüeductes

