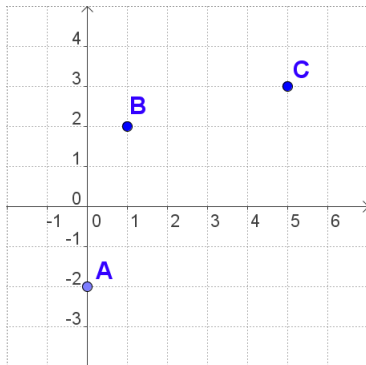


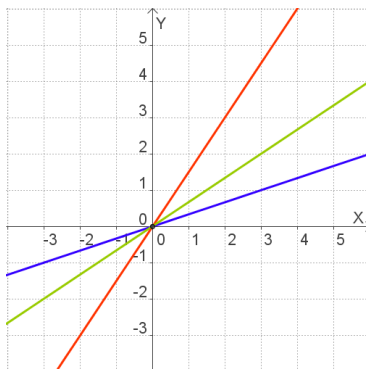
**ACTIVITATS D'ESO**

Nombre y apellidos del alumno:	Curso: <b>1º</b>
Quincena nº: <b>11</b>	Asignatura: <b>Matemáticas</b>
Fecha:	Profesor de la asignatura:

1. Escriu les coordenades dels punts de la gràfica i les d'un quarto, D, de manera que el polígon ABCD sigui un rombe.:

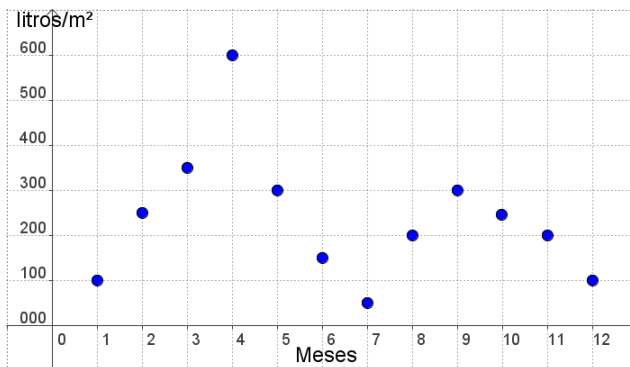


2. Completa la taula de proporcionalitat directa següent i indica el color de la gràfica que la representa:



x	1	2	3
0	y	3	4,5

3. El gràfic representa les precipitacions en una determinada zona al llarg d'un any, en litres/m<sup>2</sup>, si 1 correspon a gener, 2 a febrer i així successivament:



- a) En quin mes va ploure més?  
 b) Quin va ser el mes més sec?  
 c) Quant va ploure l'agost?