

Objectius

- Crear expressions algebraiques a partir d'un enunciat.
- Trobar el valor numèric d'una expressió algebraica.
- Classificar una expressió algebraica en monomi, binomi,... polinomi.
- Operar amb monomis (sumar, restar i multiplicar).
- Operar amb polinomis (sumar, restar i multiplicar per un monomi).

Abans de començar

1. Expressions algebraiquespàg. 86
 Què són?
 Com les obtenim?
 Valor numèric

2. Monomispàg. 88
 Què són?
 Sumar i restar
 Multiplicar

3. Polinomispàg. 90
 Què són?
 Sumar i restar
 Multiplicar per un monomi

Exercicis per practicar

Per saber-ne més

Resum

Autoavaluació

Activitats per enviar al tutor

$(2x+y+1)(y) =$
 $= 2xy+y^2+y$

$(x+1)(x+y+1) =$
 $= x^2+xy+2x+y+1$

$3 \cdot (x-y)$

El doble	del cuadrado del cubo de x e y
El triple	de x menos y
La mitad	de x por y
Menos el doble	del inverso

$\sqrt{x \cdot y}$

El triple	del cuadrado del cubo de x e y
La raíz	de x por y
La mitad	de x menos y
Menos el doble	del inverso de x entre y
Menos el triple	
Menos la mitad	
27 por ciento	

Expressions algebraiques

A la imatge, a l'esquerra es poden veure dos exemples en els que s'aplica la propietat distributiva del producte respecte a la suma, el gràfic explica aquesta propietat que es farà servir en aquesta unitat. Observa atentament les àrees dels rectangles i construeix figures similars per aplicar aquesta propietat.

A la dreta es mostren dues expressions algebraiques, sabries construir les diferents expressions que s'obtenen en moure les llistes grises? Per exemple, el 27 per cent del quadrat serà

$$0,27 x^2.$$

Expressions algebraiques

1. Expressions algebraiques

Què són?

Una **expressió algebraica** és un conjunt de nombres i lletres enllaçats per les operacions de sumar, restar, multiplicar, dividir i per parèntesis. Per exemple:

$$3+2\cdot x^2-x \quad \text{o} \quad x\cdot y-32\cdot(x\cdot y^2-y)$$

Les lletres representen valors que no coneixem i podem considerar-les com la generalització d'un nombre. Les anomenarem **variables**.



Nota

El signe de multiplicar es sobreentén davant d'una lletra o un parèntesis. Així, $3\cdot a$ és equivalent a $3a$, i $3\cdot(2+x)$ és equivalent a $3(2+x)$.

Com les obtenim?

Pretenem transformar un enunciat, on hi ha un o més valors que no coneixem, en una **expressió algebraica**.

Cadascun dels valors (**variables**) que no coneixem el representarem per una lletra diferent.

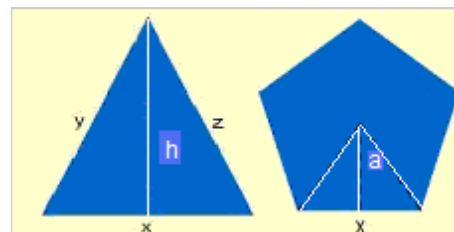
Valor numèric

Si en una expressió algebraica substituïm les lletres (variables) per nombres, el que tindrem serà una expressió numèrica. El resultat d'aquesta expressió és el que anomenem **valor numèric** de l'expressió algebraica per a aquests valors de les variables.



És important que tinguis en compte la **prioritat de les operacions**

1. Potències
2. Productes i quocients
3. Sumes i restes



El perímetre del triangle és $x+y+z$

L'àrea del triangle és $\frac{x \cdot h}{2}$

El perímetre del pentàgon és $5x$

L'àrea del pentàgon és $\frac{5xa}{2}$

Enunciado

La quinta parte de la suma de dos números menos ocho .

Expresa algebraicamente el enunciado

$$\frac{5-3x}{2y} \quad \frac{a \cdot b}{2}$$

$$a \cdot (b+c) - x^2 y$$

$$3x^2 + 4x - 1$$

Necesitaremos dos variables que llamaremos x e y

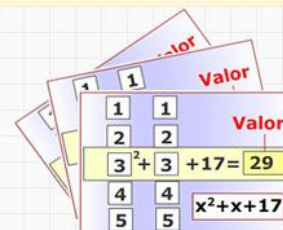
La diferencia de los dos números: $x - y$

La décima parte $\frac{x - y}{10}$

más nueve $\frac{x - y}{10} + 9$

Enunciado

Halla el valor numérico de la expresión algebraica $-y^2 - 2x \cdot y + x + 3y$ sustituyendo la x por 7 y la y por 1



Cambiamos la x por su valor:

$$-y^2 - 2 \cdot 7 \cdot y + 7 + 3 \cdot y$$

Cambiamos la y por su valor:

$$-1^2 - 2 \cdot 7 \cdot 1 + 7 + 3 \cdot 1$$

Comenzamos a operar:

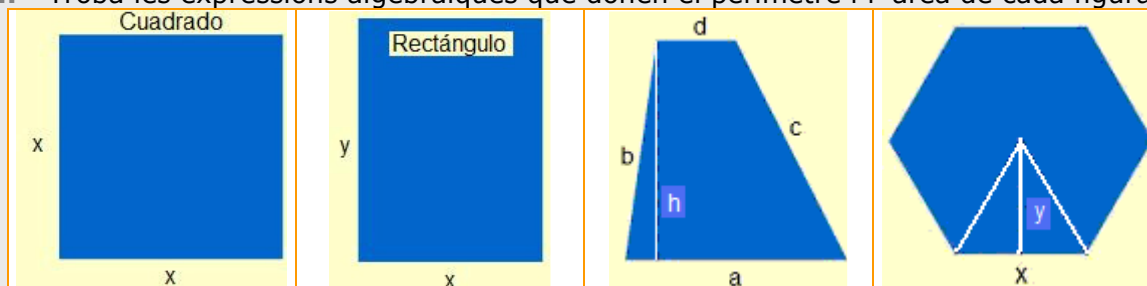
$$1. \text{ Potencias } -1 - 2 \cdot 7 \cdot 1 + 7 + 3 \cdot 1$$

$$2. \text{ Productos } -1 - 14 + 7 + 3$$

Valor numérico = -5

EXERCICIS resolts

1. Troba les expressions algebraiques que donen el perímetre i l'àrea de cada figura



Solucions

Perímetre = $4x$
Àrea = x^2

Perímetre = $2(x + y)$
Àrea = xy

Perímetre = $a+b+c+d$
Àrea = $\frac{(a+d)h}{2}$

Perímetre = $6x$
Àrea = $3x^2$

2. Escull l'expressió algebraica en cada cas

<p>1 El triple d'un nombre més sis</p> <p>A $6x+3$</p> <p>B $3x+6$</p> <p>C $3(x+6)$</p> <p>D $\frac{x}{3}+6$</p>	<p>2 La cinquena part d'un nre més 10.</p> <p>A $\frac{x}{5}+10$</p> <p>B $\frac{x+10}{5}$</p> <p>C $10x+5$</p> <p>D $5x+10$</p>	<p>3 Un quart de la suma d'un nre més 7.</p> <p>A $\frac{x+7}{4}$</p> <p>B $\frac{x}{4}+7$</p> <p>C $\frac{14+7}{4}$</p> <p>D $\frac{7}{4}+x$</p>	<p>4 La semisuma de dos nombres.</p> <p>A $\frac{x \cdot y}{2}$</p> <p>B $\frac{x+y}{2}$</p> <p>C $\frac{x}{2}+y$</p> <p>D $\frac{x-y}{2}$</p>	<p>5 La meitat del producte de 2 nres.</p> <p>A $\frac{x}{2} \cdot y$</p> <p>B $\frac{x}{2} \cdot \frac{y}{2}$</p> <p>C $\frac{x-y}{2}$</p> <p>D $\frac{x \cdot 7}{2}$</p>
<p>6 L'arrel quadrada de la suma de 2 quadrats.</p> <p>A $x+y$</p> <p>B x^2+y^2</p> <p>C $\sqrt{x^2+\sqrt{y^2}}$</p> <p>D $\sqrt{x^2+y^2}$</p>	<p>7 El 40% de un número.</p> <p>A $0.4x$</p> <p>B $\frac{40}{100x}$</p> <p>C $\frac{40}{10}x$</p> <p>D $\frac{100x}{40}$</p>	<p>8 El quadrat de la suma de 2 nombres.</p> <p>A $(z+y)^2$</p> <p>B x^2+y^2</p> <p>C $x+y^2$</p> <p>D $(12+y)^2$</p>	<p>9 El quadrat de la semisuma de 2 nombres.</p> <p>A $\frac{x^2+y^2}{4}$</p> <p>B $\frac{x+y^2}{2}$</p> <p>C $\frac{(x+y)^2}{4}$</p> <p>D $\frac{(x+y)^2}{2}$</p>	<p>5 La mitjana aritmètica de tres nombres.</p> <p>A $0.5x+0.5y+0.5z$</p> <p>B $(\frac{x+y}{2}+z)/2$</p> <p>C $\frac{x+y+z}{3}$</p> <p>D $\frac{x+y+z}{2}$</p>

Solucions: 1 B; 2 A; 3 A; 4 B; 5 A; 6 D; 7 A; 8 A; 9 C; 10 C.

3. Troba els valors numèrics indicats en cada cas.

<p>$2 - 7 \cdot x^2$ en (-2)</p> <p>$2 - 7 \cdot (-2)^5$</p> <p>$2 - 7 \cdot -32$</p> <p>$2 + 224$</p> <p>226</p>	<p>$3 + 5 \cdot x^3$ en $\frac{2}{3}$</p> <p>$3 + 5 \cdot (\frac{2}{3})^3$</p> <p>$3 + 5 \cdot \frac{8}{27}$</p> <p>$3 + \frac{40}{27}$</p> <p>$\frac{121}{27}$</p>	<p>$3\sqrt{x} - 3 \cdot x^3$ en 9</p> <p>$3\sqrt{9} - 3 \cdot 9^3$</p> <p>$3 \cdot 3 - 3 \cdot 729$</p> <p>$9 - 2187$</p> <p>-2178</p>	<p>$\frac{x^5}{y^3} + 4$ en $\begin{matrix} x=-2 \\ y=3 \end{matrix}$</p> <p>$\frac{(-2)^5}{3^3} + 4$</p> <p>$\frac{-32}{27} + 4$</p> <p>$\frac{76}{27}$</p>	<p>$\frac{x^5}{y^4} + 1$ en $\begin{matrix} x=4 \\ y=4 \end{matrix}$</p> <p>$\frac{4^5}{4^4} + 1$</p> <p>$4^1 + 1$</p> <p>$4 + 1$</p> <p>$5$</p>
---	---	--	---	--

Expressions algebraiques

2. Monomis

Què són?

Un monomi és una expressió algebraica formada pel producte d'un nombre i una o més variables. El nombre l'anomenarem **coeficient** i el conjunt de les variables, **part literal**.


Anomenarem **grau** del monomi a la suma dels exponents de la seva part literal. I **grau respecte d'una variable**, a l'exponent d'aquesta variable.

Dos monomis són **semblants** si les seves parts literals són iguals.

Dos monomis són **oposats** si són semblants i els seus coeficients són oposats.

Sumar i restar monomis

Tres peres i dues peres són 5 peres. Però 3 peres i 2 pomes no són 5 peres ni 5 pomes, són 3 peres + 2 pomes.



El mateix passa amb els monomis. Si dos monomis són semblants, sumem o restem els coeficients i deixem el mateix literal. Si no són semblants, aquesta operació no pot expressar-se de manera més simplificada.

$3x+2x=5x$, però les expressions $3x^2+2x$ o $2x+7y$ no es poden simplificar.

Multiplicar monomis

El producte de dos monomis és un monomi que té per coeficient el producte dels coeficients i per part literal el producte de les parts literals (recorda la propietat: $a^n \cdot a^m = a^{n+m}$).

Així,
 $(3x^2y) \cdot (2x) = (3 \cdot 2)x^2yx = 6x^{2+1}y = 6x^3y$

Identifica los elementos de los monomios

$-22x^2y$ $-18x^2y$

Coeficiente Variable Grado

Monomio	Coeficiente	Literal	Grado
$-22x^2y$	-22	x^2y	3
$-18x^2y$	-18	x^2y	3

Son semejantes, pues tienen igual el literal

No son opuestos, pues los coeficientes no lo son

$2x^7y^3 + 6x^7y^3$
 Monomis semblants, per tant es sumen els coeficients
 $8x^7y^3$

$2x^7y^3 - 6x^7y^3$
 Per restar-los es procedeix de manera semblant,
 $-4x^7y^3$

$2x^7y^3 + 6x^5y^3$
 Monomis no semblants, per tant la expressió no es pot simplificar, el resultat és
 $2x^7y^3 + 6x^5y^3$

Anàlogament
 és
 $2x^7y^3 - 6x^5y^3$

$(\frac{3}{2}x^3y^2) \cdot (\frac{2}{5}x^3y)$

Multiplicamos los coeficientes: $(\frac{3}{2}) \cdot (\frac{2}{5}) = \frac{3}{5}$

Multiplicamos los literales: $(x^3y^2) \cdot (x^3y) = x^6y^3$

Resultado
 $\frac{3}{5}x^6y^3$

EXERCICIS resolts

4. Aparella els rectangles de l'esquerra, a la dreta hi ha la solució.

$2x^3y^5$	Coefic. 0.5 Grado 3	xy^3	$-7x^5$	πy	Grado 1 Coefic. π	Grado 3 Coeficiente 1	$2x^3y$
Coeficiente 6 Grado 3	Coefic. -7 Grado 5	Coeficiente 1 Grado 4	Coeficiente 2 Grado 8	y^3	No es un monomio	$y+3$	$x/2$
$x^3/2$	$y+3$	No es un monomio	Coeficiente 1 Grado 3	$x/2$	Grado 4 Coeficiente 1	Grado 5 Coefic. -7	Grado 3 Coeficiente 6
$2x^2y$	y^3	Coefic. π Grado 1	πy	$-7x^5$	xy^3	Grado 3 Coefic. 0.5	$2x^3y$

5. Suma i resta les següents parelles de monomis

- a) $3/2 x^3y$, $2 x^3y$ b) $2xy$, x^3y c) x^2y^3 , $-7/4 x^2y^3$ d) πx , $6x$

Soluciones suma:

- a) $7/2 x^3y$ b) $2xy + x^3y$ c) $-3/4 x^2y^3$ d) $(\pi+6)x$

Soluciones resta:

- a) $-1/2 x^3y$ b) $2xy - x^3y$ c) $11/4 x^2y^3$ d) $(\pi-6)x$

6. Escull l'etiqueta que dóna el resultat correcte del producte dels monomis indicats en cada cas.

$4x^2y^3$	y	$5y^3$	$-9y^2$	y	$-6x$
$9x^2y^6$	$20x^2y^6$	$-15xy^2$	$96xy^2$		
$20x^2+y^6$	$-20x^2y^6$	$54x+y^2$	$54x^2y$		
$20xy^9$	$45x^2y^6$	$54xy^2$	$-54xy^2$		
Solució: fila 1 columna 2			Solució: fila 3 columna 1		

Expressions algebraiques

3. Polinomis

Què són?

La suma de diversoss monomis no semblants és un polinomi. El conjunt dels polinomis està format per monomis o sumes de monomis no semblants.

Si un dels monomis no té part literal, se l'anomena **terme independent**.

Al grau més gran dels de tots els monomis, se l'anomena **grau del polinomi**.

Anomenem els polinomis amb una lletra majúscula, i entre parèntesi les variables que l'integren, però en aquesta pàgina ens limitarem a una sola variable.

És important que sàpigues identificar els coeficients d'un polinomi segons el seu grau; així, si $P(x)=x^3+2x-4$, el seu **grau és 3** i el seu coeficient de grau tres és 1, el seu coeficient de grau ú és 2 i el terme independent o coeficient de grau zero és -4.

Sumar i restar polinomis

Per sumar o restar dos polinomis, operem els seus monomis semblants. Si no els tenen, deixem l'operació indicada.

Així, si $P(x)=3x^2+4x$ i $Q(x)=4x-1$,

$$P(x)+Q(x)=[3x^2+4x]+[4x-1]=3x^2+8x-1$$

$$P(x)-Q(x)=[3x^2+4x]-[4x-1]=3x^2+1$$

Polinomis oposats

Dos polinomis són oposats si, en sumar-los, tots els seus termes s'anul·len.

Així, si $P(x)=3x^2+4$ i $Q(x)=-3x^2-4$,

$$\text{llavors: } P(x)+Q(x)=[3x^2+4]+[-3x^2-4]=$$

$$=3x^2+4-3x^2-4=0, \text{ } Q(x) \text{ és l'oposat de } P(x).$$

Per aconseguir el polinomi oposat de $P(x)$, només hem de canviar els signes dels seus coeficients. El representarem per $-P(x)$.

Multiplicar un polinomi per un monomi



El següent exemple t'ajudarà a dominar aquesta operació.

$$P(x)=3x^2+4x \quad Q(x)=3x:$$

$$P(x) \cdot Q(x) = [5x^2+4x] \cdot [3x] = [5x2] \cdot [3x] + [4x] \cdot [3x] = 15x^3+12x^2$$

$P(x)=-7x^4 - 4x^3 + 6x^2$

Sus coeficientes, ordenados de grado mayor a menor

gr4	gr3	gr2	gr1	gr0
-7	-4	6	0	0

0 Término independiente

Su grado: 4 ¿Cuántos monomios lo forman?: 3

Valor numérico en -1: -1

$P(x)=-5x^4 - 4x^3 - 3$

Sus coeficientes, ordenados de grado mayor a menor

gr4	gr3	gr2	gr1	gr0
-5	-4	0	0	-3

-3 Término independiente

Su grado: 4 ¿Cuántos monomios lo forman?: 3

Valor numérico en -2: -83

$P(x) = -6x^5 - 8x^2 - 6x + 2$
 $Q(x) = -x^5 - x^4 + 3x^2 - 6x + 8$

Suma

Operamos los monomios semejantes por separado

-6x ⁵	-8x ²	-6x	2
+ -x ⁵	-x ⁴	3x ²	-6x
<hr/>			
-7x ⁵	-1x ⁴	-5x ²	-12x

Solución
 $P(x) + Q(x) = -7x^5 - x^4 - 5x^2 - 12x + 10$

Resta

Operamos los monomios semejantes por separado

-6x ⁵	-8x ²	-6x	2
- -x ⁵	-x ⁴	3x ²	-6x
<hr/>			
-5x ⁵	x ⁴	-11x ²	0

Solución
 $P(x) - Q(x) = -5x^5 + x^4 - 11x^2 - 6x$

Halla el opuesto de P(x)
 Cambiamos todos los signos de los coeficientes de P(x)
 $-P(x) = 6x^5 + 8x^2 + 6x - 2$

Multiplicación de un monomio por un binomio

$$2x^3y^4 \cdot (-3x^2y^2 + 4x^2y^3) = -6x^5y^6 + 8x^5y^7$$

EXERCICIS resolts

7. Amb els elements de l'esquerra, escriu el polinomi $P(x)$ que satisfà les condicions de la dreta.

$+5$	El grado de $P(x)$ es 7
-3	El coeficiente de mayor grado es -4
-4	El coeficiente de grado 5 es 5
x^7	El coeficiente de grado 3 es -3
x^5	El coeficiente de grado 0 es -5
x^3	Los demás coeficientes son todos cero.

$P(x) =$

Solució: $P(x) = -4x^7 - 3x^5 + 5x^3 - 5$

8. Calcula $P(x)-Q(x)$

$$P(x) = -x^3 + 3x^2 - \frac{4}{3}x$$

$$Q(x) = -x^3 + \frac{1}{3}x^2 + \frac{5}{2}x - 4$$

$$P(x) - Q(x) = -\frac{6}{23}x^2 - \frac{3}{8}x + 4$$

- Calcula $P(x)+Q(x)$

$$P(x) = x^3 - \frac{1}{2}x^2 + \frac{1}{5}x$$

$$Q(x) = \frac{2}{5}x^3 - x^2 + \frac{5}{4}x - \frac{5}{4}$$

$$P(x) + Q(x) = \frac{7}{5}x^3 - \frac{3}{2}x^2 + \frac{6}{20}x - \frac{5}{4}$$

9. Troba l'expressió en coeficients dels següents productes

Multiplica el polinomio
 $P(x) = -9x^4 + 8x$
 por -4 y por $11x^4$

Multiplicamos, por separado, todos los términos de $P(x)$

$$[-9x^4] \cdot [-4] = 36x^4$$

$$[8x] \cdot [-4] = -32x$$

Solución

$$P(x) = 36x^4 - 32x$$

Multiplicamos, por separado, todos los términos de $P(x)$

$$[-9x^4] \cdot [11x^4] = -99x^8$$

$$[8x] \cdot [11x^4] = 88x^5$$

Solución

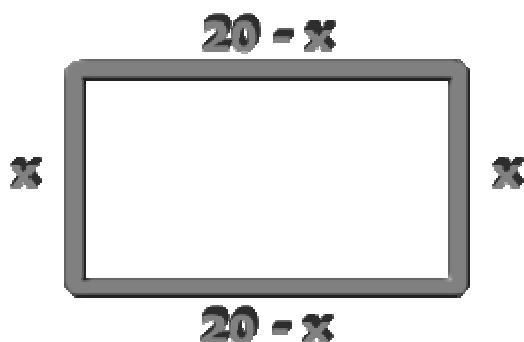
$$P(x) = 99x^8 + 88x^5$$

Expressions algebraiques




Per practicar

1. Troba l'expressió algebraica que dóna la quantitat d'unitats que determina un nombre de tres xifres.
2. La meua passa és de 69 cm. Quantes passes donaré per fer tres voltes a un circuit de a metres?
3. Si fa tres hores era al km 26 de la carretera i vaig a una velocitat mitjana de x km/h, en quin punt quilomètric de la carretera em trobo?
4. En tres quarts d'hora hi ha 45 minuts. Saps quants minuts hi ha en $2 \cdot r/s$ d'hora?
5. L'expressió algebraica que defineix el preu d'un article de y € si ens descomptem un $x\%$ és $(100 - x) / 100 \cdot y$. Troba el preu rebaixat un 25% d'un article de 52€.
6. Troba el valor numèric de $P(x) = 6x^2 + 7x + 3$ en $x=10$ i en $x=0,1$.
7. Troba el valor numèric de $(10x+y)/99$ en $x=6$ $y=8$.
8. Fem un rectangle doblegant un filferro de 40 cm. Troba l'expressió algebraica que defineix l'àrea del rectangle i calcula el seu valor en $x=4$. (Veure la figura)



9. Quin és el grau del polinomi $3x^4 + 9x^2$? Quin és el seu coeficient de grau dos? I el de grau 1? Calcula el seu valor numèric per $x=2$.

10. Multiplica $3 \cdot (6x+6y)$ i $2x \cdot (6x+6y)$. Completa les àrees dels rectangles.



11. Opera $[4x^3y^3] + [5x^4y^2]$ i $[-7x^3] + [5x^3]$
12. Opera $[-8x^2] - [-3x^2]$
13. Multiplica els monomis $[2x^5y^3]$ i $[-3xy^2]$
14. Troba l'oposat de $[-2x^2y^4]$
15. Suma els polinomis

$$-\frac{3}{4}x^3 - \frac{1}{2}x^2 - 5x - \frac{4}{5} \quad \text{i}$$

$$x^3 + x + \frac{3}{5}$$

16. Resta els polinomis

$$-\frac{3}{4}x^3 + \frac{3}{5}x - 2 \quad \text{i}$$

$$\frac{1}{4}x^3 + \frac{3}{5}x^2 + 4$$

17. Multiplica el monomi

$$-4x^7y^2$$

pel binomi


$$-4x^8y^7 - x^4y^4$$



Euclides


El S. III Euclides va escriure Els Elements en 13 volums. L'obra és la segona en nombre d'edicions publicades després de la Bíblia (més de 1000).

Las imatges corresponen a l'edició de Byrne publicada el 1847. Són les sis primeres proposicions del llibre II i representen algunes operacions de polinomis.



La Màquina Algebraica de Torres Quevedo

Són moltes les màquines precursors dels ordinadors. A les imatges veiem una aportació espanyola a aquest desenvolupament. Aquesta màquina calculava valors numèrics de polinomis.



Expressions algebraiques



**Recorda
el més important**

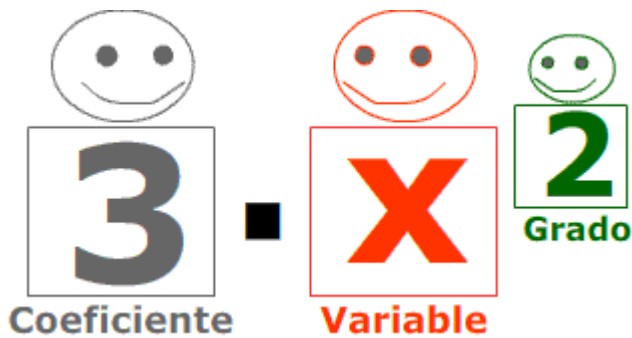
Expressions algebraiques i els seus valors numèrics




El nombre de rodes si hi ha 80 cotxes i 20 motos, és el **valor numèric** de $4x + 2y$ per $x=80, y=20$:
 $4 \cdot 80 + 2 \cdot 20 = 360$

L'**expressió** que dona el preu de les rodes si la d'un cotxe és $z€$ i la d'una moto $t€$, és $4xz + 2yt$

El cost de les rodes de 2 cotxe i una moto si la del cotxe és de 80€ i la de la motocicleta de 50€ és el **valor numèric** de $4xz + 2yt$ per $x=2, y=1; z=80, t=50$, que dona
 $4 \cdot 2 \cdot 80 + 2 \cdot 1 \cdot 50 = 740$



Monomis	Polinomis
Suma i resta monomis <div style="border: 1px solid black; padding: 10px; margin: 10px auto; width: fit-content;"> $7x^3 + 2x = 7x^3 + 2x$ $7x^3 + 2x^3 = 9x^3$ $7x^3 - 2x^3 = 5x^3$ </div>	Suma i resta polinomis <div style="border: 1px solid black; padding: 10px; margin: 10px auto; width: fit-content;"> $P(x) = 4x^3 + x - 5$ $Q(x) = 2x^3 + x^2 + 2x + 4$ $P(x) + Q(x) = 6x^3 + x^2 + 3x - 1$ $P(x) - Q(x) = 2x^3 - x^2 - x - 9$ </div>
Multiplica monomis <div style="border: 1px solid black; padding: 10px; margin: 10px auto; width: fit-content;"> $7x^3 \cdot 2x = 14x^4$ $7x^3 \cdot 2x^3 = 14x^6$ $3x^3y^2 \cdot 2x^3y = 6x^6y^3$ </div>	Multiplica un monomi per un polinomi <div style="border: 1px solid black; padding: 10px; margin: 10px auto; width: fit-content;"> $7x^3 \cdot (2x^2 + 3) =$ $= 7x^3 \cdot 2x^2 + 7x^3 \cdot 3 =$ $= 14x^5 + 21x^3$ </div>



1. Troba l'expressió algebraica que dóna les unitats del triple d'un nombre de tres xifres x y z .
2. Troba l'àrea del rectangle de l'esquerra.
3. Troba el valor numèric de $5x^3 - 4/5x^2 + 5x + 5$ per $x = -2$
4. Quin és el grau del polinomi $P(x,y) = 3x^3y^3 - 5x^2y^3$?
5. Quin és el coeficient de grau 2 de $P(x) = -5x^3 + 4x^2 - 3$?
6. $P(x)$ és un polinomi de grau 1 tal que $P(10) = 234$, $P(0,1) = 6,3$. Saps si $P(x) = 23x + 4$ o $P(x) = 2x^2 + 3x + 4$ o el polinomi no és cap dels dos?
7. Fes la següent suma de monomis: $2x^6y^5 + 3x^6y^5$
8. Troba el valor numèric per $x = 10$ de la resta dels polinomis $P(x) = 6x^2 + 4x + 1$ i $Q(x) = 2x^2 + 5x + 4$
9. Calcula la suma de $\sqrt{3}x^8 + 4x$ y $5x^8 + 3x$?
10. Quin és el grau del producte de $-6x^4y^3$ per $2x^6y^3 + 3x^8y^6$?

Expressions algebraiques

Solucions dels exercicis per practicar

1. $100x + 10y + z$

2. $100a/23$

3. $26+3x$

4. $120 \cdot r/s$ minuts

5. 39€

6. en 10, 673; en 0,1, 3,76

7. 0.686868....

8. $20x-x^2$; 64

9. 4; 9; 0; -12

10. $18x+18y$; $12x^2+12xy$

18y	12xy
18x	12x ²

11. $4x^3y^3 + 5x^4y^2$; $-2x^3$

12. $-5x^2$

13. $-6x^6y^5$

14. $2x^2y^4$

15. $\frac{1}{4}x^3 - \frac{1}{2}x^2 - 6x - \frac{1}{5}$

16. $-x^3 - \frac{3}{5}x^2 + \frac{3}{5}x - 6$

17. $16x^{15}y^9 + 4x^{11}y^6$

Solucions AUTOAVALUACIÓ

1. $300x+30y+3z$

2. $18x^2+12xy$

3. $-241/5$

4. 6

5. 4

6. $P(x)=23x+4$

7. $5x^6y^5$

8. 387

9. $(\sqrt{3} + 5)x^8 + 7x$

10. 21

No oblidis enviar les activitats al tutor ►