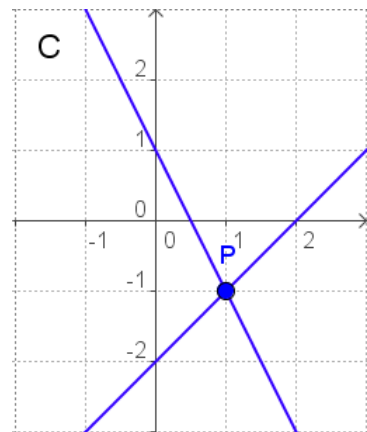
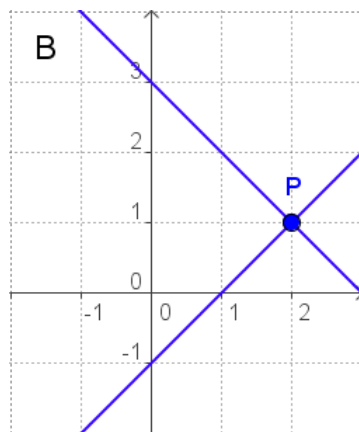
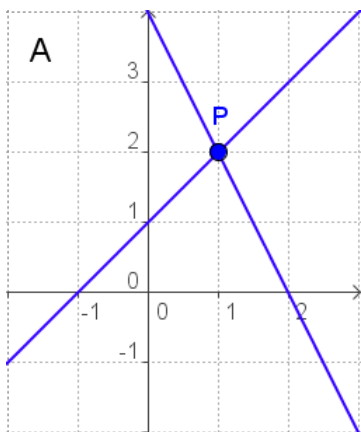


ACTIVITATS D'ESO

Nom i cognoms de l'alumne/a:		Curs: 3r
Quinzena núm.: 4	Matèria: Matemàtiques	
Data:	Professor/a de la matèria:	

1. Indica quin dels tres gràfics A, B ó C, correspon al sistema:
$$\begin{cases} 2x + y = 1 \\ x - y = 2 \end{cases}$$



2. Resol el sistema d'equacions:
$$\begin{cases} 3x + 2y = 5 \\ 4x - 7y = 1 \end{cases}$$

3. L'edat d'un pare és quatre vegades la del seu fill, i dintre de 20 anys serà el doble. Quina és l'edat actual de cadascun d'ells?