

Nom :







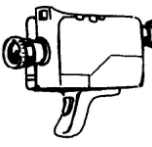

Data :

<h1>euro</h1>	<h2>LA MONEDA</h2> <p>Els euros (€) <small>(07)</small></p>
---------------	---

Recorda :

0,75 € = 0 euro i 75 cents	1,05 € = 1 euro i 5 cts	149,90 € = 149 € i 90 c
----------------------------	-------------------------	-------------------------

- Vet aquí articles extrets d'un catàleg d'una botiga d'electrodomèstics :

 Aspirador : 149,00 €	 Cafetera : 69,00 €	 Ordinador : 469 €	 Televisió : 150,00 €
 Videojoc: 175,00 €	 Rellotge : 23,50 €	 Càmera : 85,00 €	 Moble: 89,00 €

1./ El pare de l'Arnau compra 1 ordinador i 1 videojoc.

- Quant ha de pagar ?

.....

.....

- El venedor li fa una rebaixa de 25 euros. Quant haurà de pagar ?

.....

.....

2./ La mare del Francesc compra 1 televisió i 1 rellotge.

- Quant ha de pagar ?

.....

.....

- Paga amb 2 bitllets de 100 €. Quant li tornarà el venedor ?

.....

.....

3./ La mare de la Sandra compra 1 aspiradora i 1 cafetera .

Paga amb 1 bitllet de 100 i 2 bitllets de 50.

Quant li ha de tornar la caixera ?

.....

.....

4./ La Sofia reb 7 euros de paga cada setmana.

Quant de temps haurà d'estalviar per poder-se comprar una càmera ?

.....

.....