



Departament d'Antropologia

CIÈNCIES SOCIALS 2n ESO

DOSSIER DE PROVA DE RECUPERACIÓ

Nom**Data.....Grup.....**

ISLAM I AL-ANDALUS

1. Relaciona cada paraula amb la seva definició:

BÀRBARS	Habitants de l'Imperi Romà d'Orient
VISIGOTS	Estrangers segons els romans
BIZANTINS	Poble germànic establert a la Península Ibèrica
ÀRABS	Poble germànic establert a la Gàl·lia
FRANCS	Naturals de la península d'Àrabia

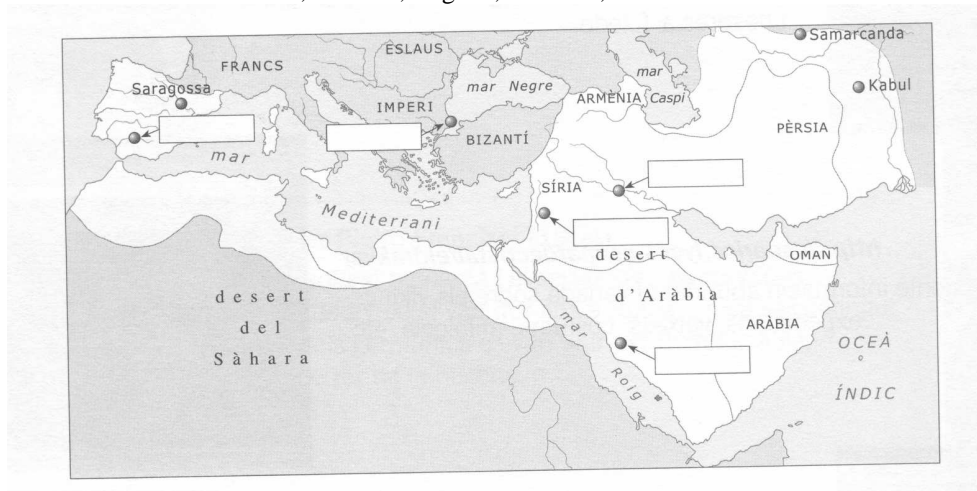
2. Completa el text amb les paraules del quadre:

Al·là - islam - Àrabia - Alcorà - Mahoma

.....era originari de la península d'..... Després d'una revelació divina va crear una nova religió, l'.....que defensava l'existència d'un únic Déu:
.....Els seus ensenyaments van ser recollits en el llibre sagrat anomenat.....

3. Localitza en el mapa el nom de les següents ciutats. Quina de totes no era islàmica en el s. XIII.?

- La Meca, Damasc, Bagdad, Còrdova, Constantinoble-



4. Ordena cronològicament aquests fets o fases de la història d'Al-Andalus

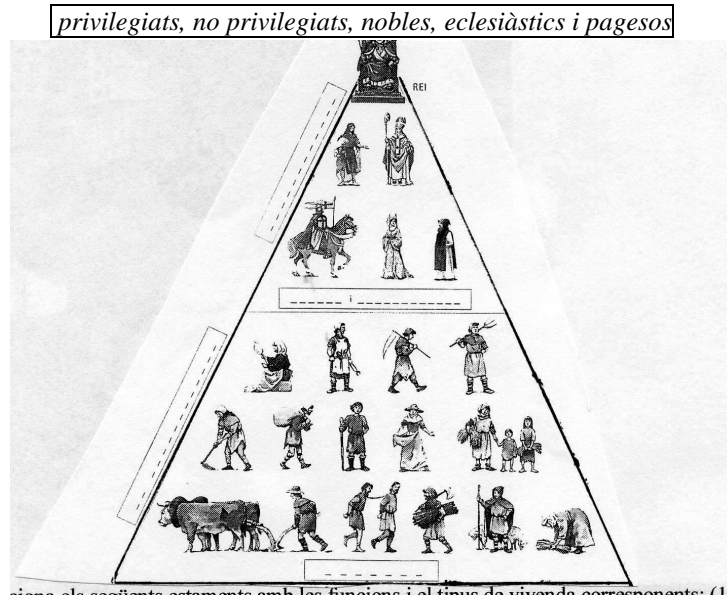
Regnes de taifes –conquesta de la Península – regne nassarita de Granada –emirat dependent – emirat independent – califat de Còrdova

- I. –
- II. –
- III. –
- IV. –
- V. –
- VI. –

5. Enumera almenys quatre invents o productes que ens aportaren els musulmans:

FEUDALISME

6. Completa la PIRÀMIDE FEUDAL escrivint al requadre corresponent, el nom de cadascun dels estaments que formaven la societat medieval. (1 punt)

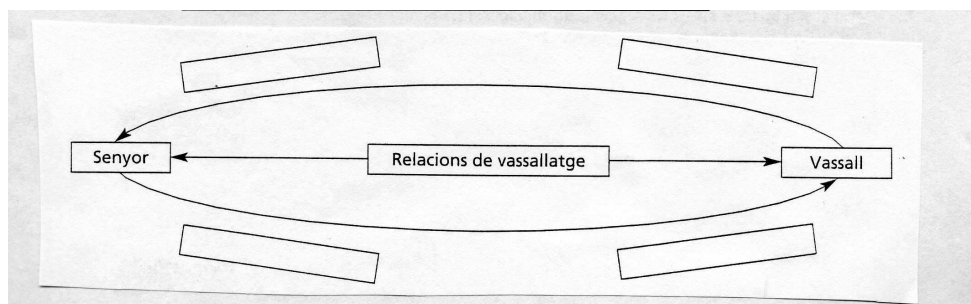


7. Relaciona els següents estaments de la societat feudal amb les funcions i el tipus de vivenda corresponents:

- | | | |
|------------|---|----------|
| a. Noblesa | Treballaven per mantenir la resta de la població | Monestir |
| 1. Clergat | Es dedicaven a la guerra i defensaven la societat amb armes | Castell |
| 2. Pagesos | Resaven per tenir cura de les ànimes amb les seves oracions | Llogaret |

8. Omple el següent quadre sobre la cerimònia del vassallatge i sobre els drets i obligacions que prenen el senyor i el vassall:

Li jura fidelitat	Li dona ajuda, fonamentalment militar
Li ofereix protecció	Li concedeix una propietat



9. Defineix les següents parts d'un monestir, tot explicant la seva funció:

a. Sala capitular:

b. Biblioteca:

c. Refetor:

d. Claustre:

10. Observa la següent il·lustració i identifica elements de l'Edat Mitjana i descriu com era la vida al feu.

