



Departament d'Antropologia

CIÈNCIES SOCIALS 2n ESO

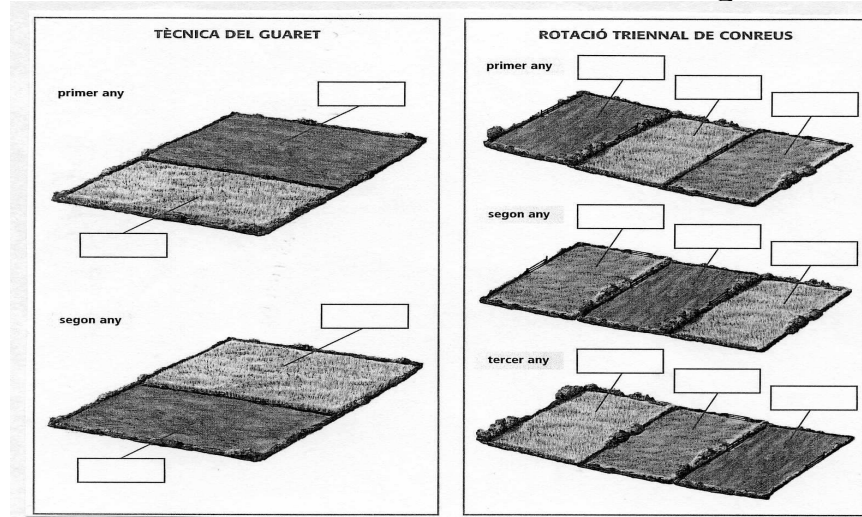
DOSSIER DE PROVA DE RECUPERACIÓ
Dossier B

CURS 2008-2009

Nom **Data.....** **Grup.....**

CIUTAT MEDIEVAL

11. Omple els següents esquemes i digues quin correspon al sistema de rotació biennal i quin al triennal. Digues en quin es treuen més beneficis i per què. Explica que vol dir guaret.



12. Defineix els següents conceptes:

- Fira:
- Excedent agrícola:
- Gremi:
- Burgesia:

13. Analitzeu un text històric. Llegeix atentament el text que tens a continuació i després constesta les preguntes:


Ningú no pot ser teixidor de llana si abans no ha comprat l'ofici al rei (...).
Cada teixidor pot tenir dos telers a casa seva (...) i cada fill de mestre teixidor en pot tenir dos a casa del seu pare mentre sigui solter i si sap treballar amb les seves mans (...).
Cada mestre pot tenir a casa seva un aprenent, no més (...). I ningú no pot començar a treballar abans de la sortida del sol, sota pena d'una multa de dotze diners per al mestre i sis per a l'oficial (...).
Els oficials han de plegar de la feina en el moment que soni el primer toc de vespres (...).

Reglament gremial de la ciutat de París.

- A què es refereix aquest reglament?
- Quines condicions s'exigien al mestre artesà que estava agremiat?
- Quin horari de feina tenia? Qui l'assenyalava? Com es castigava si algú no el complia?
- Quins avantatges i quins inconvenients podia tenir un gremi a l'edat mitjana?

14. ART


a. Descriu les següents imatges arquitectòniques pròpies de l'art islàmic:



Arc de f.....

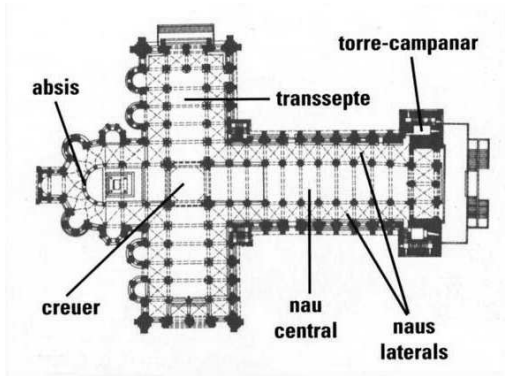
Arc l.....

b. Descriu les següents imatges d'arquitectura romànica:




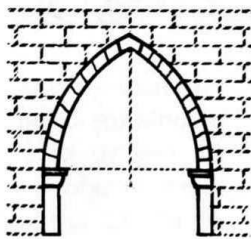
Arc de

Volta de



Planta de

c. Identifica els elements arquitectònics de l'arquitectura gòtica en les imatges:



Arc

C.....

R.....