



Departament d'Antropologia

CIÈNCIES SOCIALS 2n ESO

DOSSIER DE PROVA DE RECUPERACIÓ
Dossier C

Nom**Data.....Grup.....**

CATALUNYA A L'EDAT MITJANA

14. Observa el mapa i respon a les qüestions:



- Justifica els noms de Catalunya Vella i Nova. Qui ocupava cada territori?

- Quin comte català va iniciar la independència respecte dels francs a finals del s. X? Per què?

15. Llegeix el següent text i respon a les qüestions:

11 d'agost de 1137. Barbastre

En nom de Déu. Jo, Ramir, per la gràcia de Déu rei d'Aragó, et dono a tu Ramon, comte de Barcelona i marquès, la meua filla per muller, amb tot el regne d'Aragó íntegrament, tal com el meu pare, el rei Sanç (I) i els meus germans Pere (I) i Alfons (I) no el tingueren mai millor ni el posseïren, ells ni ningú de cap sexe a través d'ells (...).

I t'encomano tots els homes del regne en homenatge i jurament, que et siguin fidels en allò que toca a la teua vida, a tot el regne predit i a totes les coses que s'hi refereixin, salvada la fidelitat a mi i a la meua filla. (...)

Redactat el dia 3 dels idus d'agost de l'any de l'Encarnació del Senyor de (1)137, regnant el predit rei Ramir. Signatura de Ramir.

Liber Feudorum Maior.
Traducció del llatí.

- a. A l'acord matrimonial de quins personatges es refereix?

- b. Quines circumstàncies el van afavorir?

- c. Què va representar aquesta unió?

- d. Quin nom rebrà aquesta nova organització política?

16. Llegeix el text i respon a les qüestions:

Les primeres conquestes

Jaume I fou el monarca que reprengué la tradició reconqueridora dels seus avantpassats interrompuda durant el regnat del seu pare, fins al punt que amb l'esforç d'ell i dels seus súbdits la Corona augmentà en un vint-i-cinc per cent la seva superfície territorial. Un cop superades les dificultats d'ordre intern, com les lluites nobiliàries i el quasi empresonament de Saragossa, el jove rei (tenia divuit anys) començà

a desenvolupar una política personal i independent, que fou la d'iniciar l'avanç català vers el sud. Des d'aleshores (1225) el seu objectiu fou el regne sarraí de València, encara que hagué d'ajornar el projecte i tardà un any a reprendre les expedicions guerreres en aquestes terres, zona d'expansió natural de Catalunya i Aragó.

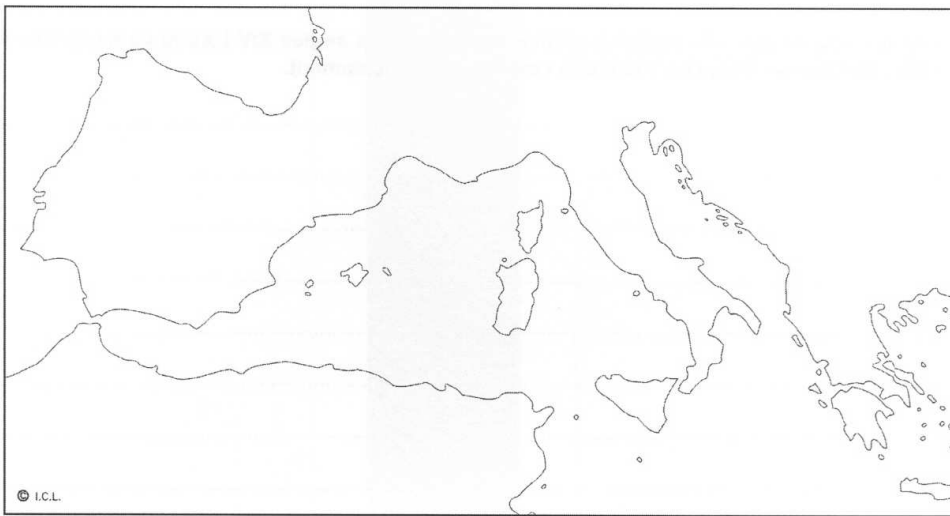
C. BATLLE, Conèixer la Història de Catalunya. Del segle XIII al XV, vol. 2, 1983.

- a. Qui va ser Jaume I?

- b. De quins regnes va ser rei?

- c. Per què va rebre el sobrenom d'El Conqueridor?
- d. En quin segle va viure?
- e. Quin regne va conquerir Jaume I en el seu avenç vers el sud de la península ibèrica?
- f. Quina era la religió dels habitants dels regne sarraí de València?


17. Treballa amb el mapa i respon a les qüestions:



- a. Localitza en el mapa els territoris conquerits per la Corona d'Aragó. Identifica'ls amb el nom.
- b. Explica quines van ser les causes de l'expansió peninsular i marítima de la Corona d'Aragó.

- c. En quins segles es va produir la màxima expansió?

18. Analitza la següent imatge i respon a les qüestions:



- Explica què representa aquesta il·lustració
- Qui és el personatge central? I els que l'envolten?
- Explica en què consistia el pactisme

PENÍNSULA IBÈRICA A L'EDAT MITJANA

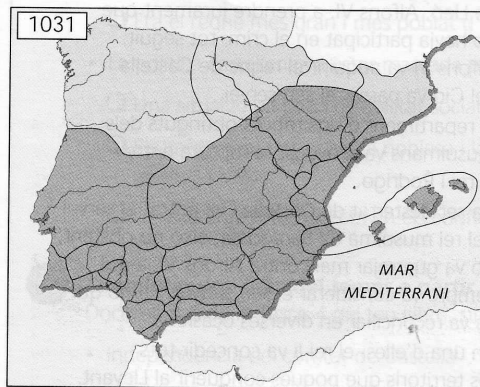
19. Identifica els següents personatges:

Pelagi	noble castellà, anomenat el Cid Campeador, que va lluitar contra els almoràvits.
Ferran III	cabdill musulmà d'Al-Andalus que lluità contra els cristians.
Almanson	monarca castellà que va conquerir les terres del Guadalquivir.
Rodrigo Díaz de Vivar	noble visigòtic que liderà la batalla de Covadonga (722) contra els musulmans.

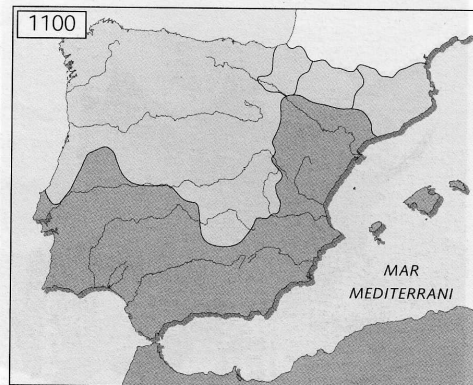
20. Relaciona els següents conceptes amb la definició corresponent:

Mesta	Estat establert pels musulmans a la Península Ibèrica.
Almoràvits	Associació encarregada de regular la transhumància de les ovelles
Al-Andalus	Ocupació de les terres deshabitades o conquerides pels cristians.
Re població	Guerrers d'un imperi islàmic al nord d'Àfrica que van entrar a la península.

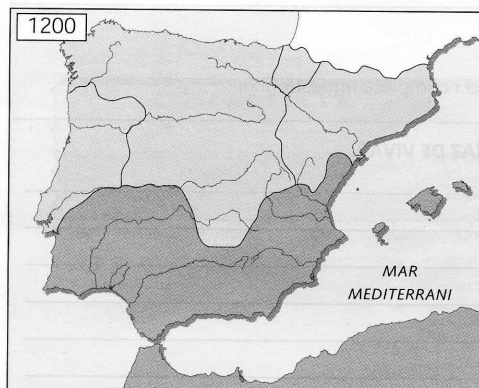
21. Situa les paraules que hi ha a sota de cada mapa en el lloc que corresponen:



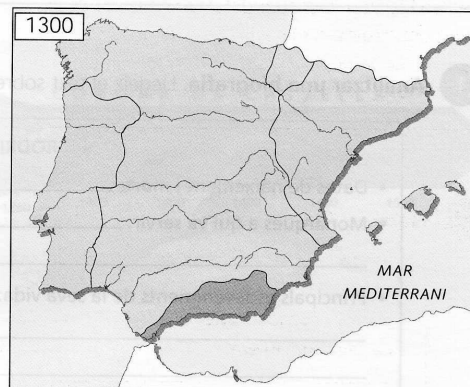
- a) Territoris cristians
- b) Regnes de taifes



- a) Imperi almoràvit
- b) Castella
- c) Lleó
- d) Navarra
- e) Aragó
- f) Comtats catalans



- a) Catalunya
- b) Imperi almohade
- c) Lleó
- d) Navarra
- e) Aragó



- a) Regne de Granada
- b) Castella
- c) Navarra
- d) Aragó

- a. Quins quatre espais polítics hi havia en l'últim període?
- b. Quins dos espais culturals existien (religió)?
- a. Explica com va evolucionar el territori cristià i el territori musulmà?
- b. Quina Corona va aconseguir la màxima expansió?